

Sosyal Bilgiler

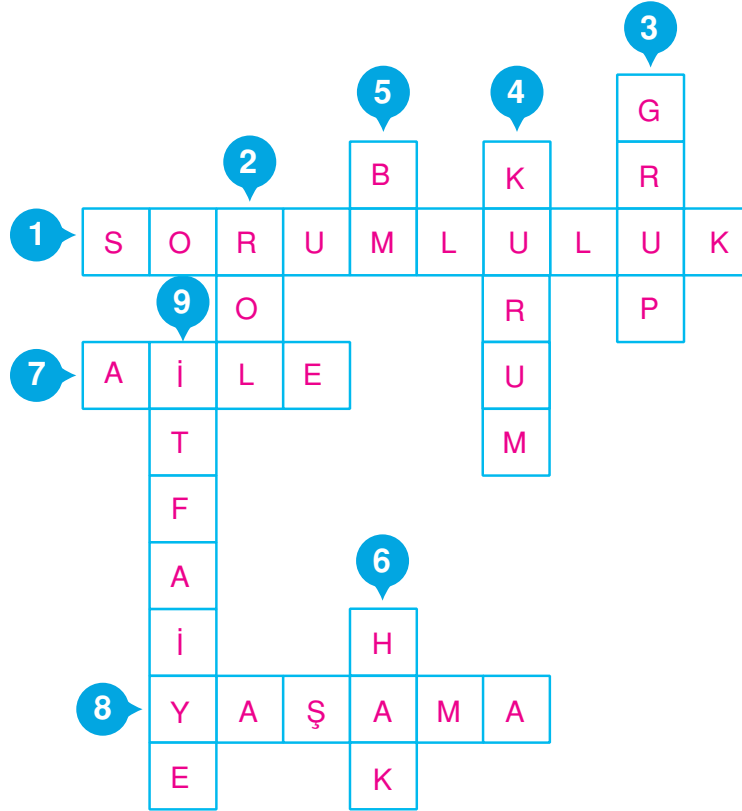
1. DÖNEM 1. TATİL SORULARI

1. Aşağıda verilen ifadelerden doğru olanların başındaki kutuya “D”, yanlış olanların başındaki kutuya “Y” harfi koyunuz.

- Y Her birey on beş yaşına kadar çocuk sayılır.
- D Çocuk hakları bütün çocuklar içindir.
- D Her çocuğun bir isme ve vatandaşlığına sahip olma hakkı vardır.
- Y Her çocuğun, ne olursa olsun, ailesi ile yaşaması gerekir.
- D Anne ve babanın izni olmadan hiçbir çocuk başka ülkeye götürülemez.
- Y Çocuğun özel yaşamı yoktur.
- D Engelli çocuklar özel olarak korunur.
- D Bütün çocuklar zararlı maddelere karşı korunur. Bu maddeleri satan kişiler cezalandırılır.
- Y Çocuklar aile bütçesine katkıda bulunmak için her türlü işte çalışabilir.
- D Çocuk haklarının korunması için UNICEF kurulmuştur.
- D 20 Kasım, Dünya Çocuk Günü olarak kutlanır.
- D Sosyal Bilgiler dersi olmasaydı en temel haklarımızdan biri olan yaşama hakkını öğrenmezdik.
- Y Sosyal Bilgiler dersinde özgürlüklerimizin sınırsız olduğunu öğreniriz.
- Y Olaylar tek boyutludur.
- Y Bir olayın sadece bir sonucu vardır.
- D Farklı kişiler, aynı olaya farklı tepkiler verebilir.

Sosyal Bilgiler

2. Aşağıdaki bulmacayı doldurunuz.



- 1 Bireyin yerine getirmesi gereken yükümlülüklerdir.
- 2 İnsanların gruplardaki ve kurumlardaki konumlarıdır.
- 3 Aynı amaç doğrultusunda bir araya gelen insanların oluşturduğu topluluktur.
- 4 Toplumsal bir görevi yerine getirmek için yasalarla oluşturulan kuruluşlardır.
- 5 Çocuk Hakları Sözleşmesi'nin kabul edildiği yerin kısaltılmasıdır.
- 6 Hukukun kişiye ayırdığı kazançtır.
- 7 Üyesi olduğumuz ilk gruptur.
- 8 En önemli çocuk hakkıdır.
- 9 Yangınları söndürmek için kurulan kurumdur.

Sosyal Bilgiler

3. Aşağıdaki bilgilerin karşısına ilgili olduğu uygarlığı yazınız.

1	İlk kütüphaneyi kurmuşlardır.	Asurlular
2	Yazıyı icat etmişlerdir.	Sümerler
3	Hammurabi Yasaları'nı yapmışlardır.	Babiller
4	Başkentleri Ninova'dır.	Asurlular
5	Ziggurat adı verilen gözlemevini yapmışlardır.	Sümerler
6	Asma Bahçeleri önemli bir Dünya Harikası'dır.	Babiller
7	Anadolu'ya yazıyı getirmişlerdir.	Asurlular
8	Gılgamış Destanı'nı oluşturmuşlardır.	Sümerler
9	Tekerleği icat etmişlerdir.	Sümerler
10	Kayseri'de (Kültepe) ticaret şehri oluşturmuşlardır.	Asurlular

4. Hammurabi Yasaları ile ilgili metni okuyarak soruları yanıtlayınız.



Ben Hammurabi, Babil kralyım. Sümer Kralı Urgakina'nın yaptığı kanunları geliştirerek ilk anayasayı yaptım. Benim kanunlarıma göre:

- Bir kişi kendinden alt sınıftaki bir kişinin dişine zarar verirse 166 gr gümüş öder. Aynı sınıftaki kişiye zarar verirse onun da dişi çekilir.
- Bir adamın gözünü çıkaranın gözü çıkarılır.
- Bir hırsız bir eve girmişse ölümle cezalandırılır.
- Bir adamın yaptığı ev çöküp ev sahibinin oğlu ölürse evi yapan adamın da oğlu öldürülür.

- a) Hammurabi Kanunları, hangi ülkenin kanunlarından etkilenecek yapılmıştır?
Sümerler.....
- b) Cezalar sadece suçluya mı verilmiştir? Açıklayınız.
Hayır. Suç işleyen akrabalara da cezalandırılmıştır.....
- c) Cezalar toplumdaki kişilere eşit uygulanmış mıdır? Hangi kesime ayrıcalık tanınmıştır?
Hayır. Soylu sınıf gözetilmiştir.....
- d) Suçlulara ne gibi cezalar verilmiştir?
Ölüm, bir organa zarar verme vb.....
- e) Babil Kanunları'nı günümüz hukuk kuralından ayıran özellikler nelerdir?
Günümüz kanunlarında suçun şahsiliği ilkesi vardır. Sadece suç işleyen cezalandırılır.....

Sosyal Bilgiler

5. Aşağıdaki tarihî eserlerin özelliklerinden faydalanarak hangi şehirde olduklarını yazınız.

Türkiye’de Yer Alan Başlıca Tarihî Eserler		
Tarihî Eserin Adı	Bulunduğu Yer	Özelliği
Aspendos TiyatrosuAntalya.....	MS 2. yüzyılda Romalılar tarafından yapılmıştır.
Artemis Tapınağıİzmir.....	İyonyalılar tarafından Efes’te yaptırılmıştır. Dünyanın Yedi Harikası arasındadır.
Efes Celsus Kütüphanesiİzmir - Selçuk.....	Roma Dönemi’nde 100 - 135 yılları arasında inşa edilmiştir. Zamanında 14.000 kadar kitaba ev sahipliği yapmıştır.
Çemberlitaş Sütunuİstanbul.....	Roma Dönemi’nde yapılmıştır. İstanbul’un yedi tepesinden birine dikilmiştir. 8 adet sütunun üst üste konmasıyla oluşmuştur.
Galata Kulesiİstanbul.....	Bizanslılar tarafından yaptırılmıştır. Cenevizliler bu kuleyi 1348 yılında tekrar yapmışlardır.
Sultan Ahmet Camiiİstanbul.....	Osmanlı Sultanı I. Ahmet tarafından yaptırılmıştır. Çinilerinden dolayı Avrupalılar Blue Mosque (Mavi Camii) olarak adlandırır.
Divriği Ulu CamiiSivas.....	Mengücekliler yaptırmıştır. 1985 yılında UNESCO Dünya Miras Listesi’ne alınmıştır.
Karatay MedresesiKonya.....	Selçuklu Devlet adamı Emir Celaeddin Karatay tarafından yaptırılmıştır. Selçuklu taş işçiliğinin şaheser bir örneğidir.
Çifte Minerali MedreseErzurum.....	Selçuklu Devleti tarafından yaptırılmıştır. Açık avlu medreselerinin en büyük örneğidir.
Dikilitaş (Sultan Ahmet)İstanbul.....	MS 390 yılında Romalılar tarafından Mısır’dan getirilmiştir. Üzerinde hiyeroglif yazısı vardır.
AnıtkabirAnkara.....	Türk milletinin kurtarıcısı olan Atatürk’ün mezarıdır.
Dolmabahçe Sarayıİstanbul.....	1856 yılında Osmanlı Devleti tarafından yapılmıştır. Günümüzde müze olarak kullanılmaktadır.

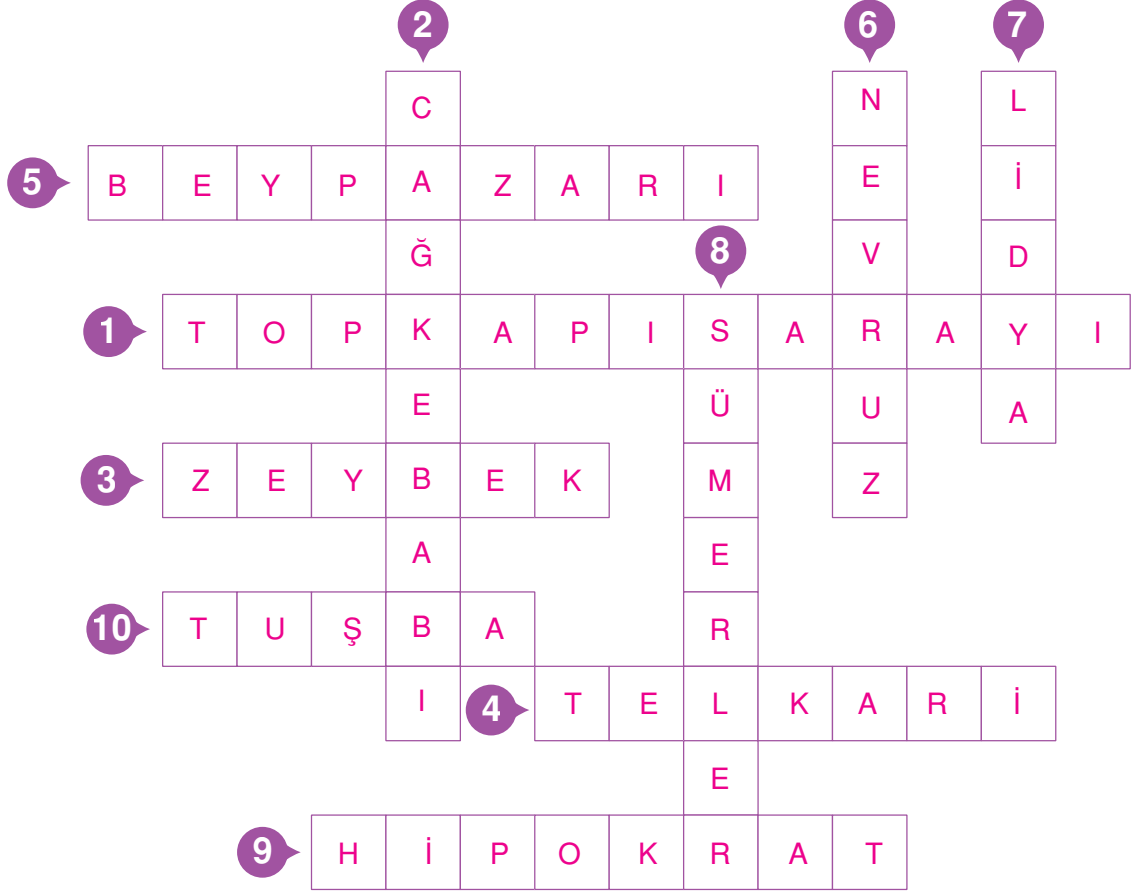
Sosyal Bilgiler

6. Aşağıdaki doğal güzelliklerin özelliklerinden faydalanarak hangi şehirde olduklarını yazınız.

Doğal Güzelliklerimiz		
Doğal Güzelliğin Adı	Bulunduğu Yer	Özelliği
Manavgat ŞelalesiAntalya.....	Manavgat Nehri üzerinde bulunur. Irmak sularının 3 - 4 m'lik bir falezden düşmesiyle meydana gelir.
Ölü DenizMuğla.....	Yamaç paraşütünün yapıldığı, dünyanın en güzel kumsallarının olduğu yerdir.
UludağBursa.....	2543 metre yüksekliğindedir. Türkiye'nin en büyük kış sporları merkezidir.
İnsuyu MağarasıBurdur.....	İçinde küçük büyüklü 9 adet göl bulunmaktadır. Kalkerli kayaların erimesi sonucu oluşmuşlardır.
Balıkli GölŞanlıurfa.....	İbrahim Peygamber'in ateşe atıldığında düştüğü yer olarak bilinir.
UzungölTrabzon.....	Sık ormanları ve doğal güzelliği ile turistleri cezbetmektedir.
İstanbul Boğazıİstanbul.....	Asya ile Avrupa'yı birbirinden ayıran su yoludur.
Kaz Dağı Millî ParkıBalıkesir.....	Önemli bitkilerin yetiştiği bir alandır. Burada 77 tane Türkiye'ye özgü tür tespit edilmiştir.
Manyas Kuş CennetiBalıkesir.....	Burada yaklaşık olarak 266 kuş türü yaşar. Tatlı su istakozu üretilir.
Cennet - Cehennem ObruklarıMersin.....	Cennet 90 m derinliğinde bir çukurdur. İçinin yemyeşil olması ve dibinde akarsuyun varlığı nedeniyle Cennet denmiştir.
Düden ŞelalesiAntalya.....	Şehir merkezine 8 km uzaklıktadır. 40 metrelik falezlerden dökülen sular şelaleyi oluşturur.
Akdamar AdasıVan.....	Van Gölü'nün içinde yer alan ikinci büyük adadır. Üzerinde Ermeni Kilisesi vardır.
Tortum ŞelalesiErzurum.....	22 metrelik genişlikten, 48 metre yükseklikten düşmektedir.
Ağrı DağıAğrı.....	5137 metrelik rakımıyla Türkiye'nin en yüksek dağdır. İran'ın 16 km batısında ve Ermenistan'ın 32 km güneyindedir.

Sosyal Bilgiler

7. Aşağıdaki bulmacayı doldurunuz.



- 1 Osmanlı Devleti'nin Fatih Sultan Mehmet Dönemi'nde devlet merkezi olarak kullanılan saraydır.
- 2 Erzurum yöresine ait etli bir yemektir.
- 3 Ege Bölgesi'nde oynanan bir halk oyunudur.
- 4 Gümüş işlemeciliğine verilen isimdir.
- 5 Evleri ile ünlü bir ilçemizdir.
- 6 Bahar bayramı olarak kutlanan bir günümüzdür.
- 7 Parayı bulan uygarlıktır.
- 8 Yazıyı icat eden uygarlıktır.
- 9 Tıp biliminin kurucusu olan İyonyalı bilim insanıdır.
- 10 Urartuların başkentidir.

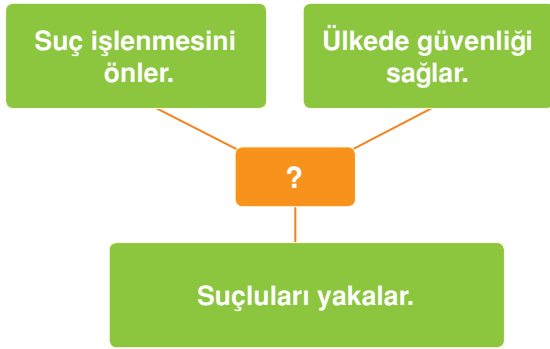
SOSYAL BİLGİLER DEĞERLENDİRME TESTİ

1. Mehmet Bey bir şirkette müdürlük yapmaktadır. 2 çocuğu vardır. Mehmet Bey bir spor salonuna üyedir.

Metne göre Mehmet Bey'in üstlendiği roller aşağıdakilerden hangisinde doğru verilmiştir?

- A) Yönetici - Baba - Sporcu
 B) Memur - Baba - Başkan
 C) Baba - Başkan - Müdür
 D) Yönetici - Başkan - Büyükbaba

2.



Tabloda “?” ile gösterilen yere aşağıdaki kurumlardan hangisi yazılmalıdır?

- A) Nüfus Müdürlüğü
 B) Emniyet Müdürlüğü
 C) Belediye
 D) Okul

3.

Kurum	Rol
I. Hastane	- Doktor
II. Tiyatro	- Oyuncu
III. Emniyet Müdürlüğü	- Polis
IV. Belediye	- Gazeteci

Yukarıda verilen kurum - rol eşleştirmelerinden hangisi yanlıştır?

- A) I B) II C) III D) IV

4.



Aslı

Bugün evimize misafirler gelecek, o yüzden herkes hazırlık yaptı. Annem güzel yemekler hazırladı. Ablam evi temizledi. Benim de ekmek almam gerekiyordu. Ancak ekmek almayı unuttum. Vakit geç olduğu için de ekmek almaya çıktığımda ekmeğin kalmadığını gördüm.

Bu bilgilere göre aşağıdakilerden hangisi söylenemez?

- A) Aile içinde iş bölümü yapılmıştır.
 B) Aslı rolünün gerektirdiği sorumluluğu yerine getirmemiştir.
 C) Aslı'nın annesi ile ablası görevlerini yapmıştır.
 D) Aslı'nın rolünü yerine getirmemesi hiçbir aksaklığa neden olmamıştır.

5.



Burcu

Bugün derste Türkiye'nin iklimi ile ilgili bilgiler öğrendim.

Buna göre Burcu aşağıdaki hangi ders-ten söz etmiştir?

- A) Sosyal Bilgiler B) Matematik
 C) Türkçe D) Fen Bilimleri

6.



- ✓ 5. sınıfa gidiyorum.
- ✓ Basketbol takımının kaptanıyım.
- ✓ Bir ablam var.

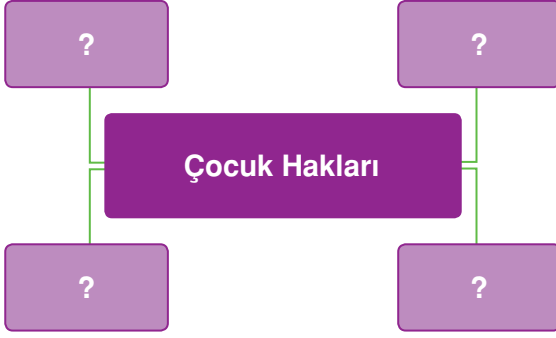
Onur kendisi ile ilgili bazı bilgiler vermiştir.

Buna göre Onur aşağıdaki rollerden hangisini üstlenmemiştir?

- A) Öğrenci B) Kardeş
 C) Sporcu D) Solist

SOSYAL BİLGİLER DEĞERLENDİRME TESTİ

7.



“?” ile boş bırakılan yerlere aşağıdaki-lerden hangisi getirilemez?

- A) Savaştan korunmalıdır.
- B) Çocuklar ağır işte çalıştırılmaz.
- C) Eğitimlerini sürdürmeleri için desteklenir.
- D) Büyüklerin olduğu bir yerde çocukların düşüncelerini açıklamaması gereklidir.

8.



Ben Afrikalı bir çocuğum. Ülkemde iç savaş yaşandığı için yakınlarımdan bazıları öldü. Okulumuz kapandı. Gıda bulmakta zorlanıyoruz.

Afrikalı çocuğun söylediği sözlere göre aşağıdaki haklarından hangisi ihlal edilmiştir?

- A) Düşünceyi açıklama
- B) Eğitim görme
- C) Beslenme
- D) Savaştan korunma

9.



Okul kantininden yararlanmak



Dişleri fırçalamak



Okul bahçesinin temizliğini yapmak



Evi temizlemek

Yukarıda verilen görsellerin hangisi çocuk hakları ile ilgilidir?

- A) 1
- B) 2
- C) 3
- D) 4

10. 1. Oyun oynamak

- 2. Ev işlerinde ailemize yardım etmek
- 3. Sağlıklı yaşam sürmek
- 4. Ödevlerimizi yapmak

Yukarıda verilenlerden hangileri çocukların sorumlulukları arasındadır?

- A) 1 ve 2
- B) 2 ve 3
- C) 1 ve 3
- D) 2 ve 4

SOSYAL BİLGİLER DEĞERLENDİRME TESTİ

11. Millî Eğitim Bakanlığı ilköğretimde okuyan çocukların okullara yaptığı devamsızlığı takip eder. Devamsızlığı belli bir günü geçen öğrencilerin ailelerine mektup gönderir. Eğer çocuğu anne ve babası bilerek okula göndermiyorsa o anne ve babayı yetkili kurumlara bildirir.

Buna göre Millî Eğitim Bakanlığı çocukların hangi hakkını korumaya çalışmıştır?

- A) Eğitim
B) Yaşama
C) Çalışma
D) Barınma

12. İyonlarda Tales, Pisagor, Herodot gibi bilim insanlarının yetişmesinin en önemli nedeni aşağıdakilerden hangisidir?

- A) Deniz ticaretinde ileri gitmeleri
 B) Özgür düşünce ortamının olması
C) Şehir devletleri hâlinde yaşamaları
D) Tarım faaliyetlerinin yapılması

13. Urartularla ilgili verilen bilgilerden hangisi yanlıştır?

- A) Başkentleri Tuşba'dır.
B) Maden işlemeciliğinde ilerlemişlerdir.
 C) Kral Yolu'nu yapmışlardır.
D) Mezarlarını oda şeklinde yapmışlardır.



Tekerlek

İlk kütüphane



İlk yazılı kanunlar

İlk para

Yukarıda verilenlerden hangisi Anadolu uygarlıklarına aittir?

- A) 1 B) 2 C) 3 D) 4

15. 1. Kral Yolu'nu yaptılar.
2. Parayı icat ettiler.
3. Mezarlarını tümüslere koydular.
4. Tarım yaptılar.

Yukarıda Lidyalılarla ilgili verilen bilgilerden hangileri Lidyalıların ticarete ileri gittiğini gösterir?

- A) 1 ve 2 B) 2 ve 3
C) 3 ve 4 D) 1 ve 4

16. Bir turist grubu, Galata Kulesi'ni Pamukkale Travertenlerini ve Zeugma Antik Kenti'ni gezmiştir.

Buna göre bu turist grubu aşağıdaki illerden hangisine gitmemiştir?


- A) İstanbul B) Bursa
C) Denizli D) Gaziantep

SOSYAL BİLGİLER DEĞERLENDİRME TESTİ

17. 1




Çemberli Taş



Sultan Ahmet



Dikilitaş



Çifte Minerali
Medrese

Yukarıda verilen tarihî eserlerden hangisi İstanbul'da yer almaz?

- A) 1 B) 2 C) 3 **D) 4**

18. • Volkanik arazinin akarsuların aşındırmasıyla oluşmuştur.
• Ürgüp, Göreme, Zelve bölgelerinde yer alır.
• Balonlarla turistler gezdirilir.

Bu özellikler aşağıdaki hangi doğal varlığa aittir?

- A) Peribacaları**
B) Manavgat Şelalesi
C) Yedi Göller
D) Uzungöl

19. Aşağıda verilen eşleştirmelerden hangisi yanlıştır?

Eser	Bulunduğu İl
A) Süleymaniye Camii	İstanbul
B) Kız Kalesi	Mersin
C) Selimiye Camii	Erzurum
D) Nemrut Heykelleri	Adıyaman

20. Aşağıda verilen eserlerden hangisi geleneksel Türk mimarisine örnek gösterilemez?

A)	B)
Safranbolu Evleri	Cumalıkızık Evleri
C)	D)
Beypazarı Evleri	Artemis Tapınağı