

UYGUN

SOSYAL BİLGİLER YAZILI KİTABI

7

KOORDİNATÖR
Sadık UYGUN

HAZIRLAYAN
Canan DAYI

AR-GE : Gürkan GÜLENER
Editör : Dr. Özgür AYDIN
Prg. Gel. Uzm. : Özden TAŞAR
Pedagog : Hilâl GENÇAY
Danışman : Psikiyatr Agâh AYDIN
Dizgi : Sadık Uygun Eğitim Yayınları
Baskı : Yazın Matbaası / İstanbul

SADIK UYGUN EĞİTİM YAYINLARI

Karadolap Mah. Neşeli Sk. Nu.:14 Yeşilpınar/Eyüp - İSTANBUL
Tel.: (0212) 625 35 35 www.sadikuygun.com.tr

İSTİKLÂL MARŞI

Korkma, sönmez bu şafaklarda yüzen al sancak;
Sönmeden yurdumun üstünde tüten en son ocak.
O benim milletimin yıldızıdır, parlayacak;
O benimdir, o benim milletimindir ancak.

Çatma, kurban olayım, çehreni ey nazlı hilâl!
Kahraman ırkıma bir gül! Ne bu şiddet, bu celâl!
Sana olmaz dökülen kanlarımız sonra helâl...
Hakkıdır, Hakk'a tapan, milletimin istiklâl!

Ben ezelden beridir hür yaşadım, hür yaşarım.
Hangi çılgın bana zincir vuracakmış? Şaşarım!
Kükremiş sel gibiyim, bendimi çiğner, aşarım.
Yırtarım dağları, enginlere sığmam, taşarım.

Garbın âfâkını sarmışsa çelik zırhlı duvar,
Benim iman dolu göğsüm gibi serhaddim var.
Ulusun, korkma! Nasıl böyle bir imânı boğar,
"Medeniyet!" dediğin tek dişi kalmış canavar?

Arkadaş! Yurduma alçakları uğratma, sakın.
Siper et gövdeni, dursun bu hayâsızca akın.
Doğacaktır sana va'ettiği günler Hakk'ın...
Kim bilir, belki yarın, belki yarından da yakın.

Bastığın yerleri "toprak!" diyerek geçme, tanı:
Düşün altındaki binlerce kefensiz yatanı.
Sen şehid oğlusun, incitme, yazıktır, atanı:
Verme, dünyaları alsan da, bu cennet vatanı.

Kim bu cennet vatanın uğruna olmaz ki fedâ?
Şühedâ fişkırarak toprağı sıksan, şühedâ!
Cânı, cânânı, bütün varımı alsın da Huda,
Etmesin tek vatanımdan beni dünyada cüdâ.

Ruhumun senden, İlâhi, şudur ancak emeli:
Değmesin mabedimin göğsüne nâ-mahrem eli.
Bu ezanlar -ki şehadetleri dinin temeli-
Ebedî yurdumun üstünde benim inlemeli.

O zaman vecd ile bin secde eder -varsa- taşım,
Her cerihamdan, İlâhi, boşanıp kanlı yaşım,
Fıskırır ruh-ı mücerred gibi yerden na'sım;
O zaman yükselerek arşa değer belki başım.

Dalgan sen de şafaklar gibi ey şanlı hilâl!
Olsun artık dökülen kanlarımın hepsi helâl.
Ebediyen sana yok, ırkıma yok izmihlâl:
Hakkıdır, hür yaşamış, bayrağımın hürriyet;
Hakkıdır, Hakk'a tapan, milletimin istiklâl!

İÇİNDEKİLER

1. Dönem 1. Yazılı Konuları

Yazılılar	Sayfa	Konular
1. Dönem 1. Yazılı (1)	5 - 8	Ünite 1: İletişim ve İnsan İlişkileri 1. İletişim Bir Sanattır
1. Dönem 1. Yazılı (2)	9 - 12	2. Bir Tuşla Dünya Evimize Geldi! 3. Özgür Basın Demokrasinin Temelidir 4. Herkesi Ayrı Ayrı Dinlemekten Zevk Alırım
1. Dönem 1. Yazılı (3)	13 - 16	Ünite 2: Ülkemizde Nüfus 1. Yaşadığımız Yerler
1. Dönem 1. Yazılı (4)	17 - 20	2. Türkiye Nüfusunun Özellikleri 3. Göçün Neden ve Sonuçları
1. Dönem 1. Yazılı (5)	21 - 24	4. Eğitim ve Çalışma Hakkı 5. Yerleşme ve Seyahat Özgürlüğü

1. Dönem 2. Yazılı Konuları

Yazılılar	Sayfa	Konular
1. Dönem 2. Yazılı (1)	25 - 28	Ünite 1: İletişim ve İnsan İlişkileri
1. Dönem 2. Yazılı (2)	29 - 32	Ünite 2: Ülkemizde Nüfus
1. Dönem 2. Yazılı (3)	33 - 36	Ünite 3: Türk Tarihinde Yolculuk 1. Türklerin Yeni Yurdu Anadolu
1. Dönem 2. Yazılı (4)	37 - 40	2. Beylikten Devlete: Osmanlı'nın Kuruluşu 3. Karaların ve Denizlerin Hakimi Osmanlı
1. Dönem 2. Yazılı (5)	41 - 44	4. Farklılıklara Rağmen

1. Dönem 3. Yazılı Konuları

Yazılılar	Sayfa	Konular
1. Dönem 3. Yazılı (1)	45 - 48	
1. Dönem 3. Yazılı (2)	49 - 52	Ünite 1: İletişim ve İnsan İlişkileri Ünite 2: Ülkemizde Nüfus
1. Dönem 3. Yazılı (3)	53 - 56	Ünite 3: Türk Tarihinde Yolculuk 5. Gez Dünya'yı Gör Konya'yı
1. Dönem 3. Yazılı (4)	57 - 60	6. Nasıl Etkiledik, Etkilendik 7. Seyyahların Dilinden Osmanlı Kültürü
1. Dönem 3. Yazılı (5)	61 - 64	

2. Dönem 1. Yazılı Konuları

Yazılılar	Sayfa	Konular
2. Dönem 1. Yazılı (1)	65 - 68	Ünite 3: Türk Tarihinde Yolculuk 8. Yeni Kurumlarla Değişen Toplum Hayatı
2. Dönem 1. Yazılı (2)	69 - 72	Ünite 4: Zaman İçinde Bilim 1. Her Bilimsel Buluş Yeni Bir Başarıdır 2. Söz Uçar Yazı Kalır
2. Dönem 1. Yazılı (3)	73 - 76	3. Türk ve İslam Devletlerinde Yetişen Bilginler 4. Bilimsel Birikim Nasıl Oluşturdu?
2. Dönem 1. Yazılı (4)	77 - 80	5. Düşünce Özgürlüğü ve Bilim Ünite 5: Ekonomi ve Sosyal Hayat 1. Toprağın Gücü
2. Dönem 1. Yazılı (5)	81 - 84	2. Devletler Gelişiyor 3. İnsan Gücünden Makineye

2. Dönem 2. Yazılı Konuları

Yazılılar	Sayfa	Konular
2. Dönem 2. Yazılı (1)	85 - 88	Ünite 3: Türk Tarihinde Yolculuk Ünite 4: Zaman İçinde Bilim Ünite 5: Ekonomi ve Sosyal Hayat
2. Dönem 2. Yazılı (2)	89 - 92	4. Sosyal Yaşamda Vakıflar 5. Nasıl Eğitim Gördüler?
2. Dönem 2. Yazılı (3)	93 - 96	6. Mesleğimi Nasıl Seçmeliyim? Ünite 6: Yaşayan Demokrasi 1. Kurultaydan Meclise
2. Dönem 2. Yazılı (4)	97 - 100	2. Yönetimin Özünü 3. Kuvvetler Ayrılığı
2. Dönem 2. Yazılı (5)	101 - 104	4. Kamuoyu ve Basın 5. Örnek Yurttaş

2. Dönem 3. Yazılı Konuları

Yazılılar	Sayfa	Konular
2. Dönem 3. Yazılı (1)	105 - 108	Ünite 3: Türk Tarihinde Yolculuk Ünite 4: Zaman İçinde Bilim Ünite 5: Ekonomi ve Sosyal Hayat
2. Dönem 3. Yazılı (2)	109 - 112	Ünite 6: Yaşayan Demokrasi Ünite 7: Ülkeler Arası Köprüler
2. Dönem 3. Yazılı (3)	113 - 116	1. Bir "Dünya" Savaşı 2. Küresel Sorunlara Küresel Çözümler
2. Dönem 3. Yazılı (4)	117 - 120	3. İnsanlığın Sorumluluğu
2. Dönem 3. Yazılı (5)	121 - 124	

Adı / Soyadı:

Sınıfı:

Numarası:

Soru	1	2	3	4	5	6	Toplam
Puan							

1. DÖNEM 1. YAZILI SORULARI (1)**1 Aşağıdaki cümlelerde boş bırakılan yerlere uygun ifadeleri yazın. (10P)**

- iklim
- empati kurmak
- hava olayları
- internet
- dinlemek
- aşağılayıcı
- susmak

- a** Etkili iletişimin en temel kuralı **dinlemektir.**
- b** Karşımızdaki kişinin yerine kendimizi koyarak onu anlamaya çalışmak, **empati kurmaktır.**
- c** Sen dili **aşağılayıcı.**, suçlayıcı, kırıcı ifadeler içerdği için iletişimi olumsuz etkiler.
- d** **İnternet**, televizyon, gazete kitle iletişim araçlarına örnektir.
- e** **İklim** ve yeryüzü şekilleri yerleşmeyi etkileyen doğal faktörlere örnektir.

2 Aşağıdaki ifadeler doğru ise D, yanlış ise Y yazın. (5P)

- D** Yazının icadı ile iletişimde dönüm noktası yaşanmıştır.
- D** Millî Mücadele yıllarında Atatürk, basın-yayına önem vermiştir.
- Y** Basın istediği kişinin özel hayatını haber yapabilir.
- D** Tarım, yerleşmeyi etkileyen beşeri faktörlerdendir.
- Y** Bilecik, Marmara Bölgesi'nde olması sebebi ile gelişmiş bir şehirdir.

3 Aşağıdaki sözcüklerle, ilgili oldukları ifadeleri eşleştirin. (5P)

- a** Tekzip
- b** Sansür
- c** Kanal
- d** SGK
- e** TÜİK
- f** Nüfus yoğunluğu
- b** Basına resmî makamlar tarafından getirilen sınırlama.
- c** Alıcı kişiye mesajı iletme yolu.
- f** Nüfusun, yüz ölçümüne bölünmesi ile elde edilen veri.
- e** Türkiye nüfus verileri ile ilgilenen kurum.
- d** Çalışan vatandaşın sigorta primi ödediği kurum.

4 Aşağıdaki açık uçlu soruyu yanıtlayın. (10P)

Olumlu iletişim davranışları içeren bir diyalog yazın. Verilen diyalogu olumlu iletişim davranışları içerecek şekilde yazın.

Nuray: Sosyal bilgiler sınavından düşük not aldım.

Anne: Sosyal bilgiler sınavından düşük not aldığın için üzülmüş olmalısın.

Nuray: Evet, çok üzüldüm.

Anne: Bir sonraki sınavına daha iyi hazırlanırsan yüksek not alabilirsin.

Nuray: Haklısın anneciğim sonraki sınava daha iyi çalışmalıyım.

5 Aşağıda verilen akademik beceri sorusunu yanıtlayın. (20P)**ABİDE**

Yaş Grubu	Bilgisayar (%)		İnternet (%)	
	Erkek	Kadın	Erkek	Kadın
16-24	77,9	58,3	76,5	55,9
25-34	67,5	46,7	65,4	45,9
35-44	52,6	30,6	50,4	28,9
45-54	34,3	13,9	32,1	13,2
55-64	17,2	5,4	16,0	5,0
65-74	5,0	1,4	4,5	1,2
Toplam	56,1	36,9	54,9	35,3

Yukarıdaki tablo, TÜİK 2016 yılı bilgisayar ve internet kullanımının cinsiyet ve yaş gruplarına göre dağılımını göstermektedir. Günümüz bilişim çağı, bilgiye internet olan her yerden ulaşmayı mümkün kılarken, kullanıcılar tarafından en fazla zarar görülen yerin “Sosyal Medya” olduğu gerçeği pedagogların bu konu üzerinde araştırma yapma ihtiyacını doğurmuştur. Kitle iletişim araçları arasında en yaygın olan internetin kötü kullanımını engellemek için;

-İnternet erişiminin engellenmesi

-Ebeveyn ve çocuklara interneti doğru ve bilinçli kullanma eğitimi verilmesi

-Bilgisayarlara, ebeveyn filtresi konulması gerekmektedir.

İnternet ve sosyal medyanın zararlarını engellemek için en kalıcı çözüm hangisidir?

Ebeveyn ve çocuklara interneti doğru ve bilinçli kullanma eğitimi vererek kalıcı ve köklü çözüm elde edilir.

TEST (10 x 5 = 50P)

6 Aşağıdaki çoktan seçmeli soruları yanıtlayın.

1. Aşağıdaki cümlelerden hangisi empatiyle yanıt veren kişiye aittir? Ü.1-K.1

- A) Hiçbir zaman derslerine çalışmıyorsun.
 B) Her zaman beni yargılıyorsun.
 C) Artık seni sevmiyorum.
 D) Öğretmeninin seni anlamadığını düşündüğün için üzgünsün.

2. Aşağıdakilerden hangisi kitle iletişim araçlarının görevlerinden biri değildir? Ü.1-K.4

- A) Halkın bilgi almasını sağlamak
 B) Asılsız haberler yapıp daha çok izlenmeyi sağlamak
 C) Kişi hak ve hürriyetlerine saygılı olmak
 D) Kamu yararına yapılan faaliyetleri desteklemek

3. "...Basın, milletin genel sesidir. Bir milleti aydınlatma ve uyarmada, bir millete gereksindiği fikrî gıdayı vermekte, özet olarak bir milletin mutluluk hedefi olan ortak doğrultuda yürümesini teminde, basın başlı başına bir kuvvet, bir okul, bir rehberdir."

Atatürk'ün sözünden aşağıdaki yargılardan hangisine ulaşamaz? Ü.1-K.6

- A) Basın, haberlerin içeriğini sapıtırabilir.
 B) Basın, milleti ortak düşüncede birleştirir.
 C) Basın, halkı eğitir.
 D) Basın, yol gösterir.

Pop Star Aylin, bir çay bahçesinde tek başına oturup çay içmektedir. O sırada telefonunu çalar. Arayan en yakın arkadaşı Sema Hanım'dır. Sema Hanım'la aralarında şöyle bir konuşma geçer:

Sema Hanım: Dün akşam doğum günü partime gelmediğin için çok üzüldüm. Neden gelmedin Aylin?

Pop Star Aylin: Gelmeyi çok istiyordum ama küçük kızım çok hastaydı. Onu hastaneye götürdüm.

Pop Starın bu konuşmalarını duyan yan masadaki gazeteci, olayı izin almadan haber yapar.

4 ve 5. soruları yukarıdaki metne göre yanıtlayın.

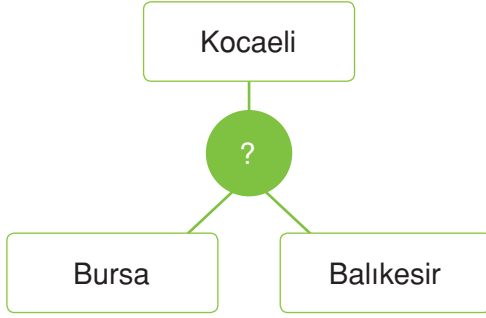
4. Metinde yer alan gazeteci için aşağıdaki yorumlardan hangisi yapılabilir? Ü.1-K.5

- A) İşini yapmazsa patronu işten çıkarabilir.
 B) Haberini yapacağı kişi pop star olduğu için onun özel hayatı gizli olamaz.
 C) Yazdığı habere kendi yorumlarını katar sa daha çarpıcı olur.
 D) Basın ahlak yasasına göre izin alıp haber yapmalıydı.

5. Pop Star Aylin ve Sema Hanım arasında geçen konuşmada Sema Hanım hangi ifadeyi kullanırsa empati kurmuş olur? Ü.1-K.1

- A) Kızın, hasta olduğu için üzülmüş olmalısın.
 B) Benim kızım da hasta olsaydı ben de aynı şeyi yapardım.
 C) Kızın hasta olsa bile gelmen gerekirdi.
 D) Kızını da getirseydin beraber hastaneye giderdik.

6.



Verilen şehirlerin ortak özellikleri arasında aşağıdakilerden hangisi yoktur?

Ü.2-K.1

- A) Marmara Bölgesi'nde yer alırlar.
 B) Akdeniz iklimi görülür.
 C) Sanayisi gelişmiştir.
 D) Kültürel faaliyetler yoğundur.

7. Katıldığı söyleşide, konuşmacı bir heykel gibiydi. Hazır olda bekleyen bir asker gibi konuşma boyunca hiç kıpırdamadı.

Paragrafa göre konuşmacının iletişimde uymadığı kural hangisidir?

Ü.2-K.4

- A) Empati kurmamıştır.
 B) Sen dili kullanmıştır.
 C) Beden dili kullanmamıştır.
 D) Konuşma biçimi hatalıdır.

8.

Şehir	Ekonomik Faaliyet
Zonguldak	?
İzmir	?
Eskişehir	?

Yukarıdaki tabloda ülkemizdeki bazı şehirler ve bu şehirlerde öne çıkan faaliyetler eşleştirilmiştir.

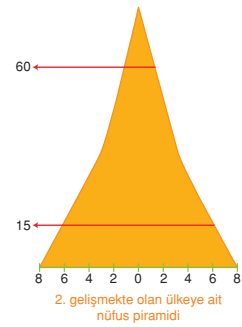
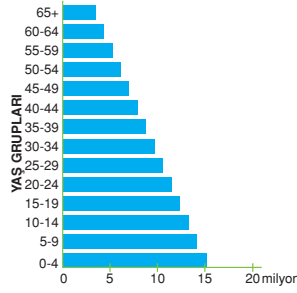
Buna göre aşağıda verilenlerden hangisi bu tabloya yazılamaz?

Ü.2-K.1

- A) Kış Turizmi
 B) Madencilik
 C) Eğitim
 D) Ticaret

9.

1. gelişmekte olan ülkeye ait nüfus piramidi



Verilen grafiğe göre aşağıdakilerden hangisi doğrudur?

Ü.2-K.2

- A) Ortalama yaşam süresi uzundur.
 B) Yaşlı nüfus fazladır.
 C) Sanayi gelişmiştir.
 D) Bağımlı nüfus fazladır.

10.

Yıllar	Tarım Sektörü	Sanayi Sektörü	Hizmet Sektörü
1927	89,6	5,6	4,8
1935	79,9	7,6	12,3
1945	73,7	8,5	17,8
1955	77,4	6,7	18,9
1960	74,9	7,5	17,6
1965	71,9	7,9	20,2
1970	70,2	10,2	19,6
1975	65,1	11,5	23,4
1980	62,5	11,6	25,9
1985	58,5	13,0	28,5
1990	50,5	13,4	36,1
2000	48,0	13,5	38,5

Yukarıdaki tabloda ülkemizdeki sektörel dağılımın yıllara göre değişimi verilmiştir.

Buna göre aşağıdaki yargılardan hangisi doğrudur?

Ü.2-K.2

- A) Tarım sektöründeki oran her yıl azalmıştır.
 B) Sanayi sektöründeki oran her yıl artmıştır.
 C) Hizmet sektöründe dalgalanmalar görülmüştür.
 D) Tarımdaki oranın azalmasında makineli tarımın etkisi artmıştır ve görülmüştür.

Adı / Soyadı:

Sınıfı:

Numarası:

Soru	1	2	3	4	5	6	Toplam
Puan							

1. DÖNEM 1. YAZILI SORULARI (2)**1 Aşağıdaki cümlelerde boş bırakılan yere uygun ifadeleri yazın. (10P)**

- Çocuk Hakları Sözleşmesi
- doğal
- iki
- üç
- mevsimlik
- İnsan Hakları Sözleşmesi
- beşerî
- eğitim
- iç

- a** İletişim en az **iki** kişi arasında olmaktadır.
- b** Turizm, ticaret gibi faktörler yerleşmeyi etkileyen **beşerî** faktörlerdendir.
- c** Maddi olanaklarının yetersizliği sebebiyle eğitimini yarım bırakan kişiye burs verilmesi onun **eğitim** hakkını kullanabilmesi için yapılan bir davranıştır.
- d** Çocuk işçi çalıştırmayı önlemek için ülkemiz "**Çocuk Hakları Sözleşmesi**"ni" imzalamıştır.
- e** Yaz tatilini Antalya'da geçirmek için yapılan yer değiştirme hareketi **mevsimlik** göçe örnektir.

2 Aşağıda verilen ifadeler doğru ise D, yanlış ise Y yazın. (5P)

- D** İletişim sürecinde kırııcı ifadeler kullanırsak karşımızdaki kişi ile çatışma yaşayabiliriz.
- Y** Ben dili, karşımızdaki kişiyi suçlayıcı ifadeler içerir.
- D** Hakimiyet-i Milliye Gazetesi, Kurtuluş Savaşı'nda halkı bilinçlendirmiştir.
- D** Ulaşım yolları üzerinde bulunan şehirlerin ticari faaliyetleri gelişir.
- Y** Devlet tarafından güvence altına alınan haklarımız sınırsızdır.

3 Aşağıdaki sözcüklerle, ilgili oldukları ifadeleri eşleştirin. (5P)

- e** İletişim kurarken kullandığımız yüz ifadelerimizdir. **a** Suçluluk durumu
- f** Haber alma hakkımızı kullanmamızı sağlar. **b** Eğitim
- c** Atatürk'ün "Benim Gazetem" dediği kitle iletişim aracıdır. **c** İrade-i Milliye
- d** Yunus Nadi ve Halide Edip'in kuruluşunda katkısı olduğu yayın organıdır. **d** Anadolu Ajansı
- a** Seyahat hakkımızın sınırlandırılacağı durumlar arasında yer alır. **e** Mimik
- f** **f** Muhabir

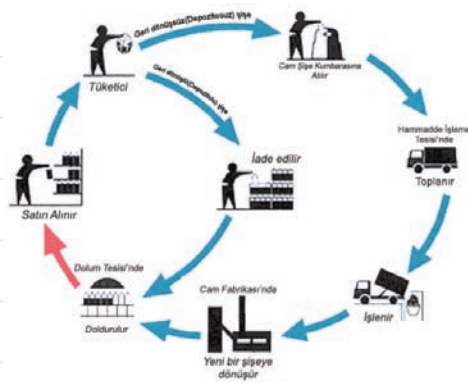
4 Aşağıda verilen açık uçlu soruyu yanıtlayın.

Kitle iletişim araçlarının kamuoyu oluşturmada nasıl bir rolü vardır? Kısaca anlatın. (10P)

Kamuoyu: belli bir konuda toplumun genel düşüncesine verilen addır. Örneğin devlet tarafından bir yasa kabul edilecek. Kitle iletişim araçları tarafından bu konu ile ilgili bilgi alan halk, yasayı onaylayan veya reddeden görüş geliştirecektir. İşte halkın ortak bir düşünce etrafında birleşmesiyle kamuoyu oluşur. Bu kamuoyu oluşumu imza kampanyaları, anket vb. hareketler olarak ortaya çıkmaktadır.

5 Aşağıda verilen akademik beceri sorusunu yanıtlayın. (20P)

ABİDE



Geri dönüşüm aşamaları ve döngüsü görseli incelendiğinde, satın alan tüketiciden sonraki adımda bilinçli tüketici görmekteyiz. Bilinçli tüketici olarak atılan her adım, doğaya ve ülke ekonomisine geri dönmektedir. Geri dönüşüm halkasında sadece bilinçli tüketici olmak bu döngünün sağlıklı ilerlemesi için yetmemektedir.

Türkiye'nin en kalabalık ili İstanbul için;

- Şehrin, merkez ilçelerine vatandaşın ulaşabileceği "Geri Dönüşüm Merkezleri" kurarak
- İmar izni verdiği yeni binaların her dairesine geri dönüşüm yapabilen ve atıkları binanın deposunda toplayıp, binanın enerji ihtiyacını karşılayacak bir çalışma yaparak
- Her okula atık pil, yağ ve kâğıt için geri dönüşüm kutuları koyarak

belediye hangi hizmeti sağlarsa, geri dönüşüm için daha kapsamlı bir çözüm elde etmiş olur? Neden belirterek yazın.

Şehrin merkez ilçelerine vatandaşın ulaşabileceği "Geri Dönüşüm Merkezleri" kurarak daha kapsamlı bir çözüm elde edebilir.

TEST (10 x 5 = 50P)

6 Aşağıdaki çoktan seçmeli soruları yanıtlayın.

1. Sen dili iletişim suçlayıcı, kırıcı ifadeler içerirken; ben dili yapıcı ve olumlu ifadeler içerir.

Bu açıklamaya göre aşağıdaki seçeneklerden hangisinde sen dili kullanılmıştır?

Ü.1-K.1

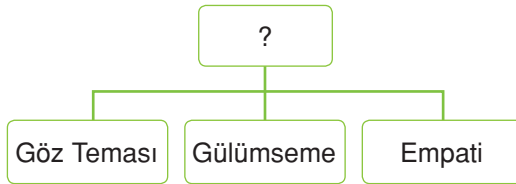
- A) Saatlerce televizyon izliyorsun.
 B) Derslerine çalışmadığın zaman çok üzülüyorum.
 C) Üzüntünü anlıyorum.
 D) Müziğin sesini çok açtığın zaman seni duyamıyorum.

2. Aşağıdakilerden hangisi olumsuz iletişim neden olur?

Ü.1-K.3

- A) Empati kurmak
 B) Göz teması kurmak
 C) Öğüt vermek
 D) Dinlemek

3.



Verilen diyagrama en uygun başlık aşağıdakilerden hangisidir?

Ü.1-K.1

- A) Olumlu İletişim Davranışları
 B) Olumsuz Davranışlar
 C) Olumsuz İletişim Davranışları
 D) Olumlu Davranışlar

7/A sınıfı öğrencilerinden Ahmet ve Ali te-neffüste sohbet etmeye başlamışlar:

Ahmet : Galatasaray dün akşamki maçta Beşiktaş'ı nasıl yendi, gördün mü?

Ali : Fenerbahçe ile oynasaydı kesin yenilirdi. Çünkü Fenerbahçe'nin oyuncuları daha güçlü.

Ahmet : "Fenerbahçe'yi de yener. Galatasaray'ın oyuncuları daha iyi oynuyor." der ve omzuna vurarak Ali'yi iter.

Ali, Ahmet'e karşılık vermek üzereyken durumu fark eden Cansu koşarak yanlarına gelir...

4 ve 5. soruları yukarıdaki metne göre yanıtlayın.

4. Metindeki olumsuzluğu ortaya çıkaran durum aşağıdakilerden hangisidir?

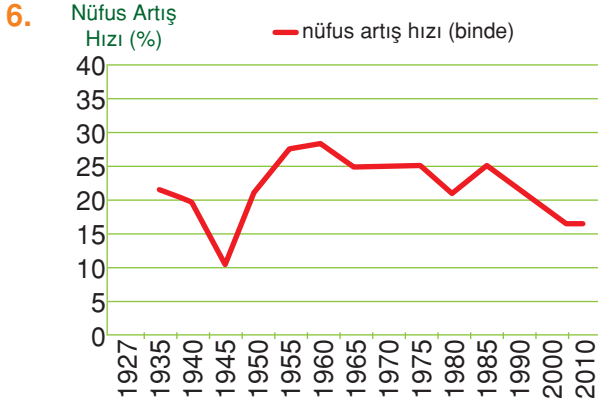
Ü.1-K.2

- A) Ahmet'in Galatasaraylı olması
 B) Ali'nin Fenerbahçeli olması
 C) Ali ve Ahmet'in birbirlerini dinlememeleri
 D) Ahmet'in fiziksel şiddet uygulaması

5. Cansu'nun yapması gereken davranış aşağıdaki seçeneklerin hangisinde verilmiştir?

Ü.1-K.1

- A) Ali'nin haklı olduğunu belirtmeli.
 B) Sorunun ne olduğunu öğrenmeli.
 C) Barışmaları için ısrar etmeli.
 D) Ahmet'i öğretmene şikâyet etmeli.



Yukarıdaki grafikte ülkemizin 1927-2010 yılları arasında nüfus artış hızı verilmiştir.

Buna göre aşağıdaki yargılardan hangisine ulaşamaz? Ü.2-K.2

- (A) 1945 yılında nüfus oranı düşmüştür.
 B) Nüfus artış hızı en yüksek 1960 yılındadır.
 C) 1955-1960 yılları arasında nüfus artış hızında yükselme vardır.
 D) 1985-2000 yılları arasında nüfus artış hızı düşmüştür.

7. İç Anadolu Bölgesi'nde toplu yerleşme görülürken Karadeniz Bölgesi'nde dağınık yerleşme görülür.

Verilen bilgiye göre aşağıdaki illerin hangisinde toplu yerleşme görülebilir?

Ü.2-K.1

- A) Tokat
 B) Giresun
 (C) Kırıkkale
 D) Artvin

8. I. Kültürel etkileşim gerçekleşir.
 II. Göç alan ülkenin nüfusu artar.
 III. Göç veren ülkenin ekonomik kalkınması hızlanır.

Yukarıda verilenlerden hangisi ya da hangileri dış göçler sonucu gerçekleşir? Ü.2-K.4

- A) Yalnız I
 B) I ve II
 C) II ve III
 D) I, II ve III

9. **Akın Öğretmen:** Çocuklar; gelişmekte ya da geri kalmış olan ülkeler, beyin göçünün en çok yaşandığı yerlerdir. Beyin göçüne neleri örnek verebiliriz?

Akın Öğretmen'in sorusuna hangi öğrenci yanlış yanıt vermiştir? Ü.2-K.4

- A) **Burçin:** Doktora eğitimini yapmak için Amerika'ya gitmek
 B) **Derya:** Bilimsel çalışmalar yapmak için İtalya'ya gitmek
 (C) **Berk:** Almanya'ya işçi olarak gitmek
 D) **Leyla:** Akademik çalışmalar için Fransa'ya gitmek

- 10.

T.C. ANAYASASI MADDE 60

Herkes, sosyal güvenlik hakkına sahiptir. Devlet, bu güvenliği sağlayacak gerekli tedbirleri alır ve teşkilatı kurar.

Sosyal Güvenlik Kurumu tarafından faaliyetleri yürütülen bu hakkımız çalışan kişilerin ve ailelerinin sosyal güvenlik hizmetinden yararlanmalarını sağlar.

Yukarıda Anayasamızın 60. maddesi verilmiştir.

Aşağıda verilenlerden hangisi bu madde kapsamında değerlendirilemez?

Ü.2-K.3

- A) Devletin iş alanları oluşturması
 B) Çalışanların sosyal güvenlik haklarının devletin güvencesi altında olması
 C) Çalışma koşullarının devlet tarafından güvence altına alınması
 (D) Çalışanların sağlık güvencesinin sadece kendisi için geçerli olması

Adı / Soyadı:

Sınıfı:

Numarası:

Soru	1	2	3	4	5	Toplam
Puan						

1. DÖNEM 1. YAZILI SORULARI (3)**1 Aşağıdaki cümlelerde boş bırakılan yerlere uygun ifadeleri yazın. (10P)**

- ben
- turizm
- sözsüz
- ulaşım
- sen
- görsel
- ticaret
- işitsel
- çatışma
- sözlü

- a** “Her zaman derse geç kalıyorsun.” ifadesi **sen** dili ile söylenmiştir.
- b** İletişimsizlik sonucu ortaya çıkan gerginlik hâli **çatışma** olarak adlandırılır.
- c** İletişim **sözlü** ve **sözsüz** olmak üzere ikiye ayrılır.
- d** Kitle iletişim araçlarını **görsel**, **işitsel** ve **sözlü** olmak üzere üçe ayırabiliriz.
- f** **Ticaret**, **turizm**, **ulaşım** yerleşmeyi etkileyen beşeri faktörlere örnektir.

2 Aşağıda verilen ifadeler doğru ise D, yanlış ise Y yazın. (10P)

- Y** Ben dili, iletişimi olumsuz etkiler.
- Y** Konuşurken göz teması kurmaktan kaçınılmalıdır.
- D** Basın, toplumun yararına olmadıkça gizli bilgileri yayınlamaz.
- Y** Sınırları belli alanda yaşayan canlı sayısına nüfus denir.
- D** Doğu Karadeniz, engebeli dağlık yapısından dolayı seyrek nüfuslanmıştır.

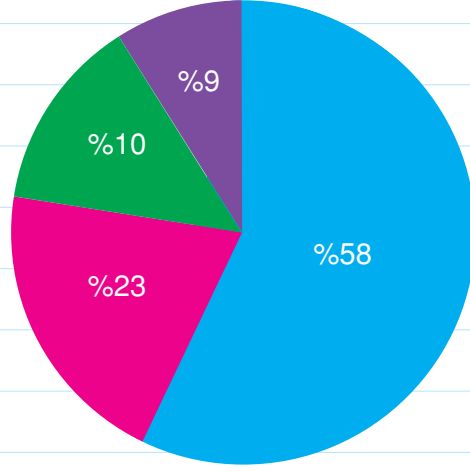
3 Aşağıdaki sözcüklerle, ilgili oldukları cümleleri eşleştirin. (10P)

- e** Basın organları tarafından yanlış yayınlanan bilgilerin düzeltilmesi. **a** Uzlaşma
- a** Kişiler arasındaki sorun durumunun ortadan kalkması. **b** İstanbul
- b** En yoğun nüfuslu ilimiz. **c** Ankara
- d** Devlet tarafından güvence altına alınan, istediğimiz yerde yaşama hakkımız. **d** Yerleşme
- f** Devletler arası antlaşmalar sonrasında gerçekleşen göç hareketi. **e** Tekzip
- f** Mübadele

4 Aşağıda verilen akademik beceri sorusunu yanıtlayın. (20P)

Bazı İllerinin Nüfus Yoğunluğu

■ İstanbul ■ Ankara ■ İzmir ■ Batman



Nüfus yoğunluğu: Bir kilometrekarede yaşayan insan sayısıdır. Nüfus yoğunluğunu hesaplamak için; yaşayan insan sayısını yüz ölçümüne bölmemiz yeterli olur. Türkiye'deki bazı illerin nüfus yoğunluğunu gösteren daire grafiğine dikkat edersek İstanbul ili bu grafikteki en fazla nüfusa sahip ildir. Türkiye Vatandaşlık ve Nüfus Genel Müdürlüğü'nün, 2015 yılının ilk iş gününde yaptığı açıklamaya göre İstanbul'un toplam nüfusu 17 milyon civarında, yüz ölçümü de 5171 km²dir. Km² başına yaklaşık olarak 10700 insanın yaşadığı İstanbul'da; alt yapı yetersizliği, çarpık kentleşme, toplu ulaşım araçlarının yetmemesi, trafik sorunun olması, yolların ve sağlık kuruluşlarının vatandaşların ihtiyaçlarını karşılamaması gibi olumsuzluklar görülmektedir.

Bu sorunların ortadan kaldırılması için yapılabilecek en doğru çalışma nedir? Yazın.

İstanbul'un mevcut sorunlarının doğru bir şekilde çözümlenmesi için Devlet ve Şehir Planlama Bakanlığı, İstanbul Valiliği ve İstanbul Sivil Toplum örgütleri iş birliğiyle çalışıp çözümler üretmelidir.

TEST (10 x 5 = 50P)

5 Aşağıdaki çoktan seçmeli soruları yanıtlayın.

1. I. Mesaj kısa ve net olmalı.
II. Dinlerken başka şeylerle meşgul olmalı.
III. Öz saygıda geliştirici dil kullanmalı.
Yukarıda verilenlerden hangisi ya da hangileri etkili iletişimde rol oynar?

Ü.1-K.1

- A) Yalnız I
B) Yalnız II
C) I ve II
D) I ve III

2. “Etkili bir iletişim için karşımızdaki kişiyi yargılamadan, ön yargısız dinlemeliyiz.”

Aşağıdakilerden hangisinde verilen durumdan kaynaklı iletişim hatası vardır?

Ü.1-K.2

- A) Geç kaldığından dolayı sınava giremedi.
B) Sabaha kadar televizyon izliyorsun.
C) Yine kardeşine ne yaptın?
D) Hasta olduğun için dersine çalışamamışsın.

3.



Yukarıdaki diyagrama verilebilecek en uygun başlık hangisidir?

Ü.1-K.6

- A) Geçmişten Günümüze Basın
B) Atatürk Dönemi ve Kitle İletişim
C) Geçmişteki Basın
D) Kurtuluş Dönemi Basın Yayın Organları

4.

	Doğru	Yanlış
I. Yazı, fotoğraf vb. her türlü şeyi yayınlama hakkı izinsiz olabilir.		Y
II. Özel yaşamı küçük düşürücü haber yapılamaz.	D	
III. Yanlış haberler için düzeltme yapmak zorundadır.		Y
IV. Yayın için konulan süre kısıtlamalarına dikkat eder.		Y

Numaralandırılmış cümlelerdeki ifadeler doğru ve yanlış şeklinde eşleştirilmiştir.

Buna göre eşleştirmelerin hangileri doğrudur?

Ü.1-K.4,5

- A) I ve II
B) II ve III
C) I ve IV
D) II ve IV

5. Nüfus sayımı ile ilgili aşağıdaki bilgilerden hangisi yanlıştır?

Ü.2-K.2

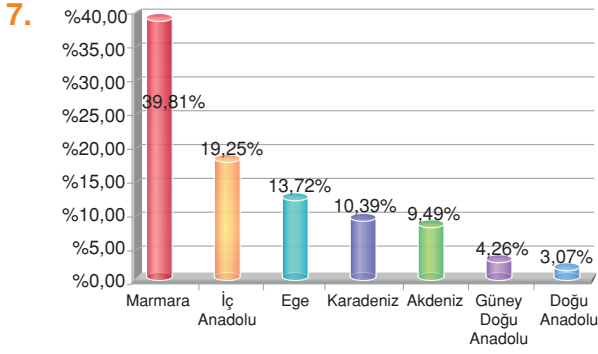
- A) 2. Mahmut döneminde yapılan nüfus sayımında erkekler ve küçükbaş hayvanlar sayılmıştır.
B) Cumhuriyet döneminde, ilk nüfus sayımı 1927 yılında yapılmıştır.
C) İhtiyaçtan dolayı 1997 yılında nüfus sayımı gerçekleştirilmiştir.
D) 2008 yılından itibaren ADNKS'ye geçilmiştir.

6. Anayasa'nın 49. maddesine göre; “Çalışma herkesin hakkı ve ödevidir. Devlet çalışanların hayat seviyesini yükseltmek, çalışma hayatını geliştirmek için çalışanları korumak, çalışmayı desteklemek ve işsizliği önlemeye elverişli ekonomik bir ortam yaratmak için gerekli tedbirleri almalıdır.”

Buna göre aşağıdaki kurumlardan hangisi devlete bağlı olup, işçinin gerek çalışırken gerekse emekli olduktan sonraki sosyal haklarını korur?

Ü.2-K.2

- A) RTÜK
B) TEMA
C) AÇEV
D) SGK



Yukarıdaki grafikte ülkemizin bölgelere göre nüfus yoğunlukları verilmiştir.

Buna göre aşağıdaki yargılardan hangisi doğrudur? Ü.2-K.1

- A) Marmara Bölgesi'nin yoğun nüfuslanmasında en büyük sebep ikliminin ılıman olmasıdır.
- B) Doğu Anadolu Bölgesi yer şekilleri ve iklim şartları sebebi ile göç verir.
- C) Nüfusumuzun yarısından fazlası kıyı kesimlerde toplanmıştır.
- D) Güneydoğu Anadolu Bölgesi kuraklık sebebi ile seyrek nüfuslanmıştır.

8.

I. İstanbul	Sanayi
II. Bursa	Tarım
III. Adana - Şanlıurfa	Sanayi
IV. Manisa	Maden

Yukarıdaki tabloda bazı şehirler ve bu şehirlerin nüfuslanma sebepleri eşleştirilmiştir.

Tablonun doğru olması için kaç numaralı şehirlerin yer değiştirmesi gerekir? Ü.2-K.1

- A) I ve II
- B) I ve III
- C) II ve III
- D) II ve IV

9. I. Nüfusumuzun büyük bölümü kentlerde yaşamaktadır.
- II. Okuma - yazma bilmeyen nüfusumuz yoktur.
- III. Nüfusumuz sürekli artmaktadır.

Yukarıdaki bilgilerden hangisi ya da hangileri ülkemizin nüfusu için söylenebilir? Ü.2-K.2

- A) Yalnız I
- B) I ve II
- C) I ve III
- D) I, II ve III

10. 4857 İş Kanunu'nun 71. maddesi uyarınca; 15 yaşını doldurmamış çocukların çalıştırılması yasaktır. Ancak, 14 yaşını doldurmuş ve ilköğretimi tamamlamış olan çocuklar; bedensel, zihinsel ve ahlaki gelişmelerine ve eğitime devam edenler okullarına devam engel olmayacak hafif işlerde çalıştırılabilirler.

Aşağıdaki örneklerden hangisi, bu kanuna göre suç teşkil eder? Ü.2-K.3

- A) 18 yaşında olan Eren'in, demir yolu yapımında çalışması
- B) 12 yaşındaki Elif'in, annesinin kuaföründe hafta sonları yardım etmesi
- C) 13 yaşındaki Çiğdem'in, babasının marketinde kasada durması
- D) 14 yaşındaki Emre'nin, gitar kursu vermesi

Adı / Soyadı:

Sınıfı:

Numarası:

Soru	1	2	3	4	5	Toplam
Puan						

1. DÖNEM 1. YAZILI SORULARI (4)

1 Aşağıdaki cümlelerde boş bırakılan yerlere uygun ifadeleri yazın. (10P)

- anayasayla
- beşerî
- Doğu Anadolu Bölgesi
- İç Anadolu Bölgesi
- meclisle
- tekzip
- jest
- sansür

- a Sözsüz iletişimde **jest** ve mimikler kullanılır.
- b Düşünce özgürlüğü, kişilerin fikirlerini istediği yolla yayma hakkıdır ve **anayasayla** güvence altına alınmıştır.
- c Toplum menfaati söz konusu olduğunda, yayınların devlet tarafından sınırlandırılmasına **sansür** denir.
- d Nüfus dağılımını etkileyen doğal ve **beşerî** faktörler bulunmaktadır.
- e Yüz ölçümü en büyük olan bölgemiz **Doğu Anadolu Bölgesi** dir. Yer şekilleri, olumsuz iklim şartları nedeniyle göç verir.

2 Aşağıda verilen ifadeler doğru ise D, yanlış ise Y yazın. (10P)

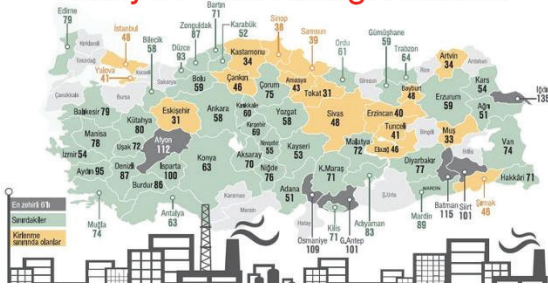
- Y Karşımızdaki kişi konuşurken, sadece kendi vereceğimiz yanıtı düşünmeliyiz.
- D İzlediğimiz yayınlarda ahlaka aykırı bir durum olduğunu düşünürsek, RTÜK'e bildirebiliriz.
- D Basın araçları, kişiler hakkında asılsız ya da yanlış haber yaptığı zaman tekzip yayınlamak zorundadır.
- Y Erzurum ve Kars Bölgesi'nde hayvancılık geliştiği için nüfus yoğundur.
- D 2011 yılında meydana gelen Van depremi, göçe sebep olmuştur.

3 Aşağıdaki sözcüklerle, ilgili oldukları cümleleri eşleştirin. (10P)

- a Soma
- b Şanlıurfa
- c Alay etmek
- d Empati
- e Kredi Yurtlar Kurumu
- f SGK
- c Olumsuz iletişim davranışı.
- d Duygudaşlık olarak da bilinen olumlu iletişim davranışı.
- a Maden nedeniyle yoğun nüfuslu ilçemiz.
- b Kuraklık nedeni ile seyrek nüfuslu şehrimiz.
- e Üniversiteyi kazanan öğrencilere kalacak yer sağlayan kurum.

4 Aşağıda verilen akademik beceri sorusunu yanıtlayın. (20P)

Türkiye Hava Kirliliği Haritası



Mühendislik Fakültesi Öğretim Üyesi, hava kirliliğine karşı önlem alınmaması hâlinde tarihi eserlerin zarar göreceği uyarısında bulunarak, “Sanat eserlerimiz bu oranda tahrip oluyor, yer yer 10 - 20 kat arasında tahrip yaşanan yerlerde mevcut” değerlendirmesini yapmıştır.

Üniversitenin açıklamasında yer verilen Dünya Sağlık Örgütü'nün araştırmasına göre, yılda yaklaşık 2 milyon insan hava kirliliği yüzünden hayatını kaybediyor. Hava kirliliği insanlara, tabiata, hayvanlara ciddi zarar verirken aynı zamanda mimariyi de yok ediyor. Uzun yıllar varlık gösteren mimari eserler zamana değil hava kirliliğine yenik düşüyor.

Mühendislik Fakültesi'nde öğrenci olan Burçin'in, bitirme tez konusu olan “nüfus ve yerleşmede beşerî faktörlerden sanayileşmenin hava kirliliğine etkisi” adlı tez çalışmasına;

-Fabrika bacaları ve araba egzozlarına filtre koyarak karbondioksit gazının salınımının %3 oranında azaltılması,

-Sanayileşme yerine tarım devleti yolunda adımlar atarak, devletin çiftçiyi desteklemek ve teşvik etmek amacıyla faizsiz kredi veya hibe yoluyla tarım toprağı vermesi,

-Sanayileşmenin yerleşim yerlerinden uzak ve tarım arazisi olmayan alanlara yapılması, sanayi kuruluşunun çevreye verdiği zararın her ay düzenli olarak denetlenmesi, çevreye zarar veren sanayi kuruluşlarına çok ağır cezai yaptırımlar uygulanması ve ilköğretim kurumlarında “Çevre Bilinci” programının öğretim programlarına alınması,

Önerilerinden hangisini araştırarak yazarsa üniversiteden mezun olabilir?

Sanayileşmenin yerleşim yerlerinden uzak ve tarım arazisi olmayan alanlara yapılması, sanayi kuruluşunun çevreye verdiği zararın her ay düzenli olarak denetlenmesi, çevreye zarar veren sanayi kuruluşlarına çok ağır cezai yaptırımlar uygulanması ve ilköğretim kurumlarında “Çevre Bilinci” programının öğretim programlarına alınması konularını araştırarak yazabilir. Böyle yaparak bitirme tezi amacına ulaşmış olur.

TEST (10 x 5 = 50P)

5 Aşağıdaki çoktan seçmeli soruları yanıtlayın.

1. Araştırmalara göre dikkatli dinlemenin, insanlar arasında olumlu ilişkiler kurmaya yardımcı en etkili iletişim ögesi olduğu vurgulanmaktadır.

Buna göre,

- I. Konuşmacının sözünü kesmeden dinler.
- II. Konuşmacının duygu ve düşüncelerini anlamaya çalışır.
- III. Konuşmacıyı anladığını ifade eden sözlü ifadeler kullanır.
- IV. Konuşmacının giyim tarzından, konuşmacının ne demek istediğini anlar.
- V. Konuşmacıyı dinlerken, kollarını bağlar. Böylelikle konuşmacıyı dinlediğini gösterir.

yukarıdakilerden hangileri iyi bir dinleyicide bulunan özelliklerdendir? Ü.1-K.1

- A) I, IV ve V (B) I, II ve III
C) III, IV ve V D) I, III ve V

2.

İnsan Hakları Evrensel Beyannamesi

Madde 19: Herkesin düşünce ve anlatım özgürlüğüne hakkı vardır. Bu hak düşüncelerinden dolayı rahatsız edilmemek, ülke sınırları söz konusu olmaksızın, bilgi ve düşünceleri her yoldan araştırmak, elde etmek ve yaymak hakkını gerekli kılar.

Aşağıdakilerden hangisi bu maddenin kapsamına girmez? Ü.1-K.4

- A) Bilim insanının, yaptığı bilimsel buluşu Amerika'da tanıtması
- B) Araştırma yapan kişinin yazdığı makaleyi gazeteler aracılığı ile yayınlaması
- C) Kan bağıışı için, Kızılayın radyo-televizyon gibi kitle iletişim araçlarını kullanması
- (D) Kişinin, sevmediği bir sanatçı hakkında asılsız iddialarda bulunması

3. I. Radyo II. İnternet
III. Cep telefonu IV. Sabit telefon
Yukarıda bazı kitle iletişim araçları verilmiştir.

Hangi seçenekte bu araçlar doğru gruplanmıştır? Ü.1-K.4

İşitsel - Sözlü

İşitsel-Görsel-Yazılı

- A) I, II III, IV
(B) I, IV II, III
C) II, III I, IV
D) I, III II, IV

4. I. Yaşlı nüfus fazladır.
II. Çocuk nüfus fazladır.
III. Eğitim seviyesi yüksektir.
IV. İşsizlik oranı düşüktür.

Yukarıda verilenlerden hangileri gelişmiş ülkelerin özellikleri arasındadır?

Ü.2-K.2

- A) II, III, IV B) I, II, III
(C) I, III, IV D) I, II, III, IV

5. Millî Mücadele yıllarında düşman kuvvetleri tarafından ortaya atılan asılsız haberlerin yalan olduğunu duyurmak, Millî Mücadele'nin seyrini halka bildirmek, Millî Mücadele için birlik ve beraberliği sağlamak amacı ile Mustafa Kemal'in teşviki ile Halide Edip ve Yunus Nadi tarafından kurulmuştur.

Bu paragrafta sözü edilen yayın aracı aşağıdakilerden hangisidir? Ü.1-K.6

- (A) Anadolu Ajansı
B) İrade-i Milliye
C) Hakimiyet-i Milliye
D) Takvim-i Vekayi

6. TÜİK'in 2016 yılı araştırmalarına göre bazı illerimizin nüfus yoğunluğu aşağıdaki gibidir:

A şehrinde km^2 'ye 10700

B şehrinde km^2 'ye 5200

C şehrinde km^2 'ye 1010 kişi düşmektedir.

TÜİK, bu istatistiğe ulaşmak için bu şehirler hakkında;

- I. Toplam nüfuslarını
- II. Şehir merkezi nüfus sayılarını
- III. Şehirlerinin yüz ölçümlerini
- IV. Şehirlerin iklim şartlarını

Verilenlerden hangisini ya da hangilerini bilmesi gerekir? Ü.2-K.2

- A) Yalnız I B) I ve II
 C) I ve III D) II ve IV

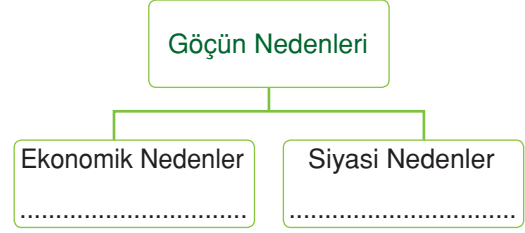
7.

Madde 23: Herkes, yerleşme ve seyahat hürriyetine sahiptir. Yerleşme hürriyeti, suç işlenmesini önlemek, sosyal ve ekonomik gelişmeyi sağlamak, sağlıklı ve düzenli kentleşmeyi gerçekleştirmek ve kamu mallarını korumak; seyahat hürriyeti, suç soruşturması ve kovuşturması sebebiyle ve suç işlenmesini önlemek amaçlarıyla kanunla sınırlanabilir.

Bu bilgiye göre yerleşme hakkı aşağıdaki durumlardan hangisinde sınırlandırılabilir? Ü.2-K.5

- A) Adana'dan Ankara'ya iş gezisi yapıldığında
 B) Türkiye'den Almanya'ya eğitim için gidildiğinde
 C) Sart Harabeleri'ne yerleşmek için arsa alındığında
 D) Manisa'dan Antalya'ya yaz tatilini geçirmek için gidildiğinde

8.



Diyagramı tamamlamak için aşağıdakilerden hangisi kullanılamaz? Ü.2-K.4

- A) İş bulma B) Sel
 C) Eğitim D) Savaşlar

9. Yerleşim yerleri:

- ✓ Köy ✓ Kasaba
 ✓ Şehir ✓ Büyükşehir

Yukarıdaki bilgide yerleşim yerleri verilmiştir.

Yerleşim yerlerinin gruplanmasında aşağıdakilerden hangisi etkili olmuştur?

Ü.2-K.1

- A) Yer şekilleri
 B) Nüfus
 C) İklim
 D) Ekonomik faaliyetler

10.

İç Anadolu Bölgesi	151.000 km^2	11.81 milyon
Güneydoğu Anadolu Bölgesi	59.176 km^2	8.096 milyon

Yukarıdaki tabloda iki bölgemizin karşılaştırılması yapılmıştır.

Aşağıdakilerden hangisi bu tablodan çıkarılabilecek yargıdır? Ü.2-K.1

- A) İç Anadolu Bölgesi göç alır.
 B) Güneydoğu Anadolu Bölgesi kuraktır.
 C) İç Anadolu karasal iklime sahiptir.
 D) Güneydoğu Anadolu Bölgesi'nde nüfus yoğunluğu daha fazladır.

Adı / Soyadı:

Sınıfı:

Numarası:

Soru	1	2	3	4	5	Toplam
Puan						

1. DÖNEM 1. YAZILI SORULARI (5)

- mesaj
- alıcı
- marmara
- iç anadolu
- yapay
- doğal
- tuz gölü çevresi
- kaynak

1 Aşağıdaki cümlelerde boş bırakılan yerlere uygun ifadeleri yazın. (10P)

- a** İletişim sürecinde, bilgiyi veren kişi **kaynak**, bilgiyi alan kişi **alıcı** olarak nitelendirilir.
- b** Su kaynakları ve yer altı kaynakları, yerleşmeyi etkileyen **doğal** faktörlerdendir.
- c** **Marmara** ve Ege Bölgesi, göç alan bölgelerimizdendir.
- d** **Tuz Gölü çevresi** ve Güneydoğu Anadolu Bölgesi kuraklık nedeni ile seyrek nüfuslanmıştır.

2 Aşağıda verilen ifadeleri doğru ise D, yanlış ise Y yazın. (10P)

- D** Anayasamızda konut dokunulmazlığımız güvence altına alınmıştır.
- Y** Millî Mücadele döneminde, Mustafa Kemal'in önderliğinde "Takvim-i Vekayi" gazetesi çıkarılmıştır.
- Y** Ülkemizde nüfus genellikle iç kesimlerde toplanmıştır.
- D** Ankara'nın gelişmesinde başkent olmasının etkisi olmuştur.
- D** Sarıkamış'ta kış mevsiminde nüfus artışı görülür.

3 Aşağıdaki sözcüklerle, ilgili oldukları ifadeleri eşleştirin. (10P)

- e** Bilgilerin en hızlı yayıldığı kitle iletişim aracı.
- f** Çocukların bedensel istismarını önlemek için devletimiz tarafından kabul edilen bildiri.
- c** Atatürk'ün 1. Dünya Savaşı yıllarında arkadaşı Fethi Bey ile beraber çıkardığı gazete.
- a** Nüfus yoğunluğu az olan bir ilimiz.
- b** Yayla faaliyetlerinin geliştiği bir ilimiz.
- a** Tunceli
- b** Rize
- c** Minber
- d** İrade-i Milliye
- e** İnternet
- f** Çocuk Hakları Sözleşmesi

4 Aşağıda verilen akademik beceri sorusunu yanıtlayın. (20P)



“Baba Beni Okula Gönder” kampanyası, sivil toplum kuruluşlarıyla iş birliği içinde pek çok faaliyet gerçekleştirmiştir. Türkiye Özel Okullar Birliği Derneğiyle yatılı ilköğretim bölge okullarının yöneticilerine yönelik iki günlük özel eğitim düzenlenmiş; AÇEV’le birlikte beş ilde 500 anne babaya “Çocuğum ve Ben” konulu eğitim seminerleri verilmiştir. Bu kampanyada geçen dokuz yıl içinde sağlanan büyük destekle 33 yurdun ve 12 ilköğretim okulunun ya-

pımı gerçekleştirilmiş ve 10500 civarında kız çocuğuna eğitimlerine devam ettikleri süre boyunca burs verilmiştir. Aydın Doğan Vakfı, beş kız öğrenci yurdu yaptırarak kampanyaya önemli bir katkı sağlamıştır. Her yıl 3500’e yakın kız çocuğu, yapılan yurtlarda barınma imkânına kavuşmaktadır.

Türkiye’de çocukların eğitim hakları alanında yapılan sosyal sorumluluk projelerinden biri olan “Baba Beni Okula Gönder” kampanyası beklenen dönütleri vermiştir.

AÇEV tarafından nasıl bir açıklama yapılırsa kampanyaya katılım daha çok olur?

-Kız çocuklarının eğitim alması sadece kızlarımızı değil aynı zamanda ülkemizi kalkındıracak ve böylelikle daha iyi bir Türkiye, yaşanabilir bir Türkiye olacak.

-Anne ve babalar, özellikle size söylüyorum kız çocuğunuzu okutarak, omzunuzdaki yükü azaltıp, hafifletebilirsiniz.

-Kız çocuklarımıza eğitim vererek, toplum içindeki işçi sayısı artacak, böylelikle ucuz işçi gücüyle birlikte ülkemizdeki istihdam artmış olacaktır.

Kız çocuklarının eğitim alması sadece kızlarımızı değil aynı zamanda ülkemizi kalkındıracak ve böylelikle daha iyi bir Türkiye, yaşanabilir bir Türkiye olacaktır. Ülkemizi, muasır medeniyetler seviyesine yükseltmek istiyorsak kadınların toplum içindeki saygınlığını arttırmalıyız. Bunun da yolu kız çocuklarımızı okutmaktan geçmektedir.

TEST (10 x 5 = 50P)

5 Aşağıdaki çoktan seçmeli soruları yanıtlayın.

1. I. Konuşmacının jest ve mimiklerine dikkat etmek
II. "Hayır" demeyi bilmek
III. Öğüt vermek

Yukarıda verilen davranışlardan hangileri etkili iletişimde kullanılır? **Ü.1-K.1**

- A) I ve III **(B)** I ve II
C) II ve III D) I, II ve III

2. ✓ Bilgilendirme
✓ Kamuoyu oluşturma

Yukarıda kitle iletişim araçlarının görevleri verilmiştir.

Aşağıda verilen programlar kitle iletişim araçlarının görevleri ile eşleştirildiğinde hangi seçenek boşta kalır? **Ü.1-K.3**

- A) Yardım kampanyası için yapılan program
B) Komşu ülkelerde yaşanan olayların yer aldığı haber programı
(C) Bir kişinin yaptığı icadı tanıttığı program
D) Final maçının özetini gösteren futbol programı

3. 1994 yılında kurulan bu kurum, TV ve Radyo yayınlarını denetler. İzleyicileri rahatsız eden, toplum ahlakına aykırı vb. yayınlarda; yasal yollarla uyarı, yayın durdurma, para cezası gibi yaptırımlar uygular.

Bu paragrafta sözü edilen kurum aşağıdakilerden hangisidir? **Ü.1-K.2**

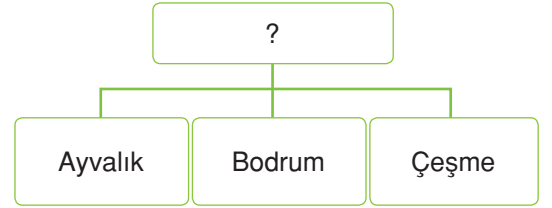
- A) TRT **(B)** RTÜK
C) SGK D) ÇATOM

4. I. Doğru bilgi vermeli.
II. Subjektif yayın yapmalı.
III. Kişi hak ve özgürlüklerini ihlal etmemeli.

Yukarıdakilerden hangisi ya da hangileri "Basın Ahlak Yasası" içinde yer alır? **Ü.1-K.4**

- A) Yalnız I **(B)** I ve II
C) II ve III D) I ve III

5.



Yukarıdaki diyagrama verilecek en uygun başlık hangisidir? **Ü.2-K.1**

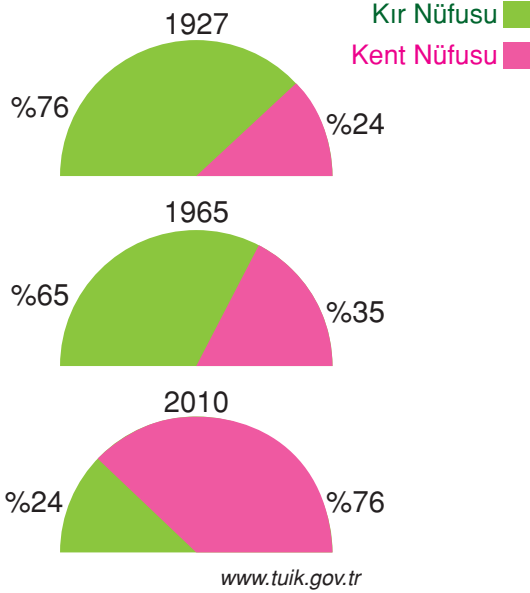
- A) Tarım Faaliyetlerinin Yaygın Olduğu Yerler
B) Ulaşım Yolları Üzerinde Olmaları
(C) Yaz Turizminin Geliştiği Yerler
D) Kış Turizminin Geliştiği Yerler

6. I. İşsizlik azalır.
II. Ülke nüfusu azalır.
III. Kültürler arası etkileşim gerçekleşir.

Yukarıda verilenlerden hangisi ya da hangileri dış göçün sonuçları arasında gösterilebilir? **Ü.2-K.4**

- A) Yalnız I B) Yalnız II
C) I ve II **(D)** I, II ve III

7. Yıllara Göre Türkiye'de Kırsal ve Kent Nüfusları



Yukarıdaki grafikte cumhuriyetin ilk yıllarından günümüze köyden kente nüfus oranları verilmiştir.

Bu değişimin sebepleri arasında aşağıdakilerden hangisi gösterilemez? Ü.2-K.2

- A) Çarpık kentleşme
 B) Tarlaların miras yolu ile bölünmesi
 C) Şehirlerde ekonomik faaliyetlerin çeşitli olması
 D) Tarımda makine kullanımı

8. I. İşsizliğin azaltılması
 II. İş imkânlarının artırılması
 III. Fabrikaların açılması

Yukarıda verilenlerden hangisi ya da hangileri Türkiye İş Kurumu tarafından gerçekleştirilmektedir? Ü.2-K.4

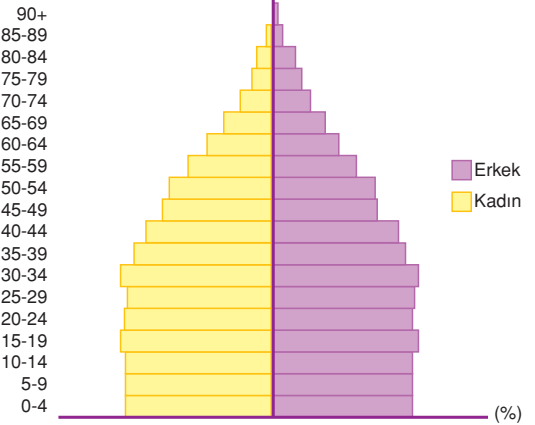
- A) Yalnız I
 C) I ve II
 B) Yalnız II
 D) I, II ve III

9. Eğitim-öğretim, bütün çocuklar için zorunludur.

Buna göre aşağıdakilerden hangisi devletin eğitim hakkı konusunda yaptığı çalışmalardan biri değildir? Ü.2-K.3

- A) Sivil toplum kuruluşları hizmete açar.
 B) Başarılı öğrencilerin eğitimini tamamlaması için burs sağlar.
 C) Özel eğitime ihtiyacı olan çocukları topluma kazandırmak için gerekli eğitimi sağlar.
 D) Bütün seviyelerde eğitim kurumu açar.

10. Yaş grubu



Yukarıdaki grafikte ülkemizin 2014 yılına ait nüfus verileri bulunmaktadır.

Yalnızca grafiğe bakılarak aşağıdaki yargılardan hangisine ulaşamaz? Ü.2-K.2

- A) Nüfusumuz, genç bir yapıya sahiptir.
 B) Kadın ve erkek sayısı birbirine yakındır.
 C) Nüfusumuzun çoğu, şehirlerde yaşamaktadır.
 D) Yaşlı nüfus azdır.

Adı / Soyadı:.....

Sınıfı:.....

Numarası:.....

Soru	1	2	3	4	5	6	Toplam
Puan							

1. DÖNEM 2. YAZILI SORULARI (1)**1 Aşağıdaki cümlelerde boş bırakılan yerlere uygun ifadeleri yazın. (10P)**

- Amasya
- RTÜK
- I. Dünya Savaşı
- II. Dünya Savaşı
- olumsuz
- olumlu
- beyin göçü
- TRT
- Trabzon

- a** “Günaydın anneciğim.” ifadesi **olumlu** iletişimi sağlar.
- b** 1964 yılında kurulan **TRT** devletin resmî yayın organıdır.
- c** Akademik çalışmalarını Fransa’da yapmak için giden kişi **beyin göçü** yapmış olur.
- d** 1940-1945 yılları arasında **2. Dünya Savaşı'nın** yaşanması ülkemizde nüfus artış hızını düşürmüştür.
- e** **Trabzon**, Amasra ve Sinop'un alınması ile Osmanlı Devleti, Karadeniz ticaretinde gücünü arttırmıştır.

2 Aşağıda verilen ifadeler doğru ise D, yanlış ise Y yazın. (5P)

- Y** Çatışma durumunun ortadan kalkması için, sorunu görmezden gelmeliyiz.
- Y** İlk kitle iletişim aracı, radyodur.
- D** Nüfus sayımlarında elde edilen veriler, bir ülkenin geleceğine yapılan yatırımlarda önemli rol oynar.
- Y** Akdeniz Bölgesi’nde yer alan Taşeli Platosu, denizcilik faaliyetleri sebebi ile yoğun nüfusludur.
- D** Doğunun zenginliklerine hakim olmak, Haçlı Seferlerinin ekonomik sebepleri arasındadır.

3 Aşağıdaki sözcüklerle, ilgili oldukları cümleleri eşleştirin. (5P)

- d** Ülkemizin ilk resmî gazetesi. **a** Konut Dokunulmazlığı
- a** “Kimsenin konutuna dokunulamaz.” maddesini içeren hakkımız. **b** Çalışma Hakkı
- b** Herkesin istediği işte çalışmasını güvence altına alan madde. **c** İç Göç
- c** Ülke sınırları içinde yapılan yer değiştirme hareketi. **d** Ceride-i Resmiye
- f** Osmanoğulları Beyliği’nin kurulduğu yer. **e** İrade-i Milliye
- f** Söğüt - Domaniç

4 Aşağıda verilen akademik beceri sorusunu yanıtlayın. (20P)



Orta Asya Türklerinin Anadolu'ya göç etmelerinin sebebi;

- Çin baskıları
- İklim şartları
- Artan hayvan hastalıkları
- Kuraklık
- Hızlı nüfus artışıdır.

Dönemin şartlarını göz önüne alarak, Orta Asya'da yaşayan Türk Hükümdarı boyuyla birlikte Anadolu'da sulak ve ılıman bir iklim yapısına sahip bir yere yerleşmek istemektedir.

- Önden keşif için atlı süvari gönderirse
- Yüzer kişilik kitleler hâlinde yerleşim yerlerine yerleşirse
- Önden kendisi giderek, beğendiği yerleşim yerinde üç ay zaman geçirirse

Buna göre hükümdar hangi çözümü seçerse halkı daha az zarar görmüş olur? Neden belirterek yazın.

Önden keşif için atlı süvari gönderirse, çünkü gönderdiği keşif askerleri iklim, yer şekilleri vs. hakkında bilgi toplayabilir.

5 Aşağıda verilen açık uçlu soruyu yanıtlayın. (10P)

Anadolu'da kurulan İlk Türk Beyliklerinin ortak özelliklerini kısaca açıklayın.

Hepsi Malazgirt Savaşı'ndan sonra kurulmuştur. İç işlerinde serbest, dış işlerinde Anadolu Selçuklu Devleti'ne bağlı hareket etmişlerdir. Hepsi kurucusunun adını almıştır. Anadolu'ya Türk-İslam kültürünün yayılmasında etkili oldukları gibi Anadolu'yu Haçlı saldırılarına karşı da korumuşlardır. Anadolu'ya yaptıkları mimari eserler ile Anadolu'yu bayındır hâle getirmişlerdir. Örneğin Artuklular Malabadi Köprüsü, Danişmentliler Yağlıbasan Medresesi, Saltuklular Mama Hatun Külliyesi, ... vb.

TEST (10 x 5 = 50P)

6 Aşağıdaki çoktan seçmeli soruları yanıtlayın.

1. I. Derse hep geç kalıyorsun.
II. Hiç beni dinlemiyorsun.
III. Müziğin sesini çok açtığın için ders çalışamıyorum.

Yukarıdaki ifadelerin hangisi ya da hangilerinde sen dili kullanılmıştır? Ü.1-K.2

- A) Yalnız I
B) Yalnız II
C) I ve II
D) I, II ve III

2. “Basın hürriyetinden doğacak mahzurların düzeltilmesi yine bizzat basın özgürlüğü ile olacaktır.” (Mustafa Kemal)

Mustafa Kemal’in bu sözü aşağıdakilerden hangisini destekler niteliktedir? Ü.1-K.6

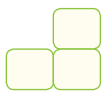



- A) Basının tekzip yayınlaması
B) Magazin programlarında sanatçıların özel hayatının anlatılması
C) Yarışma programlarının düzenlenmesi
D) Haber programlarının yayınlanması

3.

İşsizlik artar.	Hizmet talebi artar.
Tüketim artar.	Çevre kirliliği artar.

Yukarıdaki tabloda nüfus artışının sonuçları verilmiştir.

Olumsuz sonuçlar okul panosuna asılacağına göre panodaki şekil aşağıdakilerden hangisi gibi olur? Ü.2-K.2

- A) 
B) 
C) 
D) 

4. I. Karantina uygulaması
II. Çatışmaların yaşanması
III. Suçluluk hâli

Yukarıda verilen bilgilerden hangisi ya da hangileri yerleşme ve seyahat özgürlüğümüzü kısıtlar? Ü.2-K.5

- A) Yalnız I
B) Yalnız II
C) I ve II
D) I, II ve III

5. I. Yeniçeri Ocağı
II. Akıncılar
III. Cebeci Ocağı
IV. Tımarlı Sipahiler

Yukarıda Osmanlı'nın kara ordusundan bazı bölümleri verilmiştir.

Bu bölümler aşağıdaki seçeneklerin hangisinde doğru gruplanmıştır? Ü.3-K.2

Kapıkulu Askerleri

Eyalet Askerleri

- A) I ve II
B) II ve III
C) I ve III
D) I ve IV

- III ve IV
I ve IV
II ve IV
II ve III

6. ✓ Sivas'ta - Keykavus Darüşşifası
✓ Tokat'ta – Yağıbasan Medresesi
✓ Erzincan'da – Mama Hatun Külliyesi
Verilen eserler ile aşağıdaki alanlar eşleştirildiğinde hangi seçenek boşta kalır? Ü.3-K.1

- A) Sağlık
B) Eğitim
C) Sosyal
D) Ticaret

7.

Malazgirt Savaşı
?
?
Anadolu Selçuklu Devleti'nin yıkılması

Yukarıdaki tabloda Anadolu'da yaşanan olaylar kronolojik olarak sıralanacaktır.

Buna göre "?" olan yerlere aşağıdakilerden hangisi yazılamaz? Ü.3-K.1

- A) Mengüceklilerin kurulması
 B) Pasinler Savaşı
 C) Miryokefalon Savaşı
 D) I. Haçlı Seferi

8. 7. sınıf öğrencileri İstanbul'un fethinin dünya tarihi açısından sonuçlarını tartışmaktadırlar.

Murat: Doğu Roma İmparatorluğu yıkıldı.

Gamze: İstanbul'dan kaçan bilim insanları Avrupa'da Rönesans ve Reform hareketlerini başlattı.

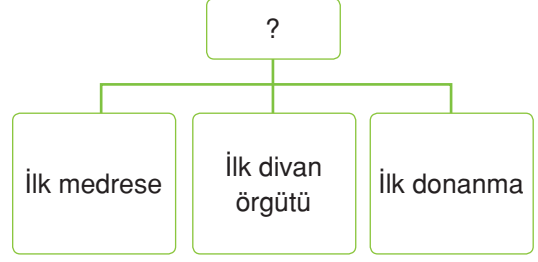
Sude: II. Mehmet, "Fatih" unvanını aldı.

Merve: Karadeniz ve Akdeniz ticaret yollarının güvenliği sağlandı.

Buna göre hangi öğrenciler doğru bilgi vermiştir? Ü.3-K.3

- A) Murat ve Sude
 B) Murat ve Merve
 C) Sude ve Merve
 D) Murat ve Gamze

9.



Yukarıdaki diyagramda, Osmanlı Devleti döneminde yaşanan gelişmeler verilmiştir.

Buna göre diyagramın başlığı aşağıdakilerden hangisi olabilir? Ü.3-K.2

- A) Ertuğrul Gazi Dönemi
 B) Osman Bey Dönemi
 C) Orhan Bey Dönemi
 D) II. Murat Dönemi

10.

Anadolu'nun kapılarının açılması	I
Anadolu'nun Türk yurdu olduğunun kesinleşmesi	II
Anadolu Selçuklularının Moğollar karşısında yenilmesi	III

Yukarıdaki tabloda Anadolu tarihinde yaşanan bazı savaşların sonunda gerçekleşen olaylar verilmiştir.

Hangi seçenekte bu savaşlar doğru olarak verilmiştir? Ü.3-K.1

- A) Malazgirt Savaşı-Miryokefalon Savaşı-Kösedağ Savaşı
 B) Miryokefalon Savaşı-Kösedağ Savaşı-Malazgirt Savaşı
 C) Malazgirt Savaşı-Kösedağ Savaşı-Miryokefalon Savaşı
 D) Kösedağ Savaşı-Malazgirt Savaşı-Miryokefalon Savaşı

Adı / Soyadı:

Sınıfı:

Numarası:

Soru	1	2	3	4	5	6	Toplam
Puan							

1. DÖNEM 2. YAZILI SORULARI (2)**1 Aşağıdaki cümlelerde boş bırakılan yerlere uygun ifadeleri yazın. (10P)**

- Çifte Minareli Cami
- Yakup Kadri
- Halide Edip
- Mengücekliler
- Malazgirt
- sanayi
- Zonguldak
- Kütahya
- Pasinler

- a** Günümüzde de varlığını devam ettiren Anadolu Ajansı, Mustafa Kemal'in desteği ile Yunus Nadi ve **Halide Edip** tarafından kurulmuştur.
- b** **Zonguldak**, taş kömürü yönünden zengin olması sebebi ile yoğun nüfuslanmıştır.
- c** Gelişmiş ülkelerde hizmet ve **sanayi** sektörlerinde çalışan kişi sayısı fazladır.
- d** Büyük Selçukluların, Bizans ile yaptığı ilk savaş 1048 yılında gerçekleşen **Pasinler** Savaşı'dır.
- e** UNESCO tarafından koruma altına alınan Divriği'deki Ulu Cami eseri, **Mengücekliler** tarafından yapılmıştır.

2 Aşağıda verilen ifadeler doğru ise D, yanlış ise Y yazın. (5P)

- D** Konuşurken jest ve mimiklerimiz, sözlerimizi desteklemelidir.
- Y** Ülkemizde nüfus dengeli dağılmıştır.
- Y** Nüfus sayısını yüz ölçümü ile çarparak nüfus yoğunluğunu hesaplarız.
- D** Sıkıyönetim ve seferberlik hâllerinde yerleşme ve seyahat hakkımız sınırlanabilir.
- Y** İlk Türk Beylikleri döneminde Mardin ve çevresinde "Saltuklular" kurulmuştur.

3 Aşağıdaki sözcüklerle, ilgili oldukları cümleleri eleştirin. (5P)

- b** Olumsuz iletişim davranışı.
- a** Kitle iletişim araçlarının görevi.
- e** Esnafın bağlı olduğu SGK birimi.
- f** Güneydoğu Anadolu'dan göçü engellemek için yapılan çalışma.
- c** Malazgirt Savaşı'nın komutanı.

- a** Eğitim
- b** Emir vermek
- c** Alparslan
- d** Çağrı Bey
- e** Bağkur
- f** GAP

4 Aşağıda verilen akademik beceri sorusunu yanıtlayın. (20P)

Aşağıdaki tabloda bazı yıllara ait ders kitabı dışında basılan kitapların sayısı ve okunma sayıları verilmiştir.

Yıllar	Basılan Kitap (adet)	Okunan Kitap
1986	6031	3520
1995	8000	4000
2001	14350	4650
2007	12000	8000
2013	15000	13000
2016	17000	13100

Türkiye'de kitap okuma yıllara göre nasıl değişmiştir? Bir cümle ile yazın.

5 Aşağıda verilen açık uçlu soruyu yanıtlayın. (10P)

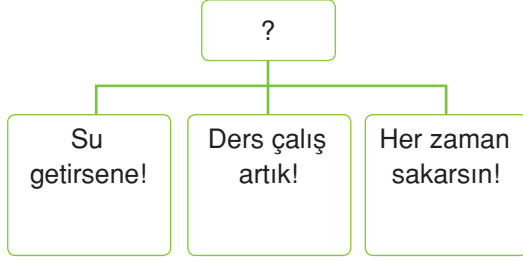
Anadolu Selçukluları döneminde Anadolu siyasi birliğini sağlamak için yapılan çalışmaları değerlendirin.

Malazgirt Savaşı'ndan sonra Anadolu'da beylikler dönemi başlamıştı. Örneğin; Erzurum ve çevresinde Saltuklular, Sivas - Tokat - Malatya çevresinde Danişmentliler, Mardin ve çevresinde, Artuklular...vb. gibi. Anadolu Selçuklu Devleti zamanla bu beyliklerin topraklarını kendi topraklarına kattı ve Anadolu'da siyasi birliği sağladı.

TEST (10 x 5 = 50P)

6 Aşağıdaki çoktan seçmeli soruları yanıtlayın.

1.



Diyagrama verilecek en uygun başlık aşağıdakilerden hangisidir? **Ü.1-K.2**

- A) Günlük İfadeler
 B) Olumlu İletişim
 C) Olumsuz İletişim
 D) Sen Dili

2. Kitle iletişim araçları, teknolojinin gelişmesi ile çok değişmiş ve birçok kolaylığı hayatımıza getirmiştir.

Aşağıdakilerden hangisi kitle iletişim araçlarının yararlarından biri değildir? **Ü.1-K.4**

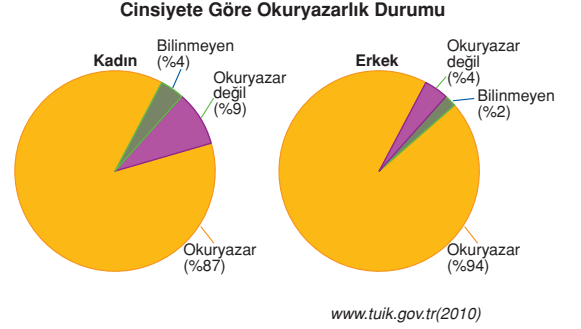
- A) Dünyada ve ülkemizde olup bitenden haberdar oluruz.
 B) Oyun oynayarak vakit öldürürüz.
 C) Bilimsel gelişmeleri takip ederiz.
 D) Değişik kültürleri tanırız.

3. I. Tarımda makine kullanılması
 II. Miras yolu ile toprakların bölünmesi
 III. Çevre kirliliği
 IV. Ekonomik imkânların fazla olması

Yukarıda verilenlerden hangileri göçün nedenleri arasında gösterilebilir? **Ü.2-K.3**

- A) I ve II
 B) I, III ve IV
 C) II ve III
 D) I, II ve IV

4.



Yukarıdaki grafikte, ülkemizde 2010 yılı itibarıyla kadın ve erkekte okuma-yazma oranı verilmiştir.

Buna göre aşağıdaki bilgilerden hangisine ulaşamaz? **Ü.2-K.3**

- A) Okuryazar erkek oranı, okuryazar kadın oranından fazladır.
 B) Okuma-yazma bilmeyen kadın sayısı erkek sayısından daha fazladır.
 C) Okuryazar olup olmadığı bilinmeyen grup kadınlarda daha fazladır.
 D) Kadınlarda okuryazar olmayan nüfusun oranı, erkeklerin bilinmeyen ve okuryazar olmayan nüfus oranından fazladır.

5. **Mustafa Öğretmen:** Çocuklar! Osmanlı Beyliği Söğüt ve Domaniç çevresinde kurulan küçük bir beyliktir. Ancak kısa zamanda büyümüştür. Kısa zamanda büyümesinin sebepleri nelerdir?

Mustafa Öğretmen'in sorusuna hangi öğrenci yanlış yanıt vermiştir? **Ü.3-K.2**

- A) **Cem** : Bizans'ta ve Balkanlarda siyasi birliğin olmamasıdır.
 B) **Alev** : Fetih hareketlerini Bizans'a doğru yapmış ve Anadolu beyliklerinin desteğini almıştır.
 C) **Efe** : Anadolu Selçuklularını ile iş birliği yapmıştır.
 D) **Ela** : Fetih bölgelerinde hoşgörü politikası uygulamıştır.

6. ✓ İzmir ve çevresinde kurulmuştur.
✓ Ege adalarının bazılarına sahip olmuşlardır.
✓ Denizcilik faaliyetleri ile uğraşmışlardır.

Yukarıda özellikleri verilen beylik hangisidir?

Ü.3-K.1

- A) Saltuklular
B) Çaka Beyliği
C) Mengücekliler
D) Danişmentliler

7. Osmanlı Devleti, fetih hareketlerinde Rumeli'ye doğru yönelmiştir.

Aşağıdaki fetihlerden hangisi bu bilgiyi kanıtlar niteliktedir?

Ü.3-K.3

- A) Trabzon Rum İmparatorluğuna son verilmesi
B) Dulkadiroğulları Beyliği'nin alınması
C) Karesioğulları Beyliği'nin alınması
D) Germiyoğulları Beyliği'nin alınması

8. Azınlıklar;
I. Dinlerini rahatça yaşayabilirlerdi.
II. Serbestçe ticaret yapabilirlerdi.
III. Adalet karşısında Müslümanlarla aynı haklara sahiptilerdi.

Yukarıda verilen bilgilerden hangisi ya da hangileri Osmanlı Devleti'nin hoşgörü politikası uyguladığına kanıttır?

Ü.3-K.3

- A) Yalnız I
B) Yalnız II
C) I ve II
D) I, II ve III

9. Kıbrıs → ? Kırım → ? Rodos → ?

Yukarıda Osmanlı Devleti'nin denizlerde yaptığı fetihler verilmiştir.

Tablodaki adalar ve deniz eşleştirmesi hangi seçenekte doğru verilmiştir?

Ü.3-K.3

- A) Akdeniz, Karadeniz, Ege
B) Akdeniz, Ege, Karadeniz
C) Ege, Akdeniz, Karadeniz
D) Ege, Karadeniz, Akdeniz

- 10.

Hakan Bey	Ben, polis memuruyum.	I
Nesrin Hanım	Benim, kendime ait bir giyim atölyem var. Burada renk renk kıyafetler dikiyorum.	II
Cansu Hanım	Ben, meyve suyu fabrikasında işçi olarak çalışıyorum.	III

Yukarıdaki tabloda bazı sektörlerde çalışan kişiler verilmiştir.

Bu kişiler ve bağlı oldukları Sosyal Güvenlik Kurumunun birimi hangi seçenekte doğru verilmiştir?

Ü.2-K.3

- | | | | |
|----|----------------|-----------|----------------|
| | <u>I</u> | <u>II</u> | <u>III</u> |
| A) | SGK | Bağkur | Emekli Sandığı |
| B) | Emekli Sandığı | SGK | Bağkur |
| C) | Bağkur | SGK | Emekli Sandığı |
| D) | Emekli Sandığı | Bağkur | SGK |

Adı / Soyadı:

Sınıfı:

Numarası:

Soru	1	2	3	4	5	6	Toplam
Puan							

1. DÖNEM 2. YAZILI SORULARI (3)

1 Aşağıdaki cümlelerde boş bırakılan yerlere uygun ifadeleri yazın. (10P)

- Çimpe
- TRT
- sürekli
- mevsimlik
- Alparslan
- iskân
- Çağrı Bey
- Anadolu Ajansı

- a** İrade-i Milliye, Hakimiyet-i Milliye ve **Anadolu Ajansı** Millî Mücadele döneminde faaliyet gösteren basın araçlarıdır.
- b** Gaziantep'ten Ordu'ya fındık toplamak için giden bir aile **mevsimlik** göç gerçekleştirir.
- c** Orta Asya'dan Anadolu'ya ilk akınlar, "..... **Çağrı Bey**" önderliğinde başlamıştır.
- d** Osmanlı Devleti fethettiği bölgelere göçebe Türkmenleri yerleştirerek **iskân** politikasını uygulamıştır.
- e** Osmanlı Devleti Rumeli'ye geçişte üs olarak **Çimpe** Kalesi'ni kullanmıştır.

2 Aşağıda verilen ifadelerin başına doğru ise D, yanlış ise Y yazın. (5P)

- Y** Öğüt vermek, olumlu iletişim davranışları arasındadır.
- D** Su kaynakları, yerleşmeyi (nüfuslaşma) etkileyen beşeri faktörler arasındadır.
- D** Bayburt, engebeli bir araziye sahip olduğu için göç verir.
- Y** IV. Haçlı Seferi ile Anadolu Selçuklu Devleti, İznik'i kaybetmiştir.
- D** Trabzon Rum İmparatorluğu'na, Fatih zamanında son verilmiştir.

3 Aşağıdaki sözcüklerle, ilgili oldukları cümleleri eşleştirin. (5P)

- c** Ülkemizin 2. büyük limanının bulunduğu şehrimiz.
- e** Turizm faaliyetleri nedeniyle yoğun nüfuslanan şehrimiz.
- a** Artuklulara ait bir eser.
- f** Osmanlı Devleti'nin ikinci kurucusu olarak bilinen padişah.
- d** Ege Denizi'nin Osmanlı gölü olmasını sağlayan padişah.
- a** Malabadi Köprüsü
- b** Yağlıbasan Medresesi
- c** İzmir
- d** Kanuni Sultan Süleyman
- e** Antalya
- f** I. Mehmet

4 Aşağıda verilen açık uçlu soruyu yanıtlayın. (10P)

Osmanlı Devleti'nin kısa sürede büyümesinin nedenlerini açıklayın.

Marmara Bölgesi'nde kurulması Osmanlı Devleti'ne coğrafi konum itibarıyla avantaj sağlamıştır. Bizans sınırında olması ve Bizans'ın güçsüz olması da Osmanlı Devleti'nin fetih politikalarını Bizans'a doğru yapmasını sağlamıştır. Bizans ile savaştığı için Anadolu beylerinin desteğini almıştır. Bir diğer hedefi ise Balkanlardır. Balkanlarda da güçlü bir devletin olmaması Osmanlı Devleti'nin fetih hareketlerini kolaylaştırmıştır. Bunların yanında hoşgörülü ve adaletli yönetimi, başa geçen padişahların yetenekli olması Osmanlı Devleti'nin kısa zamanda büyümesini sağladığı gibi fethettiği bölgelerde kalıcı olmasını sağlamıştır.

5 Aşağıda verilen akademik beceri sorusunu yanıtlayın. (20P)

ABİDE



İstanbul daha önceden sayısız defa kuşatılmıştır ancak İstanbul'u fethetmek kolay olmamıştır. Çünkü karada 6.492 m Marmara ve Haliç kıyılarında 820 m uzunluğunda birkaç kademedan oluşan surlar bulunuyordu. En önde Bizans'ın mobil kuvvetleri tarafından savunulan, arkasında 7 m genişlik ve derinliğindeki su ile dolu hendekler bulunan, bunların arkasında mızraklı asker-

lerin beklediği savunma mazgalları olan, savunma mazgalları geçildiği takdirde 5 -7 m yüksekliğindeki ikinci surla karşılaşılan birinci surları bir türlü geçememişlerdir.

Fatih Sultan Mehmet, askerî dehası ve galibiyete olan inancı sayesinde surları geçmeyi başarmış ve İstanbul'u 1453 yılında fethetmiştir.

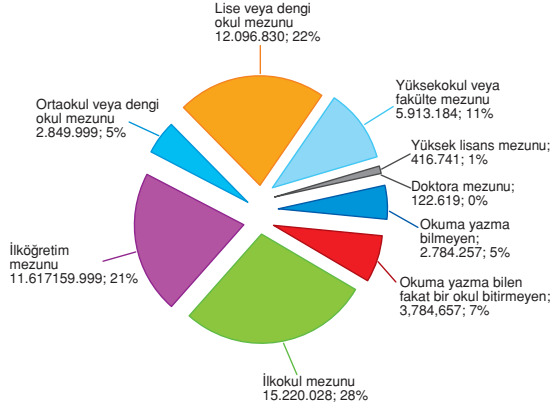
Fatih'in İstanbul'un fethi için yaptığı hazırlıklar nelerdir? Yazın.

Büyük toplar döktürmüş. Rumeli Hisarı'nı yaptırmış. 400 parçalık bir donanma oluşturmuş. Beylikler ve Balkan toplulukları ile barış antlaşmaları imzalamıştır.

TEST (10 x 5 = 50P)

6 Aşağıdaki çoktan seçmeli soruları yanıtlayın.

1. 15+ YAŞ EĞİTİM DURUMUNA GÖRE NÜFUSUN DAĞILIMI, 2012



Yukarıdaki pasta grafiğinde ülkemizdeki 15 yaş ve üstü nüfusun eğitim durumu verilmiştir.

Buna göre aşağıdaki yargılardan hangisine ulaşılamaz? Ü.2-K.2

- (A) Üniversite mezunu nüfusun çalışma oranı daha yüksektir.
- B) En az nüfusun olduğu oran doktora mezunudur.
- C) Nüfusumuzun yaklaşık 15 milyonu ilköğretim mezunudur.
- D) Okuma - yazma bilmeyen nüfusumuz 4 milyona yakındır.

2. I. Ülkemizdeki radyo ve televizyon yayınlarını denetleyen kurum
II. Yanlış bilgi veren basın yayın kuruluşlarının bu bilgiyi düzeltmek için yayınladığı yazı
III. Toplum çıkarları söz konusu olduğunda yayınların devlet tarafından kısıtlanması
Yukarıda bazı kavramların tanımları verilmiştir.

Bu tanımlar ait olduğu kavramlarla hangi seçenekte doğru eşleştirilmiştir? Ü.2-K.1

- | I | II | III |
|-----------|--------|--------|
| A) RTÜK | Sansür | Tekzip |
| (B) RTÜK | Tekzip | Sansür |
| C) Tekzip | Sansür | RTÜK |
| D) Sansür | Tekzip | RTÜK |

3.

Danışmentliler	I. ?
Mengücekliler	II. ?
Saltuklular	III. ?

Yukarıdaki diyagramda Anadolu'da kurulan beylikler ve kuruldukları yerler eşleştirilmiştir.

Buna göre “?” olan yerlere sırasıyla aşağıdakilerden hangisi getirilmelidir? Ü.3-K.1

- | I | II | III |
|------------|----------|----------|
| A) Erzurum | Erzincan | Sivas |
| B) Erzurum | Sivas | Erzincan |
| C) Sivas | Erzurum | Erzincan |
| (D) Sivas | Erzincan | Erzurum |

4.

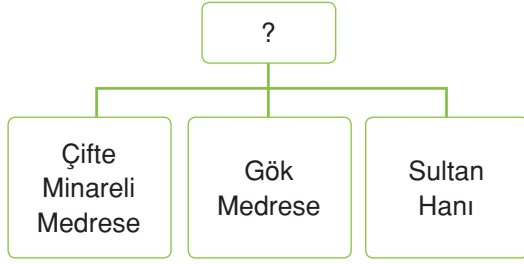
Skolastik düşünce zayıfladı.	Sosyal
Derebeyleri geri dönemeyince feodalite zayıflamaya başladı.	Siyasi
Doğu-Batı arasında ticari faaliyetler gelişti.	Ekonomik
İslam eserleri Avrupa dillerine çevrildi.	Dini

Yukarıdaki tabloda, Haçlı Seferlerinin sonuçları ve ilgili olduğu alanlar eşleştirilmiştir.

Tablonun doğru olması için hangi bilgiler yer değiştirmelidir? Ü.3-K.1

- A) Siyasi - Ekonomik
- (B) Sosyal - Dini
- C) Siyasi - Sosyal
- D) Ekonomik - Sosyal

5.



Yukarıdaki diyagrama gelebilecek en uygun başlık hangisidir? Ü.3-K.1

- A) Anadolu Selçuklu Mimari Eserleri
 B) Saltuklular Mimari Eserleri
 C) Danişmentliler Mimari Eserleri
 D) Osmanlı Mimari Eserleri

6. I. Osmanlı Devleti ile Timur arasında gerçekleşti.

II. Yıldırım esir düştü.

III. Osmanlı Devleti, Fetret Devri'ne girdi.

Yukarıda verilen bilgilerden hangileri Ankara Savaşı ile ilgilidir? Ü.3-K.3

- A) Yalnız I
 B) I ve II
 C) II ve III
 D) I, II ve III

7. I. İki kez tahta çıkmıştır.

II. Rodos Adası'nı almıştır.

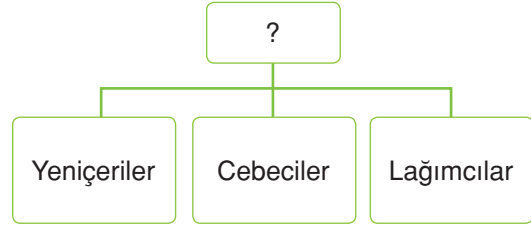
III. Bizans İmparatorluğu'na son vermiştir.

IV. Kırım, Osmanlı Devleti'ne bağlanmıştır.

Yukarıda verilenlerden hangileri Fatih döneminde gerçekleşmiştir? Ü.3-K.3

- A) II ve III
 B) II, III ve IV
 C) I, III ve IV
 D) III ve IV

8.



Yukarıdaki diyagrama verilecek en uygun başlık hangisidir? Ü.3-K.3

- A) Kapıkulu Piyadeleri
 B) Kapıkulu Süvarileri
 C) Eyalet Askerleri
 D) Yardımcı Kuvvetler

9. I. Üretimde artış ve süreklilik olmuştur.

II. Sınır topraklarının güvenliği sağlanmıştır.

III. Devletin hazinesinden para çıkmadan, asker yetiştirilmiştir.

IV. Askerler, devşirme sistemi ile alınmıştır.

Yukarıda verilenlerden hangileri Tımar Sistemi'nin özellikleri arasında gösterilebilir? Ü.3-K.3

- A) I ve II
 B) I, II ve IV
 C) I, II ve III
 D) II, III ve IV

10. "Avrupa'da Yahudilerin öldürüldüğü, yakıldığı, bir devirde Osmanlı bünyesindeki farklı din ve ırklara uyguladığı hoşgörülü yönetim ile dini özgürlüğü gerçekleştiren ilk millettir." (Tarihçi Gibbons)

Verilen bilgiden aşağıdakilerden hangisi çıkarılamaz? Ü.3-K.4

- A) Osmanlı Devleti, sadece dinde hoşgörülü davranmıştır.
 B) Avrupa'da hoşgörü ortamı yoktur.
 C) Osmanlı Devleti'nde farklı ırktan milletler yaşamaktadır.
 D) Osmanlı, hoşgörü konusunda dünyaya örnek olmuştur.

Adı / Soyadı:

Sınıfı:

Numarası:

Soru	1	2	3	4	5	Toplam
Puan						

1. DÖNEM 2. YAZILI SORULARI (4)**1 Aşağıdaki cümlelerde boş bırakılan yerlere uygun ifadeleri yazın. (10P)**

- 1927
- tımar
- kamuoyu
- fatih
- seferberlik
- devşirme
- 1923
- II. Mahmut

- a** Bir konu hakkında, toplumda oluşan düşünceye **kamuoyu** denir.
- b** Türk tarihinde, nüfus sayımı ilk kez **II. Mahmut** zamanında; cumhuriyet tarihinde ise **1927** yılında yapılmıştır.
- c** Kişi hak ve özgürlüklerimiz sıkıyönetim ve **seferberlik** gibi durumlarda sınırlandırılabilir.
- d** Osmanlı Devleti'nde, Hristiyan ailelerin erkek çocuklarından biri **devşirme** sistemi ile alınırdı.

2 Aşağıda verilen ifadeler doğru ise D, yanlış ise Y yazın. (5P)

- D** Olumlu iletişimin temel kuralı dinlemektir.
- Y** Günümüzde, nüfus sayımı yapıldığında sokağa çıkma yasağı uygulanır.
- D** Antalya'da, turizmin yanında yaylacılık faaliyetleri de gelişmiştir.
- D** Malazgirt Savaşı, Alparslan ve Romen Diyojen arasında yapılmıştır.
- Y** Ahi teşkilatı ilk defa Osmanlı Devleti zamanında kurulmuştur.

3 Aşağıdaki sözcüklerle, ilgili oldukları cümleleri eleştirin. (5P)

- a** Saltuklular
- b** Karesioğulları
- c** Deprem
- d** Eğitim
- e** Danışmentliler
- f** Denizli
- f** Sanayinin geliştiği bir ilimiz.
- c** Göçlerin doğal nedenlerinden biri.
- a** Erzurum ve çevresinde kurulan beylik.
- e** Sivas, Tokat, Malatya civarında kurulan beylik.
- b** Osmanlı Devleti'ne bağlanan ilk beylik.

4 Aşağıda verilen akademik beceri sorusunu yanıtlayın. (20P)



Bir navigasyon şirketinin yaptığı araştırmaya göre;

İstanbul'daki sürücüler günün herhangi bir saatinde trafikte yüzde 50 daha fazla zaman harcıyorlar. Yani İstanbul'da bir sürücü her gün trafikte fazladan 47 dakika geçiyor. Akşam yoğun saatlerde yüzde 94'e kadar çıkan bu oranla, normal

bir trafiğe nazaran yılda toplam 178 saat (7.5 gün) daha fazla zaman geçiriyorlar. İstanbul'da otoyollarda fazladan geçirilen süre yüzde 72 olarak belirlendi. Otoyol dışı yollarda ise bu oran yüzde 43'e iniyor. İstanbul'da okulların tatil edildiği gün olan 12 Haziran 2015 Cuma günü trafiğin en yoğun olduğu gündü. Ankara'da ise yılın en sıkışık trafiğe sahip günü yoğun kar yağışı yaşanan 6 Ocak Salı 2015 oldu.

İstanbul'daki trafik sorununu çözmek için;

- Akıllı uygulamalar
- Navigasyon cihazları
- Akıllı trafik levhaları
- Bisiklet kullanımını özendirme
- Toplu taşıma araçlarının konforlaştırılması

gibi çözüm önerileri sunuluyor.

İstanbul'un trafik sorununu çözmek için sizce nasıl bir uygulama yapılmalıdır? İki cümleyle yazın.

TEST (10 x 5 = 50P)

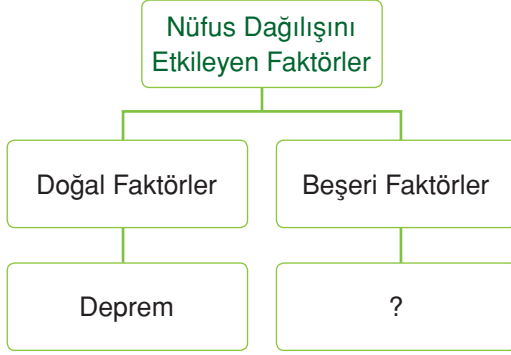
5 Aşağıdaki çoktan seçmeli soruları yanıtlayın.

1. I. Çok ayrıntılı konuşmak
II. Göz teması kurmak
III. Hoşgörülü olmak
IV. Her şeye evet demek

Yukarıda verilenlerden hangileri olumlu iletişimi sağlar? Ü.1-K.2

- A) I ve II B) II ve III
C) I ve IV D) III ve IV

2.



Yukarıdaki diyagrama göre "?" olan yere hangisi yazılamaz? Ü.2-K.1

- A) Yer altı kaynakları
B) Sanayi
C) Tarım
D) Ticaret

3. I. 75 milyonun üzerindedir.
II. Erkek ve kadın nüfusu birbirine yakındır.
III. Nüfusumuz sürekli artmaktadır.
IV. Nüfus artış hızı düşmektedir.

Yukarıda verilen bilgilerden hangileri ülkemizin nüfusunun özellikleri arasındadır? Ü.2-K.2

- A) I, II ve III B) I, III ve IV
C) II, III ve IV D) I, II, III ve IV

4.

		Başarılı	Başarısız
I	I. Haçlı Seferi		✓
II	II. Haçlı Seferi	✓	
III	III. Haçlı Seferi	✓	
IV	IV. Haçlı Seferi		✓

Yukarıdaki tabloda Haçlı Seferlerinin, "Türk tarihi" açısından değerlendirilmesi yapılmıştır.

Buna göre eşleştirmelerden hangileri doğrudur? Ü.3-K.1

- A) I ve II B) I, II ve III
C) II ve III D) I, II ve IV

5.

.....
Hristiyan ailelerinin erkek çocuklarından oluşur.

Fiziki olarak güçlü olanlar, Yeniçeri Ocağına gider.

Zeki olanlar, Enderun Mektebine gider.

Yukarıdaki tablonun başlığı aşağıdakilerden hangisi olabilir? Ü.3-K.2

- A) İskân Politikası
B) Devşirme Sistemi
C) Fetih Politikası
D) Tımar Sistemi

6. I. Karadeniz ticareti için Sinop'un alınması
II. Hırsızlık olaylarına karşı tüccarların malları sigortalanması
III. Kervansaraylarda, üç gün ücret alınması

Yukarıda verilen bilgilerden hangisi ya da hangileri Anadolu Selçuklu Devleti'nde ticareti geliştirmek için yapılan uygulamalardandır? Ü.3-K.1

- A) Yalnız I B) Yalnız II
C) II ve III **D) I, II ve III**

7.

I	Osman Bey	Bizans ile ilk savaş olan "Koyunhisar Savaşı" yapıldı.
II	Orhan Bey	İlk kez Tımar Sistemi'ni uyguladı.
III	I. Murat	Bursa'yı alarak başkent yaptı.
IV	Yıldırım Bayezit	İstanbul'u kuşattı.
V	I. Mehmet	Osmanlı Devleti'nin 2. kurucusu oldu.

Yukarıdaki tabloda Osmanlı Devleti'nin bazı padişahları ve bu padişahların yaptığı faaliyetler verilmiştir.

Tablonun doğru olması için kaç numaralı sütunda değişiklik yapılması gerekir? Ü.3-K.2

- A) I ve IV B) II ve V
C) II ve III D) I ve III

8. Bir magazin programında; ses sanatçısı E. G'nin çocuklarıyla beraber gittiği bir doğum günü partisinin görüntüleri yayınlanmış ve sanatçı ile ilgili yorumlarda bulunulmuştur.

Verilen bilgilere göre aşağıdakilerden hangisi doğrudur? Ü.2-K.5

- A) Çocukları olmadan yayınlamaları gerekirdi.
B) Herkesin sevdiği bir sanatçı olduğu için özel hayatı gizli olamaz.
C) Kendisinden izin alınarak çekim yapılmalıydı.
D) TV programı halkın haber alma hakkını sağladığı için görüntüleri yayınlamalı.

9. I. Bayezit döneminde; Germiyoğulları, Saruhanoğulları, Aydınoğulları beylikleri Osmanlı Devleti'ne bağlanmıştı.

Verilen bilginin amacı aşağıdakilerden hangisidir? Ü.3-K.3

- A) Ege Bölgesi'nde hakimiyeti arttırmak
B) Anadolu'da siyasi birliği sağlamak
C) İstanbul'un fethine hazırlık yapmak
D) Bizans'a karşı güç birliği yapmak

10. I. Maltepe Savaşı
II. Sazlıdere Savaşı
III. Sırpsındığı Savaşı

Yukarıda verilen savaşlardan hangisi ya da hangileri Bizans ve Osmanlı Devleti arasında yaşanmıştır? Ü.1-K.2

- A) Yalnız I B) Yalnız II
C) I ve II D) I, II ve III

Adı / Soyadı:

Sınıfı:

Numarası:

Soru	1	2	3	4	5	6	Toplam
Puan							

1. DÖNEM 2. YAZILI SORULARI (5)**1 Aşağıdaki cümlelerde boş bırakılan yerlere uygun ifadeleri yazın. (10P)**

- eğitim
- kitle iletişim
- İstanbul
- iletişim
- Ankara
- Konya
- İznik

- a** Lakap takmak , alay etmek, emir vermek gibi davranışlar olumsuz iletişime neden olur.
- b** Eğlendirmek, kamuoyu oluşturmak ve eğitim kitle iletişim araçlarının görevleri arasındadır.
- c** Ülkemizde sırasıyla İstanbul , Ankara ve İzmir nüfusu en fazla olan şehirlerimizdir.
- d** 1. Haçlı Seferi'nin sonunda Anadolu Selçuklu Devleti İznik'i kaybetmiştir.

2 Aşağıda verilen ifadeler doğru ise D, yanlış ise Y yazın. (5P)

- D** Farklılıklara karşı hoşgörülü davranmak olumlu iletişimi sağlar.
- Y** "Takvim-i Vekayi" ülkemizin ilk resmî gazetesidir.
- Y** Marmara Bölgesi'nin bütün bölümleri yoğun nüfuslanmıştır.
- D** Ülkemizin nüfusu sürekli artmaktadır.
- D** Dış göçler, her zaman ülke nüfusunu etkiler.

3 Aşağıdaki sözcüklerle, ilgili oldukları cümleleri eşleştirin. (5P)

- d** İşitsel kitle iletişim aracı. **a** Gelişmiş ülke
- a** Doğum oranı az, yaşlı nüfusu fazla olan ülkeler. **b** Gelişmekte olan ülke
- c** İzmir ve çevresinde kurulan beylik. **c** Çaka Beyliği
- e** Mardin ve çevresinde kurulan beylik. **d** Radyo
- f** Anadolu Selçuklu Devleti tarafından Bizans sınırına yerleştirilen beylik. **e** Artuklular
- f** Osmanoğulları

4 Aşağıda verilen açık uçlu soruyu yanıtlayın. (10P)

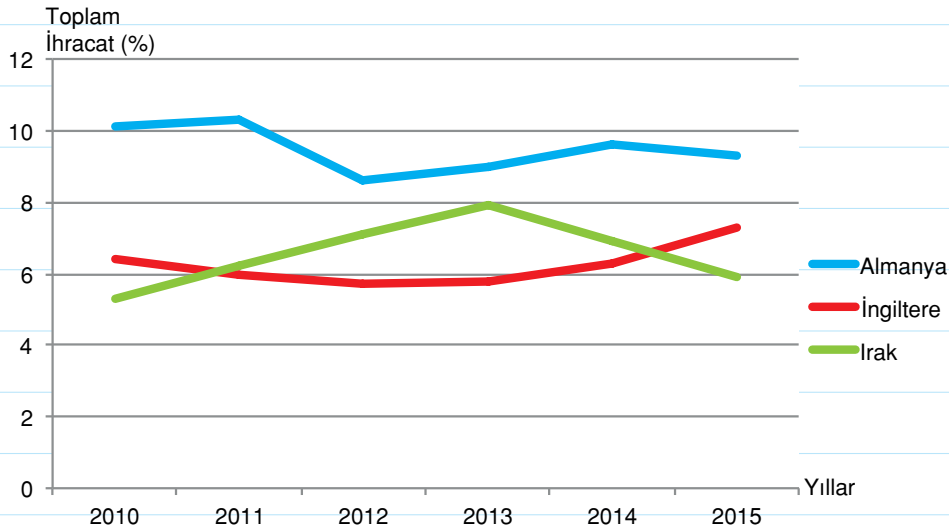
Haçlı Seferlerinin sonuçlarını açıklayın.

Dini Sonuçlar: Din adamlarına güven azaldı, skolastik düşünce zayıfladı. Reforma zemin hazırladı.

Ekonomik Sonuçlar: Doğu-Batı ticaret faaliyetleri gelişti. Akdeniz limanlarının önemi arttı. Coğrafi keşiflere zemin hazırladı.

Siyasi Sonuçlar: Türklerin ilerleyişi bir müddet yavaşladı. Derebeylerin çoğu geri dönemeyince feodalite zayıfladı, merkezi krallıklar güçlendi.

Kültürel Sonuçlar: Barut, matbaa, pusula gibi teknik buluşlar Avrupalılar tarafından öğrenildi.

5 Aşağıda verilen akademik beceri sorusunu yanıtlayın. (20P)**ABİDE**

Şekil 1 Türkiye'nin son 5 yılda bazı ülkelerle yaptığı ihracatın toplam ihracata oranı

Yukarıdaki grafikte TÜİK verilerine göre Türkiye'nin son 5 yılda Almanya, İngiltere ve Irak ile yapılan ihracatın toplam ihracata oranı yüzde olarak gösterilmiştir.

Grafiği inceleyin ve son 5 yılda Almanya ile yapılan ihracatın toplam ihracat oranındaki gelişmelerini tek cümle ile yazın.

Almanya ile yapılan ihracatın toplam ihracata oranı son 5 yılda, yıllara göre değişme göstermiş olup, 2011 yılında % 10.3 oranı ile son 5 yılın en yüksek ihracatı olarak gerçekleşmiştir.

TEST (10 x 5 = 50P)

6 Aşağıdaki çoktan seçmeli soruları yanıtlayın.

1.

	Sen dili	Ben dili
I. Her zaman derse geç kalıyorsun.	✓	
II. Yüksek sesle konuşunca rahatsız oluyorum.		✓
III. Hasta olduğum için seni anlamıyorum.		✓
IV. Kapıyı kapatsaydın, eve hırsız girmezdi.		✓

Yukarıdaki tabloda sen dili - ben dili ifadeleri eşleştirilmiştir.

Buna göre kaç numaralı cümle yanlış eşleştirilmiştir? Ü.1-K.2

- (A) IV B) III C) II D) I

2.

Fatih'ten önce İstanbul defalarca kuşatılmış ancak alınamamıştır. **Bu durumun nedenleri arasında;**

- I. Üç tarafının denizlerle çevrili olması
- II. Şehrin güçlü surlarla korunması
- III. Hz. Muhammed'in hadisinin daha önceden bilinmemesi
- IV. Bizans'ın Grejuva ateşini kullanması

hangileri gösterilebilir? Ü.3-K.3

- A) I ve II B) I, II ve III
(C) I, II ve IV D) II, III ve IV

3.

- I. Niksar Ulu Cami
- II. Yağıbasan Medresesi
- III. Divriği Ulu Cami

Yukarıda verilen eserlerden hangisi ya da hangileri Danişmentlilere aittir? Ü.3-K.1

- A) Yalnız I (B) I ve II
C) II ve III D) I, II ve III

4.

Ülke	Nüfus (milyon)	Yıllık artış oranı (%)	Ortalama ömür (Yıl)
Çin Halk Cum.	1.261	1,1	70
Hindistan	1.016	1,8	63
Japonya	127	0,3	81
İngiltere	60	0,4	77
Fransa	59	0,4	79
Mısır	64	2	67
Yunanistan	11	0,4	78
Bulgaristan	8	-0,7	71
Türkiye	67.8	1,8	69

Bazı ülkelerin nüfusu, yıllık nüfus artış oranları ortalama ömür süreleri

Yukarıdaki tabloda bazı ülkelerin nüfus ve rileri verilmiştir.

Buna göre aşağıdaki yargılardan hangisi söylenemez? Ü.2-K.2

- A) En gelişmiş ülke Japonya'dır.
B) Hindistan, bu ülkeler arasında gelişmişlik düzeyi en düşük ülkedir.
C) Türkiye ve Hindistan'ın yıllık ortalama nüfus artışı aynıdır.
(D) En az nüfusu olan ülke, Yunanistan'dır.

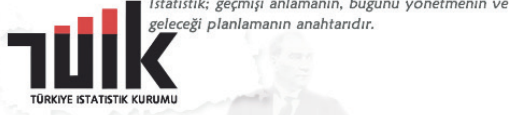
5.

- I. Kurulan ilk beylikler arasındadır.
- II. Süleyman Şah tarafından kurulmuştur.
- III. İznik başkentli kurulmuştur.

Yukarıda verilenlerden hangisi ya da hangileri Türkiye Selçuklu Devleti'nin özelliklerindedir? Ü.3-K.1

- A) Yalnız I B) Yalnız II
C) I ve II (D) I, II ve III

6.



TÜİK logosundan çıkarılabilecek en genel yargı aşağıdakilerden hangisidir?

Ü.2-K.2

- A) İstatistik geçmiş için önemli bilgileri bize verir.
- B)** Geçmiş veriler; bugünü idare etmede, gelecek için yatırım yapmada bize yol gösterir.
- C) Geçmişe bakarak bugünü planlayabiliriz.
- D) Geçmişini bırakarak sadece geleceğe yönelmemiz gerekir.
7. Anadolu fethedildikten sonra hızla Türk-İslam kültürü yayılmaya başlamıştır.

Aşağıdakilerin hangisinin Anadolu'da Türk-İslam kültürünün yayılmasında etkisi yoktur?

Ü.3-K.1

- A) Yusuf Has Hacı
- B)** Yunus Emre
- C) Hacı Bektaşî Veli
- D) Ahi Evran

8.

	1. Beylik	2. Beylik
I Osmanoğulları		✓
II Artuklular	✓	
II Dulkadiroğulları		✓
IV Çaka Beyliği		✓
V Hamitoğulları		✓

Yusuf, sosyal bilgiler sınavında, beylik ve dönem eşleştirmesi bölümüne yukarıdaki yanıtları vermiştir.

Buna göre Yusuf'un verdiği yanıtlardan hangileri doğrudur?

Ü.1-K.2

- A) I, II ve III
- B)** I, II, III ve V
- C) II, III ve IV
- D) III, IV ve V

9.

.....
Fethedilen yerleri Türkleştirmek
Göçebe Türkmenleri yerleşik hayata geçirmek
Fethedilen yerlerde kalıcı egemenlik sağlamak

Yukarıdaki tabloya verilecek en uygun başlık hangisidir?

Ü.3-K.2

- A)** İskân Politikasının Amaçları
- B) Fetih Politikası
- C) Göçebe Politikası
- D) Gaza Anlayışı

10.

.....
Yayınlarda; hiç kimseyi, düşüncesi nedeniyle kınayamaz.
Suçluluk durumu, yargı kararı ile kesinleşmedikçe, kimseyi suçlu ilan edemez.
Şiddet ve zorbalığı özendirici program yapamaz.
Doğruluğundan emin olmadan, haber yapamaz.

Yukarıdaki tabloya verilecek en uygun başlık hangisidir?

Ü.1-K.4

- A) Kişiler Arası Kurallar
- B)** Basın Ahlak Yasası
- C) Basın ve Toplum
- D) Kitle İletişim Araçları

Adı / Soyadı:

Sınıfı:

Numarası:

Soru	1	2	3	4	5	6	Toplam
Puan							

1. DÖNEM 3. YAZILI SORULARI (1)**1 Aşağıdaki cümlelerde boş bırakılan yerlere uygun ifadeleri yazın. (10P)**

- dış
- Artuklular
- Anadolu
- 1071
- iç
- İŞKUR
- Mengücekliler
- Orta Asya
- anayasa
- Malazgirt

- a** Göçler mesafesine göre; iç ve dış olarak ikiye ayrılır.
- b** Kişi hak ve özgürlüklerimiz, anayasaya uygun olarak sınırlandırılabilir.
- c** Ülkemizde, iş bulma faaliyetlerini İŞKUR yürütmektedir.
- d** Türkler, anavatanı olan Orta Asya 'dan Anadolu 'ya göç etmişlerdir
- e** 1071 yılında yapılan Malazgirt Savaşı ile Anadolu'nun kapıları Türklere açıldı.
- f** Artuklular ve Mengücekliler , Anadolu'da kurulan ilk beylikler arasında yer alır.

2 Aşağıda verilen ifadeler doğru ise D, yanlış ise Y yazın. (5P)

- Y** Ne olursa olsun tebessüm etmek, olumlu iletişimi sağlar.
- D** Devlet, haber alma özgürlüğümüzü sağlayacak tedbirleri alır.
- D** İklim koşullarının uygun olduğu yerler yerleşmeye uygundur.
- Y** Ülkemizde, sağlık koşulları iyileştiği için yaşlı nüfus genç nüfustan fazladır.
- D** İlk Türk denizcisi Çaka Bey, Çaka Beyliği'nin kurucusudur.

3 Aşağıdaki sözcüklerle, ilgili oldukları cümleleri eşleştirin. (5P)

- b** Türk tarihinde, ilk nüfus sayımının yapıldığı yıl. **a** Ankara Savaşı
- f** Adrese Dayalı Nüfus Kayıt Sistemi'nin uygulandığı yıl. **b** 1831
- c** Anadolu Selçuklu Devleti'nin yıkılma sürecine girmesine neden olan savaş. **c** Köseadağ Savaşı
- e** Bizans ve Osmanlı arasındaki ilk savaş. **d** 1. Haçlı Seferi
- a** Osmanlı Devleti'nin Fetret Devri'ne girmesine neden olan savaş. **e** Koyunhisar Savaşı
- f** 2007

4 Aşağıda verilen açık uçlu soruyu yanıtlayın. (10P)

Osmanlı Devleti'nde izlenen hoşgörü politikasını örneklerle açıklayın.

600 yıl 3 kıtada hüküm süren Osmanlı Devleti, bünyesinde farklı ırklardan ve inançlardan insanlar barındırdı. Bu insanlar kendi dillerini özgürce konuşurken dinlerini, kültürlerini yaşayabiliyorlardı. Devletin uyguladığı hoşgörü politikası, içinde yaşayan milletlere de yansdı. Hristiyanlar kendi dini bayramlarında Müslümanlara hediyeler sunarken Müslümanlar da kendi dini bayramlarında aynı uygulamayı yaptı. Birbirlerinin inançlarına saygılı olan bu milletler yıllarca kardeş gibi aynı topraklarda yaşadı. Osmanlı Devleti'nin hüküm sürdüğü topraklar üzerinde çeşitli din mabetlerinin yan yana bulunması bu hoşgörünün yansımasıdır.

5 Aşağıda verilen akademik beceri sorusunu yanıtlayın. (20P)

ABİDE

Genelkurmay Başkanlığının internet sitesinde yer alan açıklamada; Kara, Deniz ve Hava Kuvvetleri ile Jandarma Genel Komutanlığı ve Sahil Güvenlik Komutanlığının personel mevcutlarına ilişkin bilgiye yer verildi.

Buna göre, TSK'de 359 general ve amiral, 40 bin 458 subay, 98 bin 832 astsubay, 22 bin 439 uzman jandarma, 67 bin 462 uzman erbaş, 6 bin 15 sözleşmeli erbaş ve er olmak üzere 235 bin 565 uzman personel bulunuyor.

Genel Kurmay Başkanlığının verdiği bilgiye göre TSK'nin yıllık gideri ve devletin orduya harcadığı para yaklaşık 4.000.000.000 TL'dir.

Genel Kurmay Başkanlığının yıllık askerî giderleri azaltmak için;

- Askere alınan er ve erbaş sayısını azaltmak,
- Ar-Ge (Araştırma Geliştirme) bölümüne yönelerek, ülkeyi tehdit eden iç ve dış güçlere karşı maliyeti az fakat caydırıcılığı fazla olan silahlar kullanmak,
- Ülkede iç ve dış tehditlere karşı sorun odaklı çalışmalar yapmak,

Genel Kurmay Başkanlığı, hangi tasarruf yolunu seçerse yıllık askerî giderleri daha azaltmış olur?

Ülkede iç ve dış tehditlere karşı sorun odaklı çalışmalar yapmak. Çünkü sorun odaklı çalışmalar yapılırsa gerek zamandan gerekse paradan tasarruf edilmiş olunur.

TEST (10 x 5 = 50P)

6 Aşağıdaki çoktan seçmeli soruları yanıtlayın.

1. TÜRKİYE İSTATİSTİK KURUMU

TÜRKİYE İSTATİSTİK KURUMU

NÜFUS YOĞUNLUĞU - 2015					
Türkiye: 102					
En Yüksek 5 il		Malatya Bölge Müdürlüğüne Bağlı iller		En Düşük 5 il	
1. İstanbul	2 821	Malatya	66	77.Sivas	22
2.Kocaeli	493	Elazığ	68	78.Bayburt	21
3.İzmir	347	Bingöl	32	79.Ardahan	21
4.Gaziantep	283	Tunceli	12	80.Erzincan	19
5.Yalova	275			81.Tunceli	12

Yukarıdaki tabloda bazı şehirlerimizdeki nüfus yoğunlukları verilmiştir.

Ülkemizdeki nüfus değişimini etkileyen faktörleri de dikkate aldığımızda aşağıdaki yargılardan hangisi söylenemez?

Ü.2-K.2

- A) Ekonomik faaliyetlerin gelişmesi şehirlerin nüfus yoğunluklarını arttırmıştır.
- B) En yüksek beş ilde, kadın nüfusu daha fazladır.
- C) Yükseltinin fazla olduğu yerler seyrek nüfusludur.
- D) İklim şartları şehirlerin nüfusunu belirlemede etkili olmuştur.

2. Son yıllarda ülkemizde nüfus sayısı artarken, nüfus artış hızı düşüş göstermektedir. **Bu durumun oluşmasında,**

- I. Evlilik yaşının yükselmesi
II. Aile planlaması
III. Kadının iş hayatına girmesi

durumlarından hangisi ya da hangileri etkili olmuştur?

Ü.3-K.3

- A) Yalnız I
B) I ve II
C) II ve III
 D) I, II ve III

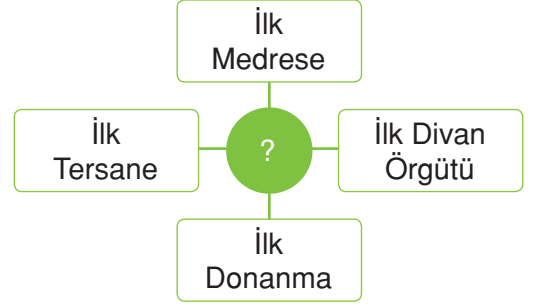
3. I. Bedesten
II. İmarethane
III. Külliye

Yukarıda verilenlerden hangisi ya da hangileri Anadolu Selçuklu Devleti'nin sosyal devlet olduğunu kanıtlar?

Ü.3-K.1

- A) Yalnız I
B) I ve II
 C) II ve III
D) I, II ve III

4.



Yukarıdaki diyagramda, Orhan Bey döneminde gerçekleşen bazı uygulamalar verilmiştir.

Buna göre bu diyagramdan çıkarılabilecek en kapsamlı sonuç aşağıdakilerden hangisidir?

Ü.3-K.2

- A) Anadolu'da siyasi birliğin sağlanması amaçlanmıştır.
- B) Devlet teşkilatı oluşturulmaya başlanmıştır.
- C) Eğitime önem verilmiştir.
- D) Denizcilik faaliyetlerine önem verilmiştir.

5.

.....

Avrupa'dan gelecek yardımı engellemek için Balkanlara büyük bir ordu gönderildi.

Rumeli Hisarı'nın karşısına, Boğazkesen Hisarı yaptırıldı.

Büyük bir donanma hazırlandı.

Surlara yaklaşmak için yürüyen kuleler yapıldı.

Yukarıdaki tabloya verilebilecek en uygun başlık hangisidir?

Ü.3-K.3

- A) İstanbul'un Fethi İçin Hazırlıklar
B) Rumeli'nin Fethi İçin Hazırlıklar
C) Askerî Güçteki Gelişim
D) Teknolojideki Gelişim

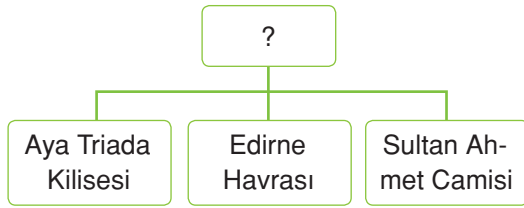
6. I. Defterdar
II. Kaptan-ı Derya
III. Kazasker

Yukarıda Osmanlı Devleti'nde saray görevlilerinin bazıları verilmiştir.

Günümüz bakanları ve komutanları ile bu görevlilerin eşleştirmesi yapıldığında hangi seçenek boşta kalır? Ü.3-K.3

- A) Adalet Bakanı
B) Deniz Kuvvetleri Komutanı
C) Başbakan
D) Maliye Bakanı

7.



Bu diyagrama verilecek en uygun başlık aşağıdakilerden hangisidir? Ü.3-K.2

- A) Osmanlı ve Azınlıklar
B) Osmanlı Devleti'nde Dinsel Değişim
C) Osmanlı'da Hoşgörü
D) Azınlık Hakları

8. Seyyahlar, gezip gördükleri yerleri kaleme alan kişilerdir. Avrupa'dan Osmanlı Devleti'ne gelen seyyahlar seyahatnamelerinde Osmanlı kültüründen söz etmişlerdir.

Aşağıdaki verilen konulardan hangisinin seyahatnamelerin içinde yer alması beklenemez? Ü.3-K.7

- A) Türklerin temizliğe olan düşkünlüğü
B) Türklerin yardımlaşma ve dayanışmaya verdiği önem
C) Türklerin Avrupa kültürünü taklit ettiği
D) Türklerin sağlık alanında gelişme gösterdiği

9. Yükselme dönemine kadar büyük bir ihtişama sahip olan Osmanlı Devleti'nde duraklama dönemine gelindiğinde, bazı kurumlar bozulmaya başlamış. Bunlardan biri de bir zamanlar Osmanlı Devleti'nin gücü olan Yeniçeri Ocağıdır. "Ocak devlet içindir." anlayışının yerini "Devlet ocak içindir." anlayışı almıştır. Bu değişimden sonra yeniçeriler kendi çıkarlarına aykırı durumlara tepki göstermiştir.

Aşağıdakilerden hangisi bu duruma kanıt olarak gösterilebilir? Ü.3-K.3

- A) IV. Murat'ın yeniçerileri düzenlemesi
B) II. Osman'ın yeniçeriler tarafından öldürülmesi
C) Tarhuncu Ahmet'in ilk kez denk bütçeyi hazırlaması
D) Koçi Bey Risalesi'nin hazırlanması

10.

I. 3. Ahmet	Padişah
II. Damat İbrahim Paşa	Sadrazam
III. Nedim	Minyatür Ustası
IV. Levni	Şair

Yukarıdaki tabloda Lale Devri'nde öne çıkan bazı kişiler verilmiştir.

Buna göre tablonun doğru olması için kaç numaralı kişiler yer değiştirmelidir? Ü.3-K.6

- A) I ve II
B) II ve III
C) I ve IV
D) III ve IV

Adı / Soyadı:

Sınıfı:

Numarası:

Soru	1	2	3	4	5	6	Toplam
Puan							

1. DÖNEM 3. YAZILI SORULARI (2)

1 Aşağıdaki cümlelerde boş bırakılan yerlere uygun ifadeleri yazın. (10P)

- kültür Bakanlığı
- ekonomik
- Mısır
- nüfus artış hızı
- siyasi
- Unesco
- sosyal
- Kudüs

- a** Son yıllarda nüfusumuz artarken, aile planlamasından dolayı **nüfus artış hızı** düşmeye başlamıştır.
- b** Göçlerin **ekonomik** nedenleri arasında iş bulma, turizm ve ticareti sayabiliriz.
- c** Devletin, maddi durumu yeterli olmayan öğrencilere eğitim desteği olarak burs vermesi **sosyal** devlet anlayışının göstergesidir.
- d** Mengüceklilere ait olan Divriği'deki Ulu Camii, **UNESCO** tarafından dünya miras listesine alınmıştır.
- e** **Kudüs'ün** Müslümanların elinde olması, Haçlı Seferlerinin dini nedenleri arasındadır.

2 Aşağıda verilen ifadeler doğru ise D, yanlış ise Y yazın. (5P)

- D** Yaz turizminin geliştiği yerlerde mevsimlik nüfus artışı olur.
- Y** II. Mahmut döneminde yapılan nüfus sayımında kadınlar ve erkekler sayılmıştır.
- Y** 1960-1965 arasında yurt dışından göç alan ülkemizde, nüfus artışı yaşanmıştır.
- D** Türklerin, Orta Asya'dan Anadolu'ya göç sebepleri arasında Çin baskısının etkisi vardır.
- Y** Osmanlı Devleti, Büyük Selçuklu Devleti'nin zayıflaması üzerine bağımsızlığını ilan etmiştir.

3 Aşağıdaki sözcüklerle, ilgili oldukları cümleleri eşleştirin. (5P)

- b** Mama Hatun Külliyesi'nin ait olduğu beylik. **a** Konya
- e** Anadolu Selçuklu Devleti'nde tüccarların konakladığı yapı. **b** Saltuklular
- f** Anadolu Beylikleri döneminde, Balıkesir ve Çanakkale çevresinde kurulan beylik. **c** Evliya Çelebi
- c** Osmanlı Dönemi'nde öne çıkan seyyah. **d** 28 Mehmet Çelebi
- d** Lale Devri'nde Avrupa'ya gönderilen ilk geçici elçi. **e** Kervansaray
- f** Karesioğulları

4 Aşağıda verilen açık uçlu soruyu yanıtlayın. (10P)

Osmanlı Devleti'nde uygulanan iskân politikasının amaçlarını açıklayın.

Bu politika ile Anadolu'da göçebe yaşayan Türkmenler fethedilen yerlere yerleştirilmiştir. İskân politikasının faydaları ise; göçebe yaşayan Türkmenler yerleşik hayata geçmiş, fethedilen yerlerde Türk ve Müslüman nüfus artmış, fethedilen yerlerde egemenlik daha kalıcı hâle gelmiştir.

5 Aşağıda verilen akademik beceri sorusunu yanıtlayın. (20P)

ABİDE



I. Murat zamanında kurulan ve II. Mahmut zamanında kaldırılan bu ocak, Osmanlı ordusundaki kapıkulu askerlerinin bir bölümüydü. Üç ayda bir "ulufe" denilen maaş alan yeniçeri askerleri her padişah değişikliğinde de "Cülus" denilen bahşış alırlardı.

Kapıkulu askerlerinden olan yeniçerilerde askerî birlik ve disiplini sağlamak için;

→ Evlenmeleri yasaklanmış.

→ Sakal bırakmaları zorunlu hâle getirilmiş.

→ Kışlarından ayrılmaları yasaklanmış.

→ İslamiyet'in emirlerini eksiksiz yerine getirmeleri şart koşulmuş.

→ Kumandan ve zabıtlere aynı birlikten yetişmiş bile olsalar şartsız itaat etmeleri şartı konulmuştur.

Siz, I. Murat ve II. Mahmut dönemleri arasında padişah olsaydınız, Yeniçeri Ocağını disipline etmek için nasıl bir uygulama yaptınız? Bir cümleyle yazın.

TEST (10 x 5 = 50P)

6 Aşağıdaki çoktan seçmeli soruları yanıtlayın.

1.

Sivas Kongresi'nde çıkarılma kararı alınan gazete. I

Anadolu ve Rumeli Müdafaa-i Hukuk Cemiyeti adına bastırılan gazetedir. II

7 Ekim 1920'de yayına başlayan ilk resmi gazete. III

Yukarıdaki tabloda Millî Mücadele zamanında yayına başlayan bazı gazetelerin özellikleri verilmiştir.

Aşağıdakilerin hangisinde gazetelerin adları doğru verilmiştir? Ü.1-K.6

- | | I | II | III |
|-------------------------------------|---------------------|---------------------|---------------------|
| A) <input checked="" type="radio"/> | İrade-i Milliye | Hakimiyet-i Milliye | Ceride-i Resmîye |
| B) <input type="radio"/> | Hakimiyet-i Milliye | İrade-i Milliye | Ceride-i Resmîye |
| C) <input type="radio"/> | İrade-i Milliye | Ceride-i Resmîye | Hakimiyet-i Milliye |
| D) <input type="radio"/> | Hakimiyet-i Milliye | Ceride-i Resmîye | İrade-i Milliye |

2.

- I. İlk kez çiçek aşısı yapıldı.
 II. Yalova'da kâğıt fabrikası kuruldu.
 III. İlk özel matbaa kuruldu.
 IV. Avrupa'ya daimi elçiler gönderildi.

Yukarıda verilenlerden hangileri Lale Devri yenilikleri arasında gösterilebilir?

Ü.3-K.6

- A) I, II ve III B) II, III ve IV
 C) I, III ve IV D) I ve II

3.

Türkiye, coğrafi yapısı itibarıyla farklılıklar gösterir. Bu farklılıklar bazı şehirlerin yoğun nüfuslanmasına bazı şehirlerin seyrek nüfuslanmasına neden olmuştur.

Göçlerin sonuçları arasında aşağıdakilerden hangisi yoktur? Ü.2-K.4

- A) Konut yetersizliği ortaya çıkar.
 B) Kentlerde işsizlik sorunu ortaya çıkar.
 C) Kentlerde doğum oranı artar.
 D) Çarpık kentleşme oluşur.

4.

I	Artuklular	Malabadi Köprüsü
II	Saltuklular	Yağlıbasan Medresesi
III	Danışmentliler	Emir Saltuk Türbesi
IV	Anadolu Selçuklu Devleti	Çifte Minareli Medrese

Yukarıdaki tabloda bazı dönemlerde Anadolu'da inşa edilen eserler ve inşa edildiği dönemler eşleştirilmiştir.

Tablonun doğru olması için hangi numaralarda değişiklik yapılması gerekir?

Ü.3-K.1

- A) I ve II B) I ve IV
 C) III ve IV D) II ve III

5.

- I. Kutsal topraklar Osmanlı egemenliğine girdi.
 II. Suriye, Lübnan, Filistin; Osmanlı egemenliğine girdi.
 III. Halifelik Osmanlı hanedanına geçti.

Yukarıda verilen bilgilerden hangisi ya da hangileri Yavuz Sultan Selim'in Mısır Seferi sonucunda gerçekleşmiştir?

Ü.3-K.3

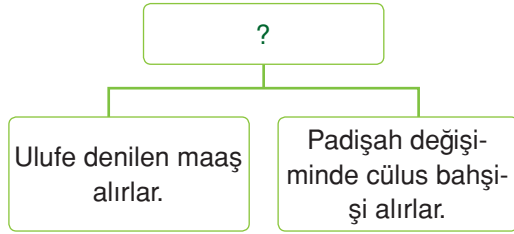
- A) Yalnız I B) I ve II
 C) II ve III D) I, II ve III

6. I. Germiyanogullarını Osmanlı'ya bağladı.
II. İstanbul'u kuşattı ama alamadı.
III. Timur ile yaptığı savaşı kaybetti.

Yukarıda özellikleri verilen padişah hangisidir? Ü.3-K.2

- A) Fatih Sultan Mehmet
B) Orhan Bey
C) Osman Bey
 D) Yıldırım Bayezit

7.



Diyagrama verilebilecek en uygun başlık aşağıdakilerden hangisidir? Ü.3-K.3

- A) Tımarlı Sipahiler
B) Kapıkulu Askerleri
 C) Azaplar
D) Akıncılar

8. Venediklilerin elinde bulunan Girit adası 24 yıl kuşatmanın ardından alınabilmiştir.

Bu durumun nedenleri arasında;

- I. Girit'in çok iyi korunması
II. Osmanlı donanmasının güç kaybetmesi
III. Venediklilerin çok güçlü olması

hangisi ya da hangileri gösterilebilir?

Ü.3-K.3

- A) Yalnız I B) Yalnız II
C) I ve II D) I, II ve III

9. Aşağıdaki öğrenciler, Haçlı Seferlerinin sonuçlarını tartışıyorlar.

Ahmet: Din adamlarına güven azalmıştır.

Buse: Derebeylerin çoğu geri dönemiştir.

Fatih: Avrupalılar, teknik buluşları öğrendi.

Buna göre öğrencilerin verdiği bilgilerin ait olduğu alanlar hangi seçenekte doğru eşleştirilmiştir? Ü.3-K.1

	Buse	Ahmet	Fatih
<input checked="" type="radio"/> A)	Dini	Siyasi	Kültürel
B)	Siyasi	Dini	Kültürel
C)	Kültürel	Siyasi	Dini
D)	Siyasi	Kültürel	Dini

10. Aşağıdaki öğrenciler kendi yaşadıkları şehirleri anlatmaktadır.

Murat: Benim yaşadığım yerde yer şekilleri engebeldir. Bu nedenle ailem hayvancılık faaliyetleri ile uğraşır.

Gökçe: Benim yaşadığım yer mevsimlik göç alır. Çünkü tarlaya ektiğimiz ürünün toplanması zor oluyor.

Zuhal: Benim yaşadığım yerde çevre iller fazla nüfuslanmamıştır. Ancak yaşadığım ilde çıkarılan maden sayesinde şehrimizde nüfus yoğundur.

Öğrencilerin söz ettiği şehirler aşağıdaki seçeneklerle eşleştirildiğinde hangi seçenek boşa kalır? Ü.2-K.1

- A) Artvin B) Balıkesir
C) Batman D) Adana

Adı / Soyadı:

Sınıfı:

Numarası:

Soru	1	2	3	4	5	6	Toplam
Puan							

1. DÖNEM 3. YAZILI SORULARI (3)

1 Aşağıdaki cümlelerde boş bırakılan yerlere uygun ifadeleri yazın. (10P)

- siyasi
- sıfır
- sürekli
- dört
- mevsimlik
- beş
- ulufe
- cülus
- sosyokültürel

- a** Eğitim, sağlık ve din nüfus dağılımını etkileyen **sosyokültürel** nedenler arasında gösterilebilir.
- b** 1935 yılından sonra nüfus sayımları, sonu **sıfır** ve **beş** ile biten yıllarda yapılmıştır.
- c** Memurların atanması ile gerçekleştirilen yer değiştirme hareketi **sürekli** göç olarak adlandırılır.
- d** Yeniçeriler, üç ayda bir **ulufe** denilen maaş alırlardı.

2 Aşağıda verilen ifadeler doğru ise D, yanlış ise Y yazın. (5P)

- D** Karşımızdaki kişiye nazik davranmak, olumlu iletişim sağlar.
- Y** Televizyon, en hızlı kitle iletişim aracıdır.
- Y** Türkiye’de kadın nüfusu, erkek nüfusundan fazladır.
- D** 1961 yılında ülkemizden Almanya’ya işçi göçü yaşanmıştır.
- Y** Anadolu Selçuklu Devleti, Konya merkezli kurulmuştur.

3 Aşağıdaki sözcüklerle, ilgili oldukları cümleleri eşleştirin. (5P)

- e** Köseadağ Savaşı’ndan sonra Anadolu’yu baskısı altına alan devlet.
- a** Anadolu’ya, Türk kültürünün yayılmasında etkili olan kişi.
- c** Anadolu Selçuklu Devleti’nin en güçlü zamanını yaşadığı padişah.
- b** Osmanlı Devleti’nin ait olduğu boy.
- d** Osmanlı Devleti zamanında Akdeniz’i Türk gölü hâline getiren padişah.

a Yunus Emre**b** Kayı**c** Alaaddin Keykubad**d** Kanuni Sultan Süleyman**e** Moğollar**f** 2. Kılıç Arslan

4 Aşağıda verilen açık uçlu soruyu yanıtlayın.(10P)

Osmanlı Devleti'nde uygulanan devşirme sistemini açıklayın.

Fethedilen yerlerdeki Hristiyan ailelerin erkek çocuklarından birinin ailenin rızası ile alınması şeklindeki sisteme devşirme sistemi denilmiştir. Alınan bu çocuklar küçük yaşlarda Anadolu'da Müslüman- Türk ailelerinin yanına verilir. Türk ve Müslüman kültürü ile yetiştirilen bu çocuklar daha sonra Acemioğlanlar Ocağına gönderilirdi. Fiziksel olarak güçlü ve kuvvetli olanlar Yeniçeri Ocağına gönderilir, zeki ve yetenekli olanlar ise Enderun Mektebinde eğitim alırlar ve devlet dairelerinde yönetici olurlardı.

5 Aşağıda verilen akademik beceri sorusunu yanıtlayın. (20P)**ABİDE**

İkinci Dünya Savaşı'nın ardından, Almanya'nın nüfusu giderek azalmış ve 1960'larda yabancı iş gücüne ihtiyaç duyulmuştur. Benzer ihtiyaçlar diğer gelişmiş Avrupa ülkelerinde de duyulmuş ve Türk işçileri 1960'lı yıllarda Avrupa ülkelerine ve özellikle Almanya'ya çalışmak için gitmeye başlamışlardır. 1961 Anayasası ile birlikte Türk vatandaşlarına seyahat özgürlüğü temel bir hak olarak tanındı. Bu yıllarda Türkiye'deki çok sayıda gizli işsiz daha iyi ücret koşullarını elde edebilmek için yurt dışına yöneldiler. 1960'ta yurt dışında 2700 işçi çalışırken, bu sayı bir yılda %300 artışla 6700'e yükselmiştir. 1962'de ise önemli bir yapısal değişiklik daha gerçekleşti. Berlin Duvarı'nın inşası - demokratik Alman Cumhuriyeti'nden batıya kaçmak isteyenleri engelliyordu ve Türkiye'nin ilk beş yıllık kalkınma planını yürürlüğe koymasıyla "artan iş gücü ihracatı" planının ana hedeflerinden biri olarak kabul edildi. Bu göç akımına olağanüstü bir hız getirdi. Sonuç olarak 1963'te Türkiye'den Almanya'ya 27500 işçi gitti. Türkiye'den giden işçiler, Almanya'da öncelikle coşkuyla karşılandı.

1960 sonrası Almanya'da çalışan gurbetçilerimiz için, Alman Büyük elçiliğimizin açtığı okullarda ders programlarına gurbetçi vatandaşlarımızın kültürlerini koruması, millî benliklerini unutmaması, kültürel yozlaşmayı engellemesi için bir ders kitabı hazırlamıştır.

Hazırlanan ders kitaplarında neler olmalıdır? Başlıklar hâlinde yazın.

TEST (10 x 5 = 50P)

6 Aşağıdaki çoktan seçmeli soruları yanıtlayın.

1. Aşağıdakilerden hangisi Atatürk'ün iletişime verdiği öneme kanıt olamaz?

Ü.1-K.6

- A) İrade-i Milliye gazetesinin faaliyetlerinde rol oynaması
 B) Anadolu Ajansının kurulmasına öncülük etmesi
 C) Hakimiyet-i Milliye gazetesinin o dönemde çıkarılması
 (D) TRT'nin ilk yayınına başlaması

2.



Ali, sosyal bilgiler ödevi için dilsiz haritada sık nüfuslu yerleri göstermiştir.

Buna göre Ali'nin ödevinde yanlış gösterdiği yerler hangi seçenekte verilmiştir?

Ü.2-K.1

- A) 1 ve 2
 B) 2 ve 4
 (C) 1 ve 4
 D) 4 ve 5

3. Akademik çalışmalar yapan kişilerin bu çalışmalarını farklı ülkelerde yapması beyin göçü olarak adlandırılır. Buna göre,

- I. Fransa
 II. Hindistan
 III. İtalya
 IV. İngiltere

verilen ülkelerden hangilerine beyin göçü yaşanır?

Ü.2-K.4

- A) I ve IV
 B) I, III ve IV
 C) I, II ve IV
 D) II, III ve IV

4. Çocuk Hakları Sözleşmesi:

Madde 2. Taraf Devletler özellikle şu önlemleri alırlar:

- a) İşe kabul için bir ya da birden çok asgari yaş sınırı tespit ederler.
 b) Çalışmanın saat olarak süresi ve koşullarına ilişkin uygun düzenlemeleri yaparlar.”

Yukarıdaki bilgide, "Çocuk Hakları Sözleşmesi"nin içeriğinden bir bölüm verilmiştir.

Buna göre aşağıdaki bilgilerden hangisi yanlış olur?

Ü.2-K.3

- (A) Ailesinin imkânları yeterli olmazsa çocuk istediği işte çalışabilir.
 B) Çocuğun çalışması için yaş sınırı önemlidir.
 C) Çalışma saatleri, çocuğun yaşına uygun olmalıdır.
 D) Çocuk bedensel gücünün üstünde bir işte çalışamaz.

5.

Avrupalılar; halkı kralların dininde görmek isterler. Bunların aksine Türkler, evrenselliği benimseyip hayata geçirmişler, barış içinde bir arada yaşamayı içtenlikle savunmuşlardır. İşte böylece Türkler dünya medeniyetine en büyük katkıyı bu hususta yapmışlardır.

(Jean Paul Roux, Histoire des Turces, s.33)

Yukarıdaki verilen metne göre,

- I. Avrupa'da dinsel hoşgörü yoktur.
 II. Türkler farklı din ve ırktan insanlarla bir arada yaşamışlardır.
 III. Türkler sadece hoşgörü konusunda örnek olmuşlardır.

yargılarından hangisi ya da hangilerine ulaşılabilir?

Ü.3-K.4

- A) Yalnız I
 B) I ve II
 C) II ve III
 D) I, II ve III

6. Malazgirt Savaşı'ndan sonra Anadolu'ya gelen Türk boyları, fethettikleri bölgelere yerleşmişler ve ilk Türk Beylikleri dönemi başlamıştır. Türk boyları fethettikleri yerleri bayındır hâle getirmiştir.

Aşağıdakilerden hangisi verilen bilgiye kanıt olamaz?

Ü.3-K.3

- A) Mengüceklilere ait Divriği Ulu Cami
B) Artuklulara ait Malabadi Köprüsü
C) Saltuklulara ait Mama Hatun Külliyesi
D) Osmanlı Devleti'ne ait Selimiye Camisi





7.

Üretimde artış ve devamlılık sağlanmıştır.	Sınıf topraklarının güvenliği sağlanmıştır.
Ulufe denilen maaşla çalışmışlardır.	Her zaman savaşa hazır askeri olmuştur.

Yukarıdaki tabloda Tımar Sistemi'ne ait bazı bilgiler verilmiştir.

Tablonun yanlış olan parçası kesildiğinde aşağıdaki şekillerden hangisi oluşur?

Ü.3-K.3

- A)  B) 
C)  D) 

8. "İstanbul'un fethinin sonuçları Türk ve dünya tarihi açısından iki farklı şekilde değerlendirilebilir."

Buna göre aşağıdaki yorumlardan hangisi İstanbul'un fethinin Türk açısından sonuçlarındandır?

Ü.3-K.3

- A) İstanbul'un fethiyle Orta Çağ kapandı, Yeni Çağ açıldı.
B) İstanbul'un fethinden sonra İtalya'ya giden bilim insanları, Rönesans'ın başlamasına katkıda bulundu.
C) İstanbul'un fethi ile İpek Yolu'nun Osmanlı'nın eline geçmesi, Avrupalıları yeni ticaret yolları arayışına yöneltti.
D) Osmanlı İmparatorluğu'nun İslam dünyasında saygınlığı arttı.

9. 1. Murat döneminde, Osmanlı egemenliğine girmiş ve Fatih'in İstanbul'u fethine kadar Osmanlı Devleti'ne başkentlik yapmıştır. Başkent olduktan sonra hızla gelişen şehirde, Hristiyanların bıraktığı izler korunurken İslamiyet'in izleri de yerleştirilmiştir.

Verilen metinde sözü edilen şehir aşağıdakilerden hangisidir?

Ü.3-K.5

- A) Bursa B) Konya
C) İstanbul **D) Edirne**

10. **Onur Öğretmen:** Çocuklar! Osmanlı Devleti'nin Avrupa'dan etkilendiği göstergelerden biri de, İbrahim Müteferrika'nın açtığı matbaadır. Açılan bu özel matbaada hangi alanda kitaplar basılmıştır?

Öğretmenin sorduğu soruya hangi öğrenci yanlış yanıt vermiştir?

Ü.3-K.6

- A) **Cem** : Tarih
B) **Alev** : Coğrafya
C) Efe : Dini
D) **Ela** : Bilimsel

Adı / Soyadı:.....

Sınıfı:.....

Numarası:.....

Soru	1	2	3	4	5	Toplam
Puan						

1. DÖNEM 3. YAZILI SORULARI (4)**1 Aşağıdaki cümlelerde boş bırakılan yere uygun ifadeleri yazın. (10P)**

- Kırım
- Miryokefalon
- Trabzon
- Orhan Bey
- Osman Bey
- kent
- kır

- a** Ülkemizde göçler en fazla **kırdan** , **kente** yapılır.
- b** Pasinler, Malazgirt ve **Miryokefalon** Savaşları, Anadolu'da Türk tarihinin başlamasını sağlamıştır.
- c** Osmanlı Devleti'nde ilk gümüş para **Orhan Bey** zamanında basılmıştır.
- d** Karadeniz'in, Türk gölü olması Fatih zamanında **Kırım'ın** alınması ile gerçekleşmiştir.

2 Aşağıda verilen ifadeler doğru ise D, yanlış ise Y yazın. (10P)

- Y** Kitle iletişim araçları, ünlü kişilerin özel hayatlarını haber yapma hakkına sahiptir.
- D** Ülkemizde yerleşmeler genellikle coğrafi şartlara bağlıdır.
- D** Çalışan kişilerin sosyal güvenlik hizmetleri Sosyal Güvenlik Kurumu tarafından düzenlenir.
- Y** Ankara Savaşı ile Osmanlı Devleti yükselme dönemine girmiştir.
- D** Osmanlı Devleti 18. yy.da Avrupa'dan etkilenmiştir.

3 Aşağıdaki sözcüklerle, ilgili oldukları cümleleri eşleştirin. (10P)

- e** Nüfusun yoğun olduğu şehirlerdeki sorunlardan biri.
- c** Güneydoğu Anadolu Bölgesi'ndeki göç sebeplerinden biri.
- f** Anadolu Selçuklu Devleti zamanında Bizans'a sınır olan uç beyliği.
- a** 2.Beylikler döneminde Karaman ve çevresinde kurulan beylik.
- b** Osmanlı Devleti'nde matbaada basılan ilk eser.
- a** Karamanoğulları
- b** Van Kulu Lügati
- c** Kuraklık
- d** Koçi Bey Risalesi
- e** Trafik
- f** Osmanoğulları

4 Aşağıda verilen akademik beceri sorusunu yanıtlayın. (20P)

Bugün kendi eşyama arkadaşım olan eski bir Macar zabitanın eşyasını nakletmek üzere bir köylünün yük arabasını kiraladım. Sandıklar, portmantolar, denkler, paltolar, kürkleri, atkılar hep açıktaydı. Buralarda yatağın hayali bile mevcut olmadığı için, ben, gece üstüne uzanmak üzere biraz kuru ot satın almak isteyince son derece nazik bir Türk bana refâkat teklifinde bulundu. Sonra da öküzlerini koşumdan çıkarıp bizim bütün eşyamızla beraber sokağın ortasında bıraktı. Ben onun uzaklaştığını görünce arkasından seslendim:

“– Burada birisi kalmalı!” dedim.

Yanımdaki Türk hayretle sordu:

“– Niçin?”

Ben de:

“– Eşyalarımızı beklemek için.” dedim.

Müslüman Türk şu yanıtı verdi:

“– Ne lüzumu var? Merak etmeyin; eşyalarınız bir hafta gece - gündüz burada kalsa bile dokunan olmaz.”

Ben de bu söz üzerine ısrar etmeyip oradan öylece ayrıldım. Döndüğümde hayretler içerisinde her şeyi yerli yerinde buldum.

Osmanlı Devleti'nde yaşamış olan bir seyyaha ait olan yukarıdaki öykü ile Yavuz Sultan Selim'in Mısır Seferi'nden sonra söylediği:

“Şayet askerlerimin torbasında yabancı bağlardan koparılmış meyve görseydim, Mısır Seferi'nden vazgeçerdim. Haramla zafer elde edilmez!”

sözü arasında nasıl bir benzerlik vardır? Karşılaştırarak yazın.



TEST (10 x 5 = 50P)

5 Aşağıdaki çoktan seçmeli soruları yanıtlayın.

1. **Büşra** : Basın araçları tarafından hükûmet eleştirilir.

Hakan : Fikirler özgürce dile getirilir.

Filiz : Yazdığımız kitap hükûmetçe kontrol edilir.

Yukarıdaki öğrencilerden hangileri basın özgürlüğü olan ülkelerde yaşamaktadırlar?

Ü.1-K.4

- A) Büşra ve Sultan
B) Hakan ve Sultan
C) Büşra ve Hakan
D) Büşra, Hakan ve Sultan

2. A şehri ve B şehri nüfus olarak birbirine yakındır. Ancak B şehirde nüfus yoğunluğu, A şehirden fazladır.

Bu durumun nedeni aşağıdakilerden hangisidir?

Ü.2-K.1

- A) A şehirde bebek ölümleri fazladır.
B) A şehirde sağlık koşulları düzeltilmiştir.
C) A şehri göç vermektedir.
D) A şehrinin yüz ölçümü daha büyüktür.

3. Cem, sosyal bilgiler sınavında göçün nedenleri konulu eşleştirme bölümüne aşağıdaki yanıtları vermiştir.

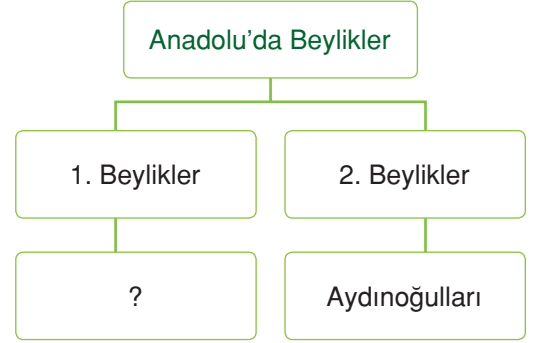
	Doğal	Sosyal	Siyasi
Terör olayları			✓
Heyelan	✓		
Kan davası			✓
Eğitim		✓	

Her soru 5 puan olduğuna göre Cem bu bölümden kaç puan almıştır?

Ü.2-K.4

- A) 5 B) 10 C) 15 D) 20

4.



Yukarıdaki Diyagramda "?" olan yere aşağıdakilerden hangisi yazılamaz?

Ü.3-K.1

- A) Çaka Beyliği
B) Mengücekliler
C) Danışmetliler
D) Candaroğulları

5.

Osmanlı Devleti kendinden önce var olan Anadolu Selçuklu Devleti'nin bazı uygulamalarını örnek almıştır. **Örnek alınan uygulamalar arasında;**

- I. Divan Teşkilatı
II. Tımar Sistemi
III. İskân Politikası

gibi uygulamalardan hangisi ya da hangileri bulunur?

Ü.3-K.2

- A) Yalnız I B) I ve II
C) II ve III D) I, II ve III

6.

Burcu Öğretmen: Çocuklar! Osmanlı Devletinde yer alan Tımarlı Sipahilerin özellikleri nelerdir?

Can : Türk ve Müslüman kökenli askerlerden oluşur.

Kenan : Devletten maaş almazlar.

Tuççe : Savaşlarda padişahı korurlar.

Burcu Öğretmen'in sorusuna hangi öğrenci ya da öğrenciler doğru yanıt vermiştir?

Ü.3-K.3

- A) Yalnız Can
B) Yalnız Kenan
C) Can ve Kenan
D) Can, Kenan ve Tuççe

7.

Merhaba çocuklar: Ben padişahın mührünü taşıyım. Padişah olmadığı zamanlarda Serdar-ı Ekrem sıfatıyla orduya komutanlık yaparım. Büyük devlet memurlarının tayin ve terfi işleri ile ilgilenirim.

Verilen metinde kendini tanıtan Divan-ı Hümayun üyesi aşağıdakilerden hangisidir?

Ü.3-K.3

- A) Kazasker **B) Sadrazam**
C) Defterdar D) Kaptan-ı Derya

8.

... Biraz da kaldığımız misafirhanelerden söz edeyim. Türkler buralara kervansaray diyorlar... Kervansaraylarda kapalı özel odalar olmadığından özel bir yaşantıya imkân yoktur. Bazen kervansaraylara nazaran daha geniş ve büyük olan, yatak odaları ayrılmış bulunan Türk hanlarında kaldım. Bu hanlar zengin veya fakir, Hristiyan yahut Yahudi olsun herkese açıktır...

(Ogier Ghiselin De Busbecg – Türkiye'yi Böyle Gördüm s.27, 28)

Yukarıdaki metinde Osmanlı'ya gelen bir misafirin anlattıkları aktarılmıştır.

Buna göre aşağıdaki yargılardan hangisi söylenemez?

Ü.3-K.7

- A) Kervansaraylardan ücret alınmaktadır.**
B) Kervansaraylarda özel odalar bulunmamaktadır.
C) Hanlar kervansaraylara göre daha geniştir.
D) Hanlarda din, dil, ırk farkı yoktur.

9.

I	Rodos Adası'nın Fethi	Akdeniz'in güvenliği için adım oldu.
II	Preveze Deniz Savaşı	Akdeniz Türk gölü hâline geldi.
III	Kıbrıs'ın Fethi	Osmanlı'nın Doğu Akdeniz'de egemenliği pekişti.
IV	İnebahtı Deniz Savaşı	Osmanlı Devleti Akdeniz'de tek güç hâline geldi.

Yukarıdaki tabloda Akdeniz'in Türk gölü olması için yapılan fetihler ve savaşlar verilmiştir.

Buna göre tablodaki bilgilerden hangisi yanlıştır?

Ü.3-K.3

- A) IV** B) III C) II D) I

10.

Mostar Köprüsü	I. ?
Yıldırım Cami	II. ?
Kapalı Çarşı	III. ?

Yukarıdaki tabloda Osmanlı Devleti'ne ait bazı mimari eserler ve bulunduğu yerler eşleştirilmiştir.

Buna göre "?" olan yerlere sırasıyla aşağıdaki seçeneklerden hangisi yazılmalıdır?

Ü.3-K.5

- A) İstanbul, Bosna Hersek, Bursa
B) Bosna Hersek, İstanbul, Bursa
C) Bosna Hersek, Bursa, İstanbul
D) Bursa, Bosna Hersek, İstanbul

Adı / Soyadı:

Sınıfı:

Numarası:

Soru	1	2	3	4	5	Toplam
Puan						

1. DÖNEM 3. YAZILI SORULARI (5)

1 Aşağıdaki cümlelerde boş bırakılan yerlere uygun ifadeleri yazın. (10P)

- sadrazam
- kapitülasyonlar
- sosyal
- siyasi
- sanayinin
- Seyahatname
- Kutadgu Bilig

- a** Göçlerin **siyasi** nedenleri arasında savaşlar, işgaller ve terör gösterilebilir.
- b** Kocaeli, Bursa ve Denizli'nin yoğun nüfuslanmasının sebebi, **sanayinin** gelişmesidir.
- c** Osmanlı Devleti'nde padişahтан sonra en yetkili kişi **sadrızam (Vezir-i Azam)**
- d** **Kapitülasyonlar**, Kanuni Sultan Süleyman Dönemi'nde ilk kez Fransa'ya verilmiştir.
- e** Osmanlı Devleti'nin en önemli seyyahlarından olan Evliya Çelebi'nin en önemli eserlerinden biri "..... **Seyahatname** "dir.

2 Aşağıda verilen ifadeler doğru ise D, yanlış ise Y yazın. (5P)

- D** İnternet; yazılı, görsel ve işitsel kitle iletişim aracıdır.
- Y** Kişi hak ve özgürlüklerimiz, 1961 Anayasası'nda güvence altına alınmıştır.
- Y** Osmanlı Devleti, Ertuğrul Gazi döneminde bağımsız olmuştur.
- D** Orhan Bey döneminde alınan Çimpe Kalesi ile ilk defa Rumeli'ye geçilmiştir.
- Y** Haçlılar ile Osmanlı arasında yapılan ilk savaş Koyunhisar Savaşı'dır.

3 Aşağıdaki sözcüklerle, ilgili oldukları cümleleri eşleştirin. (5P)

- c** Güneydoğu Anadolu'da kadınların meslek edinmesi için faaliyet gösteren kurum.
- d** Devlet memurlarının bağlı olduğu SGK'nin birimi.
- e** Kişilerin kendi isteği dışında yaptıkları göç.
- a** Türk-İslam mimarisinde; merkezinde cami olan; etrafında medrese, imarethane vb. bulunan toplu yapı.
- b** Osmanlı Devleti'nde esnafların bağlı olduğu kurum.
- a** Külliye
- b** Lonca
- c** ÇATOM
- d** Emekli Sandığı
- e** Zorunlu
- f** Divan

4 Aşağıda verilen akademik beceri sorusunu yanıtlayın. (20P)

✓ 17. yy.da yapılan ıslahatlar kişilere bağlı kalmış, sorunların kökenine inilmediğinden yüzeysel kalmıştır.

✓ ıslahatlar halk tabanına yayılmamıştır.

✓ Baskı ve şiddet yoluyla asayişini sağlamak istenmiş.

✓ Avrupa'daki gelişmelerden faydalanılmamış.

17. yy.da yaşanan belirtilen durumların sonuçları neler olmuştur? Birkaç cümle ile yazın.

Anadolu'da halkın devlete olan güveninin azalması Celali İsyanlarına sebep olmuştur. Celali isyanlarının dini bir yönü olmadığı gibi baştaki kişiyi değiştirmeye yönelik isyanlar da değildir.

5 Aşağıda verilen açık uçlu soruyu yanıtlayın. (10P)

Lale Devri'nde yapılan yenilikleri açıklayarak bu dönemin özelliklerini kısaca değerlendirin.

1718-1730 dönemleri arasında yaşanan döneme Lale Devri denilmiştir. İlk kez Avrupa'yı örnek alan Osmanlı Devleti tekrar eski gücüne kavuşmak için ıslahatlar yapmıştır. Patrona Halil İsyanı'na kadar devam eden bu dönemde zevk ve sefa daha çok ön plana çıkmıştır.

Bu dönemde Avrupa; kültürel, sosyal ve mimari alanda örnek alınmıştır. Yapılan yenilikler:

• Avrupa'yı takip edebilmek için ilk kez geçici elçilikler açılmış.

• İbrahim Müteferrika ve Sait Efendi tarafından ilk özel matbaa kurulmuş.

• Doğu klasikleri Türkçeye çevrilmiştir.

• İlk kez çiçek aşısı yapılmış.

• İstanbul'da çini ve kumaş fabrikaları açılmış.

• Yalova'da kâğıt fabrikası açılmış.

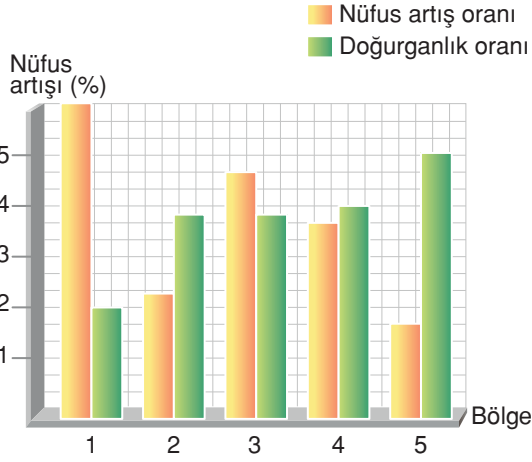
• İlk kez itfaiye örgütü kurulmuştur. (Tulumbacılar)

Bu dönemi; şiirlerinde Nedim, minyatür resimlerinde ise Levni sanatlarına konu edinmişlerdir.

TEST (10 x 5 = 50P)

5 Aşağıdaki çoktan seçmeli soruları yanıtlayın.

1.



Yukarıda verilen grafiğe göre,

- I. 1. bölgede doğum oranı fazladır
- II. 1. bölge göç alır.
- III. 5. bölge nüfus yoğunluğu en az olan bölgedir.
- IV. 5. bölge göç verir.

Bilgilerden hangisi ya da hangileri doğrudur?

Ü.2-K.2

- A) Yalnız II B) I ve III
 C) II ve IV D) III ve IV

2.

Çifte Minareli Medrese
Gevher Nesibe Şifahanesi
Sultan Hanı
?

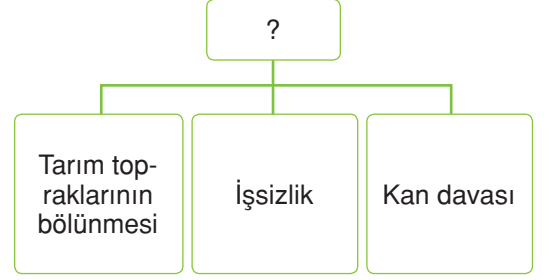
Yukarıdaki tabloda Anadolu Selçuklu Devleti'ne ait bazı mimari eserler verilmiştir.

Buna göre "?" olan yere aşağıdakilerden hangisi getirilebilir?

Ü.3-K.1

- A) Yağlıbasan Medresesi
 B) Mama Hatun Külliyesi
 C) Gök Medrese
 D) Divriği Ulu Camii

3.



Verilen tabloya en uygun başlık aşağıdakilerden hangisidir?

Ü.2-K.4

- A) Ülkemizde Göç
 B) Beyin Göçünün Nedenleri
 C) Göçün Sonuçları
 D) Göçün Nedenleri

4.

- I. "Şefkat yuvası" anlamına gelir.
- II. Maddi durumu yeterli olmayan öğrencilere eğitim verir.
- III. Üniversiteyi kazanan öğrencilerine de burs imkânı sunar.

Yukarıda verilen bilgilerden hangisi ya da hangileri Darüşşafakanın özellikleri arasında yer alır?

Ü.3-K.1

- A) Yalnız I B) Yalnız II
 C) I ve II D) I, II ve III

5.



Yukarıdaki dilsiz haritada ilk Türk Beylikleri döneminde kurulan bazı beyliklerin yerleri gösterilmiştir.

Bu beylikler hangi seçenekte bir arada verilmiştir?

Ü.3-K.1

- I. II. III.
- A) Mengücekliler, Çaka Beyliği, Danışmentliler,
 B) Saltuklular, Artuklular, Çaka Beyliği
 C) Saltuklular, Mengücekliler, Çaka Beyliği
 D) Çaka Beyliği, Danışmentliler, Saltuklular,

6. "Ve her kimesneye evladımda saltanat müyesser ola, karındaşların nizam-ı âlem için katli etmek münasiptir."

Fatih Kanunnamesi'ne ait olan yukarıdaki sözde "Kardeş katlinin vacip olduğu" vurgulanmıştır.

Kanunnameye kardeş katlinin vacip olma sebebi nedir? Ü.2-K.1

- A) Hanedanın, büyük kardeşin olması
B) Hanedanın, ortak mal olması
C) Hanedanın, geleceği ve bekası için
 D) Küçük kardeşlerin taht kavgalarına karışmasını önlemek

7. Fatih Sultan Mehmet'in vefatı ile oğulları II. Bayezit ve kardeşi Cem Sultan arasında taht kavgaları başlamıştır. Taht mücadelesini kazanan, II. Bayezit, padişah olmuştur.

Cem Sultan Olayı'nın dış sorun hâline gelme sebebi aşağıdakilerden hangisidir? Ü.3-K.3

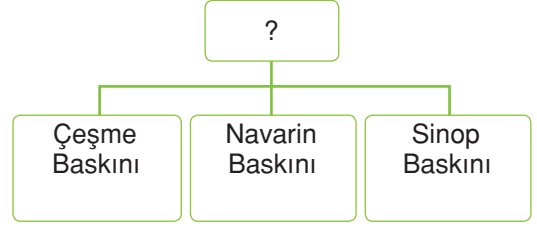
- A) Ulemanın II. Bayezit'i desteklemesi
 B) Yeniçerilerin Cem Sultan'ı desteklemesi
C) Rodos Şövalyeleri'nin Cem Sultan'ı kışkırtması
D) Fatih'in, Cem Sultan'ı padişah ilan etmesi

8. I. Nedim
II. Levni
III. Baki

Yukarıda verilen kişilerden hangileri Lale Devri'nde yaşamıştır? Ü.3-K.6

- A) Yalnız I B) I ve II
C) II ve III D) I, II ve III

9.



Yukarıdaki diyagrama yazılabilecek en uygun başlık aşağıdakilerden hangisidir? Ü.3-K.3

- A) Ruslarla Yapılan Savaşlar
B) Karadeniz'de Yapılan Savaşlar
 C) Osmanlı Donanmasının Yıkıldığı Savaşlar
D) İngilizlerle Yapılan Savaşlar

10.

I	Osman Bey	Bakır para basıldı.
II	Orhan Bey	Gümüş para basıldı.
III	1. Murat	İstanbul'u ilk defa kuşattı.
IV	Yıldırım Bayezit	Edirne'yi başkent yaptı.

Yukarıdaki tabloda Osmanlı Devleti'nin kuruluş zamanında başa geçen bazı padişahlar ve yaptıkları faaliyetler eşleştirilmiştir.

Tablonun doğru olması için hangi numaraların yer değiştirmesi gerekir? Ü.3-K.2

- A) III ve IV B) II ve III
C) II ve IV D) I ve II

Adı / Soyadı:

Sınıfı:

Numarası:

Soru	1	2	3	4	5	Toplam
Puan						

2. DÖNEM 1. YAZILI SORULARI (1)

1 Aşağıdaki cümlelerde boş bırakılan yerlere uygun ifadeleri yazın. (10P)

- Rumeli
- ekonomik
- Gazneli Mahmut
- Anadolu
- siyasi
- Sümerler
- Mısırlılar

- a** Doğu'nun zenginliklerine sahip olmak, Haçlı Seferlerinin **ekonomik** sebepleri arasındadır.
- b** Sultan unvanını kullanan ilk Türk hükümdar **Gazneli Mahmut**
- c** İstanbul'un fethine hazırlık yapmak için II. Mehmet, **Anadolu** Hisarı'nın karşısına **Rumeli** Hisarı'nı yaptırdı.
- d** Mezopotamya'da yaşayan **Sümerler** tarihi çağları, yazının icadı ile başlatmışlardır.

2 Aşağıda verilen ifadeler doğru ise D, yanlış ise Y yazın. (10P)

- Y** Edirne, İstanbul'un fethine kadar Osmanlı Devleti'ne başkentlik yapan tek şehirdir.
- D** Tarihte önemli buluşlar ihtiyaçtan doğmuştur.
- D** Miri topraklar, devlete ait topraklardır.
- Y** Baharat Yolu, Lidyalılar tarafından yapılmıştır.
- D** Akdeniz ticaretini tekrar canlandırmak için Süveyş Kanal Projesi gündeme gelmiştir.

3 Aşağıdaki sözcüklerle, ilgili oldukları cümleleri eşleştirin. (10P)

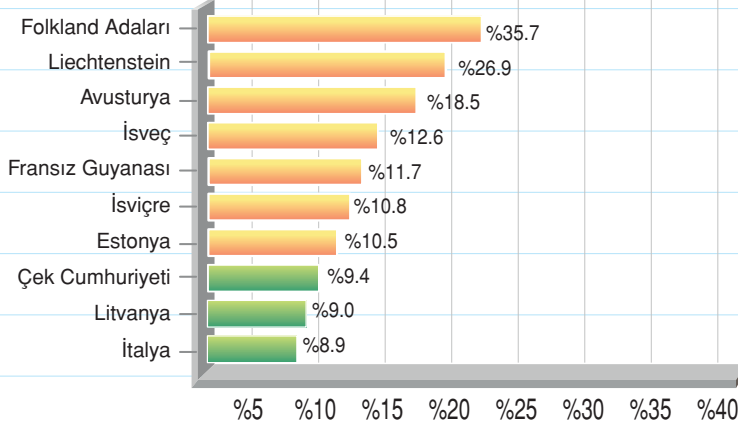
- b** Orhan Bey zamanında devlet işlerini görüşmek için kurulan kurum.
- f** Ege Denizi'nin Türk gölü olmasını sağlayan fetih.
- a** Kıbrıs'ın intikamını almak için Haçlıların saldırısı ile gerçekleşen savaş.
- c** Yeniçeriler tarafından 17.yy.da öldürülen padişah.
- e** Sekban-ı Cedid Ocağını kuran padişah.

- a** İnebahtı Deniz Savaşı
- b** Divan
- c** 2. Osman
- d** Çeşme Baskını
- e** 2. Mahmut
- f** Rodos

4 Aşağıda verilen akademik beceri sorusunu yanıtlayın. (20P)

TÜRKİYE'DE ORGANİK TARIM

TOPLAM TARIM ALANI İÇİNDE ORGANİK ALANI EN BÜYÜK 10 ÜLKE 2009



Geçiş dönemi dahil

Amerika Birleşik Devletleri'ndeki özel bir kuruluş olan IFOAM'un 2011 yılında yapmış olduğu araştırmaya göre Falkland Adaları, Dünya'da organik tarıma en fazla destek veren devlet olarak sıralamada birinci olurken, Liechtenstein ikinci, Avusturya ise üçüncü oldu. Ekonomisinin yaklaşık % 72'si tarıma dayalı bir tarım ülkesi olan Türkiye ise bu araştırmada ilk 20'ye bile girmedi.

Tarım ve Hayvancılık bakanı Türkiye'de;

- Organik tarım ürünlerini ihraç ederek,
 - Çiftçiyi tarım konusunda bilinçlendirip gereksiz ve kimyasal hormonların atılıp atılmadığının kimseyi kayırmadan kontrolünü yaparak,
 - Üniversitelerde eğitim verilen ziraat mühendislerinin eğitimlerini, ülke içinde bittikten sonra yurt dışına eğitim almaları için göndererek mi daha köklü ve kalıcı bir çözüm kullanmış olur?
- Çiftçiyi tarım konusunda bilinçlendirip gereksiz ve kimyasal hormonların atılıp atılmadığının kimseyi kayırmadan kontrolünü yaparak daha bilinçli bir çiftçi yetiştirmiş olur.

TEST (10 x 5 = 50P)

5 Aşağıdaki çoktan seçmeli soruları yanıtlayın.

1. 3 kıtada yüzyıllarca hüküm süren Osmanlı Devleti en parlak dönemini "Kanuni Sultan Süleyman" döneminde yaşamıştır.

Aşağıda verilen bilgilerden hangisi Kanuni Sultan Süleyman dönemine ait değildir? Ü.3-K.3

- A) Macaristan ve Bağdat, Osmanlı hakimiyetine girdi.
 B) I. Viyana Kuşatması'nı yaptı ancak başarılı olamadı.
 C) Akdeniz ve Ege Denizi'ni Türk gölü hâline getirdi.
 D) Mısır Seferi ile kutsal emanetleri kontrol altına aldı.

2. I. Doğu klasiklerinin Türkçeye çevrilmesi
 II. İlk kez çiçek aşısının yapılması
 III. İlk kez geçici elçiliklerin açılması

Lale Devri'nde yapılan yenilikler aşağıdaki alanlarla eşleştirildiğinde hangi seçenek boşa kalır? Ü.3-K.6

- A) Siyasi
 B) Askerî
 C) Kültürel
 D) Sağlık

3.

I	Yeniçeri Ocağını kaldırdı.	Askerî
II	Harbiye okulları açıldı.	Yönetim
III	Memura maaş bağladı.	Yönetim
IV	İlk nüfus sayımı yapıldı.	Eğitim

Yukarıda II. Mahmut'un yaptığı yenilikler ve alanlar eşleştirilmiştir.

Buna göre kaç numaralı eşleştirme yanlış yapılmıştır? Ü.3-K.8

- A) I ve II
 B) II ve III
 C) II ve IV
 D) III ve IV

4.

I	Önemli ticaret yollarının Müslümanların elinde olması
II	Pusulanın kullanılmaya başlaması
III	Akdeniz limanlarının önemini kaybetmesi
IV	Burjuva sınıfının ortaya çıkması
V	Cesur gemicilerin yetişmesi

Yukarıdaki tabloda Coğrafi Keşiflerin neden ve sonuçları karışık olarak verilmiştir.

Hangi seçenekte neden ve sonuçlar doğru gruplanmıştır? Ü.4-K.4

Neden**Sonuç**

- A) I, III, V
 B) I, II, III
 C) I, II, V
 D) II, III, IV

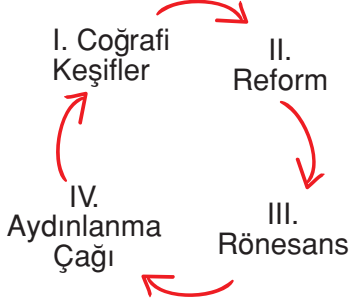
5.



Verilen tabloya en uygun başlık aşağıdakilerden hangisidir? Ü.5-K.2

- A) Türkiye ve Boğazlar
 B) Osmanlı Egemenliğindeki Boğazlar
 C) Sulama Kanalları
 D) Dünyadaki Bazı Önemli Boğazlar

6.



Yukarıdaki diyagramda, Avrupa'da meydana gelen olaylar arasında neden - sonuç ilişkisi kurulmuştur.

Diyagramın doğru olması için kaç numaralı bilgilerin yer değiştirmesi gerekir?

Ü.4-K.4

- A) I ve II
B) II ve III
C) I ve III
D) III ve IV

7. I. Kopernik
II. Galileo
III. Newton

Yukarıda verilen kişiler aşağıdaki keşiflerle eşleştirildiğinde hangi seçenek boşa kalır?

Ü.4-K.5

- A) Dünya'nın yuvarlak olduğunu kanıtlamıştır.
B) Dünya'nın Güneş etrafında döndüğünü ispatlamıştır.
C) Fransız İhtilali'nin ortaya çıkmasını sağlamıştır.
D) Yer Çekimi Kanunu'nu keşfetmiştir.

8. I. Bilim ve kültürde ilerleme sağlandı.
II. İşçi sınıfı ortaya çıktı.
III. Köyden kente göç hızlandı.

Yukarıda verilen bilgilerden hangisi ya da hangileri Sanayi İnkılabı sonrasında gerçekleşmiştir?

Ü.5-K.3

- A) Yalnız I
B) I ve II
C) II ve III
D) I, II ve III

9.

I	Hipokrat	?
II	Heredot	?
III	Homeros	?

Yukarıda bazı bilim insanları ve uğraştıkları bilim dalları eşleştirilmiştir.

Buna göre “?” olan yerlere sırasıyla gelmesi gereken sözcükler hangi seçenekte verilmiştir?

Ü.4-K.5

- A) Tıp, Tarih, Edebiyat
B) Tıp, Tarih, Astronomi
C) Tıp, Felsefe, Astronomi
D) Tıp, Edebiyat, Edebiyat

10. Aşağıdaki öğrenciler Rönesans'ın sonuçlarını tartışmaktadır.

Sarp: Skolastik düşünce yıkılmıştır.

Güney: Hümanizm akımı, önem kazanmaya başlamıştır.

Ebru: İncil ve Latince eserler tercüme edilmiştir.

Taner: Avrupa'da bilim ve sanat gelişti.

Buna göre hangi öğrencilerin söyledikleri doğrudur?

Ü.4-K.4

- A) Sarp ve Güney
B) Güney, Ebru ve Taner
C) Sarp, Güney ve Taner
D) Sarp, Güney ve Ebru

Adı / Soyadı:

Sınıfı:

Numarası:

Soru	1	2	3	4	5	Toplam
Puan						

2. DÖNEM 1. YAZILI SORULARI (2)

1 Aşağıdaki cümlelerde boş bırakılan yerlere uygun ifadeleri yazın. (10P)

- Amerika
- kale
- Kanuni
- Nizam-ı Cedid
- Ümit Burnu
- donanma
- Tanzimat
- Abdülhamit
- halifelik

- a** Karesioğulları'nın Osmanlı Devleti'ne bağlanması ile Osmanlı ilk kez **donanmaya** sahip olmuştur.
- b** Yavuz Sultan Selim'in Mısır Seferi sonunda **halifelik** Osmanlı hanedanına geçti.
- c** III. Selim'in yaptığı ıslahatların tümüne "**Nizam-ı Cedid**" denir.
- d** Osmanlı Devleti'nde, **Abdülhamit** döneminde Meşrutiyet'in ilanı ile halk ilk defa yönetime katılmıştır.
- e** Bartelmi Diaz **Ümit Burnu'nun** keşfini gerçekleştirmiştir.

2 Aşağıda verilen ifadeler doğru ise D, yanlış ise Y yazın. (10P)

- Y** İtfaiye örgütü, ilk defa III. Selim zamanında kurulmuştur.
- D** Padişahın yetkileri ilk defa Sened-i İttifak ile kısıtlanmıştır.
- D** Resimli yazı denilen Hiyeroglif, Mısırlılar tarafından kullanılmıştır.
- Y** Rönesans hareketleri İngiltere'de başlamıştır.
- D** Dirlik sisteminde, toprağın mülkiyeti devlete aittir.

3 Aşağıdaki sözcüklerle, ilgili oldukları cümleleri eşleştirin. (10P)

- c** Limni, Midilli gibi Ege adalarının fethini gerçekleştiren padişah. **a** Rafael
- d** Çinlilere ait buluşlardan biri. **b** Tekerlek
- f** Fatih döneminde İstanbul'a elçi olarak gelen bilim insanı. **c** Fatih Sultan Mehmet
- a** Rönesans dönemindeki sanatçılardan biri. **d** Barut
- e** Porselen, ipek, kâğıt gibi ürünlerin Avrupa'ya gitmesini sağlayan yol. **e** İpek Yolu
- e** **f** Ali Kuşçu

4 Aşağıda verilen akademik beceri sorusunu yanıtlayın. (20P)



Tekerlek: Tekerlek denince ilk olarak ulaşım araçlarında kullanılan tekerlek akla gelmektedir. Oysa günümüzde tekerlek ve tekerlekten esinlenen sistemler neredeyse hayatın her alanında kullanılmaktadır. İnsanlığın bugün yakalamış olduğu bu uygarlık düzeyine onu taşıyan en önemli icatlardan biri tekerlek dersek de abartı olmaz.

Barut: Patlayıcı bir madde olan barut güherçile, kükürt ve kömür tozundan meydana gelmiştir. Silahlarda mermiyi atmada kullanılmaktadır. Kara barut adı ile de anılmaktadır. Barutun tarihi çok eskilere dayanmaktadır. MÖ 1000 yıllarında Çinliler savaşlarında ateşi kullanıyorlardı. Batılıların ateşli silahları Doğululardan öğrendiği tahmin ediliyor. Daha etkili yanıcılar araştırılmaya başlandı. İlk olarak güherçile kullanıldı. Beyaz, ince billurlar hâlinindedir. Kimyasal adı "Potasyum Azotat"tır.

Çinliler barut yapmayı biliyorlardı fakat barutu maytap ve kestane fişeği şeklinde kullanmışlardır. Büyük İskender, Hindistan'a gittiğinde barutun orada da bilindiği ortadaydı. Marco Polo, Çin gezisinde Çinli rahiplerin geceleri barutla şenlik yaptıklarını görmüştür.

Verilen iki icadı karşılaştırın, insanlık için önemini belirtin.

İcadın adı:

İnsanlık tarihine ne yararı olurdu?

TEST (10 x 5 = 50P)

5 Aşağıdaki çoktan seçmeli soruları yanıtlayın.

1.

I. Haçlı Seferi	İznik'te Latin, Trabzon'da Rum krallıkları kuruldu.
II. Haçlı Seferi	Urfa, Haçlılardan geri alındı.
III. Haçlı Seferi	Selahaddin Eyyubi tarafından Kudüs'ü Haçlıların elinden almak için düzenlendi.
IV. Haçlı Seferi	İznik, Haçlıların eline geçti.

Yukarıdaki tabloda Haçlı Seferleri ile ilgili bazı bilgiler verilmiştir.

Tablonun doğru olması için hangi Haçlı Seferleri yer değiştirmelidir? Ü.3-K.1

- A) I ve II B) II ve III
C) III ve IV **D) I ve IV**

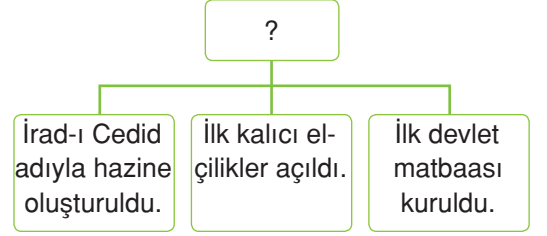
2.

İstanbul'un fethinden sonra, Fatih Sultan Mehmet İstanbul'da yaşayan Ortodoksları himayesine alarak din ve vicdan özgürlüğü sağladı.

Fatih Sultan Mehmet'in, İstanbul'un fethinden sonra Ortodokslara din ve vicdan özgürlüğünün sağlamanın sebebi aşağıdakilerden hangisidir? Ü.3-K.3

- A) Fatih Sultan Mehmet'in, Ortodoks kökenli olması
B) Ortodoksları himayesi altına alarak, Osmanlı'da iç karışıklığı engellemek istemesi
C) İstanbul'da yaşayan Ortodoksların mal varlığına el koymak istemesi.
D) Ortodoks bilim insanlarının, beyin göçünü engellemek istemesi

3.



Yukarıdaki diyagrama verilebilecek başlık hangisidir? Ü.3-K.8

- A) 3. Selim İslahatları**
B) 2. Mahmut İslahatları
C) 4. Murat İslahatları
D) Yükselme Dönemi

4.

- I. Barut
II. Kâğıt ve matbaa
III. Pusula

Yukarıda verilen buluşlarla sonuçlarında ortaya çıkan olaylar eşleştirildiğinde hangi seçenek boşta kalır? Ü.4-K.1

- A) Rönesans ve Reform hareketlerinin başlaması
B) Coğrafi Keşiflerin başlaması
C) Buharın makinelerde kullanılması
D) Derebeyliklerin yıkılması

5.

- ✓ 17 yaşında Güneş'i gözlemlemek için bir alet yaptı.
✓ Dünya'nın çevresini hesapladı.
✓ Gazneli Mahmut'un himayesinde çalışmalar yaptı.
✓ Astronominin yanında coğrafya, tıp, eczacılık gibi alanlarda çalışmalar yaptı.

Özellikleri verilen Türk-İslam bilim insanı aşağıdakilerden hangisidir? Ü.4-K.3

- A) Farabi B) Ali Kuşçu
C) Piri Reis **D) Biruni**

6.

Almanya →	Protestanlık
İngiltere →	Anglikanizm
Fransa →	Kalvenizm

Yukarıdaki tabloda verilen gelişmeler hangi olayın sonucunda ortaya çıkmıştır? Ü.4-K.4

- A) Coğrafi Keşifler B) Reform
C) Rönesans D) Sanayi İnkılabı

7. Bilimin gelişmesi için.....I..... ortamının olması gerekir. Orta Çağ'da İslam dünyasında birçok bilim insanının yetişmesi bu sebebe bağlanabilir. Orta Çağ'da, Avrupa'da iseII..... hakim olduğu için bilim gelişmemiştir.

Yukarıdaki metinde numaralandırılmış yerlere hangi kavramlar yazılmalıdır? Ü.4-K.4

- | | |
|---|-------------------|
| I | II |
| A) Aydınlanma Çağı | skolastik düşünce |
| B) skolastik düşünce | Aydınlanma Çağı |
| C) skolastik düşünce | özgür düşünce |
| <input checked="" type="radio"/> D) özgür düşünce | skolastik düşünce |

8. I. Osmanlı zamanında temelleri atılan projedir.
II. Tamamlanması İngiltere tarafından gerçekleştirilmiştir.
III. Akdeniz ticaretini canlandırmak için yapılmıştır.

Yukarıda verilen bilgilerden hangisi ya da hangileri Süveyş Kanalı Projesi'ne aittir? Ü.2-K.4

- A) Yalnız I B) I ve II
C) II ve III D) I, II ve III

9. Aşağıdaki öğrenciler Avrupa'da meydana gelen gelişmelerin sonuçlarını tartışmaktadır.

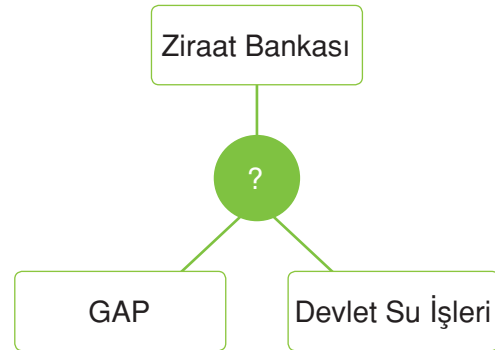
Ateş: Leonardo da Vinci insanın anatomik yapısıyla ilgili çalışmalar yaptı.

Naz : Eğitim kilisenin elinden alındı.

Bu gelişmeler hangi seçenekte doğru verilmiştir? Ü.4-K.4

- | | |
|--|-----------------|
| <u>Naz</u> | <u>Ateş</u> |
| A) Rönesans | Reform |
| <input checked="" type="radio"/> B) Reform | Rönesans |
| C) Aydınlanma Çağı | Reform |
| D) Rönesans | Sanayi İnkılabı |

10.



Yukarıdaki diyagrama verilebilecek en uygun başlık hangisidir? Ü.5-K.1

- A) Güneydoğu Anadolu'da Tarım
B) Su ve Çevre
C) Çiftçiye Kredi Veren Kurumlar
 D) Tarımı Destekleyen Kurumlar

Adı / Soyadı:

Sınıfı:

Numarası:

Soru	1	2	3	4	5	Toplam
Puan						

2. DÖNEM 1. YAZILI SORULARI (3)**1 Aşağıdaki cümlelerde boş bırakılan yerlere uygun ifadeleri yazın. (10P)**

- Ay
- İtalya
- Osmanlı
- Lale
- siyasi
- Anadolu Selçuklu
- Güneş
- Amerika
- ekonomik
- Tanzimat

- a** **Anadolu Selçuklu** Devleti, 1075 yılında İznik merkezli olarak kurulmuştur.
- b** Derebeylerin şöhret peşinde olmaları, Haçlı Seferlerinin **siyasi** sebepleri arasındadır.
- c** İstanbul'un fethi ile Bizans'taki bilim insanları **İtalya'ya** gitmiştir.
- d** 1718- 1730 yılları arasında yaşanan **Lale** Devri'nde, Avrupa örnek alınmıştır.
- e** **Güneş** Takvimi Mısırlılar tarafından bulunmuştur.

2 Aşağıda verilen ifadeler doğru ise D, yanlış ise Y yazın. (10P)

- Y** Osmanoğulları 1. Beylikler döneminde kurulmuştur.
- Y** Lale Devri'nde ilk devlet matbaası kurulmuştur.
- D** Tanzimat ve Islahat Fermanları Osmanlı Devleti'nin dağılmasını önlemek için ilan edilmiştir.
- Y** Amerika kıtasını Macellan keşfetmiştir.
- D** Aydınlanma Çağı ile Avrupa bilim ve teknikte gelişme göstermiştir.

3 Aşağıdaki sözcüklerle, ilgili oldukları cümleleri eşleştirin. (10P)

- c** Donanmada askere verilen ad. **a** Martin Luther
- e** Tütünü yasaklayan padişah. **b** Göktürkler
- f** Osmanlı Devleti'nde ilk kalıcı elçi. **c** Levent
- d** Osmanlı İmparatorluğu'nda basımevi kurup, Türkçe kitap yayımlayan kişi. **d** İbrahim Müteferrika
- a** Reform hareketinin başlamasında etkili olan kişi. **e** 4. Murat
- f** Yusuf Agâh Efendi

4 Aşağıda verilen akademik beceri sorusunu yanıtlayın. (20P)



Themis heykelinde “Kılıç” adaletin verdiği cezaların caydırıcılığını ve gücünü, “Terazi” adaleti ve bunun dengeli bir şekilde dağıtılmasını simgelemekte. “Kadın” olması bağımsızlığı ifade etmekte. Ayrıca kadının gözü bağlı. Bu da tarafsızlığını simgelemektedir. Hukukun evrensel ilkelerini simgesel olarak taşıdığı için Themis heykeli adaleti en iyi şekilde ifade etmektedir.

Themis heykelinde belirtildiği gibi hukukun evrensel bir ilke olduğunu anlatmak isteyen sosyal bilgiler öğretmeni, öğrencilerine:

✓ Danıştay ya da Yargıtayın kararlarının iptal edilmesi ya da kararların durdurulması için Anayasa Mahkemesine başvurulması.

✓ Vergi borçlarının haksız yere olduğunu düşünen vatandaşın Sayıştaya başvurusu

✓ Ülke içinde tüm teyiz yolları kapanmış olan vatandaşın, kararın ya da hükmün iptali için

AİHM (Avrupa İnsan Hakları Mahkemesi)’e başvurusu

örneklerinden hangisini söylerse Themis heykelinin yapılış amacına uygun bir örnek vermiş olur? Yazın.

Ülke içinde tüm teyiz yolları kapanmış olan vatandaşın, kararın ya da hükmün iptali için AİHM (Avrupa İnsan Hakları Mahkemesi)’e başvurusu gerektiğini söylemeli. Çünkü hukukun evrensel olması demek, tüm dünyaca nesnel bir şekilde kabul edilmesi demektir.

TEST (10 x 5 = 50P)





5 Aşağıdaki çoktan seçmeli soruları yanıtlayın.

1.

Kervanlardan düşük gümrük vergisi alınıyordu.	Antalya ve Alan-ya fethedildi.
Hırsızlara karşı tüccarların malları sigortalandı.	Kervanların güvenliği için belli aralıklarla karakollar kuruldu.

Yukarıdaki tabloda Anadolu Selçuklu Devleti'nin kara ve deniz ticaretini geliştirmek için yaptığı faaliyetler verilmiştir.

Deniz ticareti için yapılan faaliyeti tablodan çıkardığımızda oluşan şekli aşağıdakilerden hangisidir? Ü.3-K.1

- A) 
- B) 
- C) 
- D) 

2. I. Karadeniz ve Akdeniz ticareti Osmanlı Devleti'nin eline geçti.
II. Topların, surları yıkması ile Derebeylik rejimi zayıflamaya başladı.
III. Toprak bütünlüğü sağlandı.
IV. Orta Çağ kapandı Yeni Çağ açıldı.
V. Başkent İstanbul'a taşındı.
VI. Doğu Roma İmparatorluğu yıkıldı
- Yukarıdaki bilgilerde İstanbul'un fethinin Türk ve dünya tarihi açısından sonuçları verilmiştir.

Dünya tarihi açısından sonuçları hangi seçenekte birlikte verilmiştir? Ü.3-K.3

- A) I, II ve III
B) I, V ve VI
C) I, III ve VI
D) II, IV ve VI

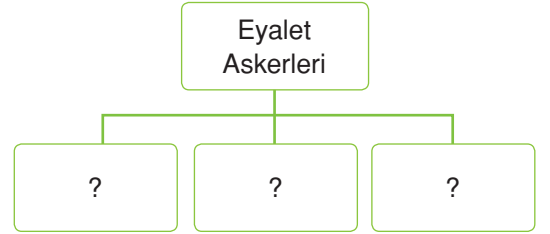
3.

- ✓ Nişancı
✓ Reisülküttap
✓ Kazasker

Yukarıdaki divan üyeleri verilen bilgilerle eşleştirildiği zaman hangi seçenek boşa kalır? Ü.3-K.3

- A) Günümüzdeki dışişleri bakanına denktir.
B) Müderris ve kadıların atamalarını yapar.
C) Mali işlerden sorumludur.
D) Padişahın fermanlarına tuğra basar.

4.



Diyaqramda “?” olan yerlere aşağıdaki-lerden hangisi getirilemez? Ü.3-K.3

- A) Cebeciler
B) Akıncılar
C) Azaplar
D) Tımarlı Sipahiler

5.

- I. İlk kâğıt para
II. İlk demir yolu
III. İlk kalıcı elçi
IV. Darüşşafaka

Yukarıda verilen yeniliklerden hangileri Tanzimat döneminde yapılmıştır? Ü.3-K.3

- A) I ve II
B) I, II ve III
C) I, II ve IV
D) II, III ve IV

6. Fenikelilerin kullandıkları alfabe, ticaret sayesinde başka milletler tarafından da kullanılmaya başlanmıştır. Günümüzde ise Fenike alfabesi, Latin alfabesinin temellerini oluşturmuştur. Yazıların birçok kişiye aktarılma ihtiyacı da matbaanın icadını sağlamıştır. İlk defa Çinliler, "hareketsiz matbaayı" icat etmişlerdir. Zamanla farklı milletler tarafından kullanılan matbaa gelişmiştir. Alman bilim insanı John Gutenberg tarafından da hareketli matbaa icat edilmiştir.

Bu metinden aşağıdaki yargılardan hangisine ulaşamaz? Ü.4-K.2

- A) Bilgi, birikimli olarak ilerler.
 B) Hareketli matbaa sadece Almanlar tarafından kullanılmıştır.
 C) Devletler birbirini etkilemiştir.
 D) İcatlar ihtiyaçtan doğmuştur.

7. **Murat:** Rubaileri ile ünlüdür. Celali takvimini hazırlamıştır.

Gamze: Muallim-i Sani (ikinci öğretmen) olarak tanınır. Felsefe ve mantıkla uğraşmıştır.

Öğrencilerin sözünü ettikleri Türk-İslam bilim insanları aşağıdakilerden hangisidir? Ü.4-K.3

Murat

Gamze

- A) İbn-i Sina Ali Kuşçu
 B) Farabi Ömer Hayyam
 C) Ömer Hayyam Farabi
 D) Ali Kuşçu İbn-i Sina

8. ✓ İpek ve Baharat Yolları önemini kaybetti.
 ✓ Burjuva sınıfı ortaya çıktı.
 ✓ Değerli madenler Avrupa'ya taşındı.

Verilen bilgiler aşağıdaki gelişmelerden hangisinin sonuçları arasındadır?

Ü.4-K.4

- A) Coğrafi Keşifler B) Rönesans
 C) Reform D) Sanayi İnkılabı

9. **Yusuf Öğretmen:** Sanayi İnkılabı beraberinde pek çok gelişmeyi getirmiştir. Bu gelişmeler neler olabilir?

Yusuf Öğretmen'in sorusuna hangi öğrenci yanlış yanıt vermiştir? Ü.5-K.3

- A) **Helin** : Ülkeler arasında pazar rekabeti ortaya çıkmıştır.
 B) **Batu** : Sömürgecilik faaliyeti ortaya çıkmıştır.
 C) **Ece** : Seri üretim başlamıştır.
 D) **Ali** : Skolastik düşünce zayıflamıştır.

10. I. Üretimde artış sağlandı.
 II. Toprağı, 3 yıl üst üste ekmeden toprak geri alındı.
 III. Uzak toprakların güvenliği sağlandı.
 Yukarıda Tımar Sistemi ile ilgili bilgiler verilmiştir.

Bu bilgilerden hangisi ya da hangileri üretimde sürekliliği sağlamıştır? Ü.5-K.1

- A) Yalnız I B) Yalnız II
 C) I ve II D) II ve III

Adı / Soyadı:

Sınıfı:

Numarası:

Soru	1	2	3	4	5	Toplam
Puan						

2. DÖNEM 1. YAZILI SORULARI (4)

1 Aşağıdaki cümlelerde boş bırakılan yerlere uygun ifadeleri yazın. (10P)

- Kanuni Sultan Süleyman
- yaya
- İngiltere
- Orhan Bey
- Kazasker
- Almanya
- müselleme
- İtalya
- Karesioğulları
- Vasco de Gama

- a** Osmanlı Devleti, Anadolu'da siyasi birliği sağlamak için ilk olarak **Karesioğulları** Beyliğini almıştır.
- b** **Orhan Bey** döneminde, ilk düzenli ordu **yaya** ve **müselleme** kurulmuştur.
- c** Osmanlı Devleti en parlak dönemini "**Kanuni Sultan Süleyman**" zamanında yaşamıştır.
- d** Divan'daki büyük davalara **kazasker** bakardı.
- e** Hint Deniz Yolu'nun keşfi "**Vasco de Gama**" tarafından gerçekleştirilmiştir.
- f** Rönesans **İtalya**'da, Reform **Almanya**'da, Sanayi İnkılabı **İngiltere**'de başlamıştır.

2 Aşağıda verilen ifadeler doğru ise D, yanlış ise Y yazın. (5P)

- Y** Pasinler Savaşı ile Anadolu'ya "Türkiye" denmeye başlamıştır.
- D** Osmanlı Devleti'ni Fetret Devri'nden çıkaran Çelebi Mehmet'tir.
- D** Arnavutluk, Eflak-Boğdan, Mora; Fatih zamanında alınmıştır.
- Y** Nedim, Lale Devri minyatür sanatçısıdır.
- D** Çanakkale ve İstanbul Boğazları dünya ticaretinde önemli rol oynar.

3 Aşağıdaki sözcüklerle, ilgili oldukları cümleleri eşleştirin. (10P)

- a** Yavuz Sultan Selim
- b** Voltaire
- c** İskân
- d** Dolmabahçe Sarayı
- e** Harezmi
- f** Topkapı Sarayı
- c** Osmanlı Devleti'nde göçebe Türkleri yerleştirme politikası.
- a** Mısır'ın fethini gerçekleştiren padişah.
- d** Avrupa mimarisinin etkisinin görüldüğü mimari yapı.
- e** Sıfır sayısını, matematiğe kazandıran Türk-İslam bilim insanı.
- b** İnsan hakları üzerine çalışan bilim insanı.

4 Aşağıda verilen akademik beceri sorusunu yanıtlayın. (20P)



Reform hareketlerinin ilk defa başladığı Almanya'da siyasal birlik olmaması ve Almanya'daki prenslerin dinde yenilik isteyenleri desteklemesi Reform hareketlerinin oluşmasını sağlamıştır. 1517 yılında Reform düşüncesi Almanya'da Martin Luther tarafından ortaya atıldı. Sonunda Luther'in görüşleriyle Protestanlık mezhebi doğdu. Protestanlar ve Katolikler arasında mücadeleler Ogsburg Antlaşması ile

sona erdi (1555). Buna göre; Protestanlık mezhebi ve kilisesi kesin olarak kabul edilmiştir.

Reform hareketleri sonucunda;

Avrupa'da mezhep birliği bozuldu. Katolik ve Ortodoks mezheplerinin yanında Protestanlık, Kalvenizm ve Anglikanizm mezhepleri ortaya çıktı, mezhepler arasında çatışmalar başladı.

Din adamları ve kilise eski itibarını kaybetti.

Katolik kilisesi, kendisini yenilemek ve düzenlemek zorunda kaldı.

Eğitim - öğretim faaliyetleri kiliseden alınarak laik bir eğitim sistemi kuruldu.

Katolik kilisesinden ayrılan ülkelerde kilisenin mallarına ve topraklarına el konuldu.

Reform hareketlerinin başladığı zamanda, Avrupa'da herhangi bir kilisede görevli din adamı Papaz John, kilisenin halk üzerinde etkisini kaybetmemesi için;

- Kilisenin vatandaşlara maddi destek sağlayacağını söyleyerek

- Kilisede alınan kararları bilim ve deneye dayandırarak

- Kiliseye bağlı olan vatandaşlara, Avrupa'daki ülkelere vizesiz geçiş hakkı tanıyarak

hangisi söylerse, Orta Çağ Avrupa'sında insanların kiliseye olan güvenini tekrar kazanır? Yazın.

Kilisede alınan kararları bilim ve deneye dayandıracağını söylerse halkın güvenini kazanır. Çünkü Orta Çağ Avrupası'nda halkın kiliseye olan güveninin azalmasının sebebi, kilisenin aldığı kararların akla ve bilime uygun olmamasıdır.

TEST (10 x 5 = 50P)

5 Aşağıdaki çoktan seçmeli soruları yanıtlayın.

1. I. Orhan Bey zamanında açılmıştır.
II. Tıp eğitimi verilmiştir
III. Tokat Niksar'da açılmıştır

Yukarıdakilerden hangisi ya da hangileri Anadolu'da açılan ilk medresenin özellikleri arasında gösterilebilir? Ü.3-K.1

- (A) Yalnız I B) I ve II
C) II ve III D) I, II ve III

2.

	Olumlu	Olumsuz
I. Rodos Adası	✓	
II. İnebahtı Deniz Savaşı	✓	
III. Girit Adası		✓
IV. Preveze Deniz Savaşı	✓	
V. Çeşme Baskını		✓

Nisa, sosyal bilgiler dersinin etkinlik bölümünde yukarıdaki yanıtları vermiştir.

Her yanıt 5 puan olduğuna göre Nisa bu etkinlikten kaç puan almıştır? Ü.3-K.3

- A) 10 (B) 15 C) 20 D) 25

3. Aşağıdakilerden hangisi Osmanlı Devleti'nde hoşgörü politikası uygulandığına kanıttır? Ü.3-K.4

- A) Gaza ve cihat politikası
B) Fethettiği yerlere Türkmenleri yerleştirmesi
C) Fethettiği yerleri bayındır hâle getirmesi
(D) Bir sokakta cami, havra ve kilisenin bulunması

4. I. İlk kez denk bütçe hazırlanmıştır.
II. Devletin kötüye gidişi ile ilgili rapor hazırlanmıştır.
III. Avrupa tarzı ıslahatlar yapılmıştır.
Yukarıda verilen gelişmelerden hangisi ya da hangileri 17. yy.da gerçekleşmiştir? Ü.3-K.6

- (A) Yalnız I B) Yalnız II
C) I ve II D) I, II ve III

5. ✓ Memurlara pantolon ve fes giyme zorunluluğu getirildi.
✓ Yeniçeri Ocağını kaldırdı.
✓ İlk resmi gazete çıkarıldı.
Yukarıda II. Mahmut döneminde yapılan yeniliklerden bazıları verilmiştir.

Bu yenilikler aşağıdaki alanlarla eşleştirilirse hangi seçenek boşta kalır? Ü.3-K.8

- A) Askerî B) Kültürel
C) Yönetim (D) Eğitim

6. 1. Ege'den başlayıp Mezopotamya'ya kadar uzanır.
2. Çin'den başlayıp iki kol hâlinde Avrupa'ya kadar uzanır.

Yukarıda verilen ticaret yolları sırasıyla hangi seçenekte doğru verilmiştir? Ü.5-K.2

- (A) Kral Yolu- İpek Yolu
B) Baharat Yolu- Kral Yolu
C) İpek Yolu- Kürk Yolu
D) Kral Yolu- Kürk Yolu

7.

I	Jön Türkler kabul ettirdi.
II	İttihat ve Terakki Partisi kabul ettirdi.
III	Halk yönetime katıldı.
IV	93 Harbi ile sona erdi.
V	31 Mart Ayaklanması'na sebep oldu.

Yukarıda 1. ve 2. Meşrutiyet dönemine ait özellikler karışık olarak verilmiştir.

Bu özellikler hangi seçenekte doğru gruplanmıştır? Ü.3-K.8

1. Meşrutiyet

2. Meşrutiyet

- A) II, III, V I, III, IV
 B) II, IV I, III, V
 C) I, III, IV II, III, V
 D) III, IV, V I, II

8.

I	İlk yazı	?
II	İlk kâğıt	?
III	İlk Matbaa	?

Yukarıda ilk icatlar ve bunları gerçekleştiren devletler eşleştirilmiştir.

Buna göre hangi seçenekte bu eşleştirme sırasıyla yapılmıştır? Ü.4-K.1

- A) Sümerler, Çin, Çin
 B) Çin, Sümerler, Çin
 C) Çin, Sümerler, Uygurlar
 D) Sümerler, Çin, Uygurlar

9.

	Neden	Sonuç
I	Pusulunun öğrenilmesi	Coğrafi Keşiflerin yapılması
II	Barutun ateşli silahlarda kullanılması	Sanayi İnkılabı'nın ortaya çıkması
III	Matbaanın ve kâğıdın öğrenilmesi	Rönesans'ın ortaya çıkması
IV	Buharın makinede kullanılması	Derebeyliklerin yıkılması

Yukarıdaki tabloda bazı olaylar arasındaki neden-sonuç ilişkisi verilmiştir.

Tablonun doğru olması için hangi bilginin yer değiştirmesi gerekir? Ü.4-K.4

- A) I ve II B) II ve III
 C) I ve IV D) II ve IV

10.

Kopernik	Dünya'nın yuvarlak olduğunu kanıtlamıştır.
J. J. Rousseau	Fransız İhtilali'nin öncülerindedir.
Newton	Yer Çekimi Kanunu'nu keşfetmiştir.
Galileo	Dünya'nın Güneş etrafında döndüğünü kanıtlamıştır.

Yukarıdaki tabloda bazı bilim insanları ve ilgilendiği faaliyetler eşleştirilmiştir.

Tablonun doğru olması için hangi ikisi adlarının yer değiştirmesi gerekir? Ü.4-K.5

- A) J. J. Rousseau - Galileo
 B) Kopernik - Galileo
 C) Kopernik - J. J. Rousseau
 D) Newton - Galileo

Adı / Soyadı:

Sınıfı:

Numarası:

Soru	1	2	3	4	5	Toplam
Puan						

2. DÖNEM 1. YAZILI SORULARI (5)

1 Aşağıdaki cümlelerde boş bırakılan yerlere uygun ifadeleri yazın. (10P)

- Mısırlılar
- Karesioğulları
- II. Mahmut
- Sümerler
- Rum Krallığı
- Dulkadiroğulları
- Divriği Ulu Cami
- Selimiye Cami
- Süleymaniye Cami

- a** Mengüceklilere ait “... **Divriği Ulu Camii**...” Anadolu’daki ilk külliye dir.
- b** 4. Haçlı Seferi sonunda, İznik’te Latin Krallığı, Trabzon’da ... **Rum Krallığı** ... kuruldu.
- c** Osmanlı Devleti’ne bağlanan son beylik “... **Dulkadiroğulları’dır.**...”
- d** Mimar Sinan’ın “Ustalık eserim” dediği “... **Selimiye Camii**...” Edirne’de bulunmaktadır.
- e** ... **II. Mahmut** ... Yeniçeri Ocağını kaldırıp, yerine Asakir-i Mansure-i Muhammediye ordusunu kurmuştur.

2 Aşağıda verilen ifadeler doğru ise D, yanlış ise Y yazın. (5P)

- D** İstanbul 1453’ten önce, başka milletler ve padişahlar tarafından da kuşatılmıştır.
- Y** Vezirler, padişahın en yetkili kişidir.
- Y** Osmanlı iskân politikası ile fethettiği yerleri asimile etmeyi amaçlamıştır.
- D** Mehter müziği, Avrupa’da ünlü besteciler tarafından kullanılmıştır.
- D** Aydınlanma Çağı’nda deney, gözlem gibi metotlar ön plana çıkmıştır.

3 Aşağıdaki sözcüklerle, ilgili oldukları cümleleri eşleştirin. (5P)

- e** Osmanlı’da babasını tahttan indirerek başa geçen padişah.
- b** Yeniçerilerin aldığı bahşiş.
- a** Batı tarzında ilk üniversite.
- c** Batı tarzında ilk liseyi açan padişah.
- d** Kitab-ı Bahriye adlı eseri yazan bilim insanı.

a Darülfünun**b** Cülus**c** Abdülaziz**d** Piri Reis**e** Yavuz Sultan Selim**f** Ulufe

4 Aşağıda verilen akademik beceri sorusunu yanıtlayın. (20P)

Türkiye'nin 40 yıl sonra kuraklaşacağı ile ilgili bir haber dinleyen Alican, bulduğu bu soruna çözüm yolları düşünmeye başlamış ve bulduğu çözüm yollarını listelemiştir.

1 Doğal kaynaklarımızın kullanımı konusunda, öğretim programı hazırlamak

2 Belediyeler tarafından, hane ziyaretleri yaparak vatandaşları bilinçlendirmek

3 Kitle iletişim araçlarından yararlanmak, kamu spotu reklamlarını arttırmak

4 Binalara sadece belirli saatlerde ve belirli miktarda su vermek

5 Geri dönüşüm tesislerini geliştirerek, suyu tekrar kullanılabilir hâle getirmek

6 Her yıl düzenli olarak ağaçlandırma yapmak

Alican, hangi çözüm yollarını seçerse sağlıklı ve uzun vadeli bir çözüm yolu oluşturmuş olur?

1, 2, 3, 5 ve 6. çözümleri seçerse sağlıklı ve uzun vadeli çözüm yolu oluşturur.

Hangi yol çözüm olamaz?

Binalara sadece belirli saatlerde ve belirli miktarda su vermek doğru bir çözüm yolu değildir.

TEST (10 x 5 = 50P)

5 Aşağıdaki çoktan seçmeli soruları yanıtlayın.

1. Aşağıda verilen Yassıçemen Savaşı'nın sonuçlarından;

- I. İki Türk devleti arasında gerçekleşmiştir.
- II. Anadolu Selçuklu Devleti kazandı.
- III. Harzemşahlar yıkıldı.
- IV. Anadolu Selçuklu Devleti Moğollar ile sınır oldu.

hangisi Anadolu Selçuklu Devleti'nin aleyhine olmuştur? Ü.3-K.1

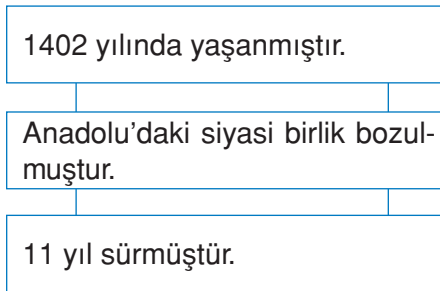
- (A) IV B) III C) II D) I

2. ✓ Esnaflar arasında yardımlaşma ve dayanışmayı sağlamıştır.
✓ Esnaflar arasında haksız rekabeti önlemiştir.
✓ Anadolu'nun Türkleşmesine katkı sağlamıştır.

Verilen bilgiler aşağıdaki kurumlardan hangisi ile ilgilidir? Ü.3-K.1

- A) Kervansaray B) İmarethane
(C) Ahilik D) Divan

3.



Bu tabloya verilebilecek en uygun başlık aşağıdakilerden hangisidir? Ü.3-K.3

- A) Ankara Savaşı
B) 1. Beylikler Dönemi
C) 2. Beylikler Dönemi
(D) Fetret Devri

4.



Yukarıda verilen Divan-ı Hümayun üyeleri ile seçeneklerde verilenler eşleştirildiğinde hangi seçenek boşa kalır? Ü.3-K.3

- A) Dinî konularda en yüksek yetkiye sahiptir.
B) Başkenti ve padişahı koruyan yeniçerilerin başında bulunur.
(C) Yazı işleri müdürüdür.
D) Mali işlerden sorumludur.

5.

- I. Sosyal Devlet anlayışının ayrılmaz parçasıdır.
II. Gönüllü kişilerin çalışmaları ile faaliyet gösterir.
III. İhtiyaç sahiplerinin ihtiyaçları karşılanır.
Aşağıdakilerden hangisi sözü edilen kurumlara örnek olarak gösterilemez? Ü.5-K.4

- A) Düşkün Leylekler Evi
B) Çocukların Açık Havada Gezdirilmesi Vakfı
(C) Enderun Mektebi
D) Çocuk Esirgeme Kurumu

6. I. Padişah Abdülhamit tarafından ilan edildi.
II. Kanun-i Esasi kabul edildi.
III. Halk yönetime ilk kez katıldı.

Yukarıda verilen bilgilerden hangisi ya da hangileri Meşrutiyet döneminde gerçekleşmiştir? Ü.3-K.8

- A) Yalnız I B) Yalnız II
C) I ve II **D) I, II ve III**

7. ✓ Kanunlar yazılı hâle geldi.
✓ Bilgilerin gelecek kuşaklara aktarılması kolaylaştı.
✓ Eğitim faaliyetleri hızlandı.

Verilen özellikler aşağıdaki icatların hangisi ile gerçekleşmiştir? Ü.4-K.2

- A) Matbaanın icadı
B) Yazının icadı
C) Güneş takviminin icadı
D) Ay takviminin icadı

8. Buhara yakınlarında, Afşana köyünde doğdu. Tıp ve felsefe ağırlıklı çalışmalar yaptı. Farklı alanlarda 200 kitap yazan bilim insanı hekimlerin önderi olarak tanınır. El-Kanun Fi't Tıp, Avrupa'da tıp eğitiminde uzun yıllar okutuldu.

Bu metinde sözü edilen bilim insanı aşağıdakilerden hangisidir? Ü.4-K.3

- A) Farabi B) Gazali
C) Ali Kuşçu **D) İbn-i Sina**

9. Aşağıdaki öğrenciler Reform'un sonuçlarını tartışmaktadır.

Hakan: Kiliseye olan güven sarsıldı.

Cemre: Avrupa'da mezhep birliği bozuldu.

Beyza: Eğitim ve öğretim laikleşti.

Akın: Bilimsel çalışmalar hızlandı.

Hangisinin söylediği sonuç Osmanlı Devleti için olumlu olmuştur? Ü.4-K.4

- A) Hakan B) Beyza
C) Cemre D) Akın

10.

Tarhuncu Ahmet Paşa	Risale hazırladı.
II. Osman	Yeniçeri Ocağını kaldırmak istedi.
IV. Murat	Kahvehaneleri yasakladı.
Koçi Bey	İlk kez denk bütçeyi hazırladı.

Yukarıdaki tabloda bazı kişiler ve yaptıkları işler eşleştirilmiştir.

Tablonun doğru olması için hangi kişilerin yer değiştirmesi gerekir? Ü.3-K.6

- A) Tarhuncu Ahmet Paşa - II. Osman
B) Tarhuncu Ahmet Paşa - Koçi Bey
C) IV. Murat - Koçi Bey
D) IV. Murat - II. Osman

Adı / Soyadı:

Sınıfı:

Numarası:

Soru	1	2	3	4	5	Toplam
Puan						

2. DÖNEM 2. YAZILI SORULARI (1)

1 Aşağıdaki cümlelerde boş bırakılan yerlere uygun ifadeleri yazın. (10P)

- Divan-ı Hümayun
- Girit
- Matbaa
- vezirler
- yazı
- nişancılar
- imtiyaz
- Rodos
- Yeniden doğuş

- a** Divan üyeleri arasında bulunan **vezirler**, günümüzdeki başbakan yardımcılarına benzetilebilir.
- b** **Girit'in** fethinin 25 yıl sürmesi, Osmanlı donanmasının zayıfladığını gösterir.
- c** **Matbaa**, ilk defa Çinliler tarafından icat edilmiştir.
- d** Rönesans, sözcük anlamı olarak "**Yeniden Doğuş**" anlamına gelir.
- e** İlk Türk devletlerinde devlet işleri Kurultay'da görüşülürken İslamiyet'in kabulünden sonra **Divan-ı Hümayun'da** görüşülmüştür.

2 Aşağıda verilen ifadelerin başına doğru ise D, yanlış ise Y yazın. (10P)

- Y** Coğrafi keşiflerin gerçekleşmesi ile Akdeniz limanları önem kazanmıştır.
- D** Sanayi İnkılabı ile pazar arayışları artmıştır.
- Y** Osmanlı Devleti'nde vakıf gelirleri ile kaleler yaptırılmıştır.
- D** Mesleğimizi seçerken fiziksel özelliklerimiz önemli rol oynar.
- Y** 1982 Anayasası'nda Güçler Birliği ilkesi uygulanır.

3 Aşağıdaki sözcüklerle, ilgili oldukları cümleleri eşleştirin. (10P)

- e** Tanzimat döneminde açılan kadın öğretmen okulu. **a** Vakıf
- f** Rönesans'ın ortaya çıktığı ülke. **b** İngiltere
- b** Sanayi İnkılabı'nın ortaya çıktığı ülke. **c** Fransa
- a** Medreselerde eğitim gören öğrencilerin ihtiyaçlarını karşılayan kurum. **d** Vergi vermek
- d** Vatandaşlık görevlerimizden biri. **e** Darülmuallimat
- f** İtalya

4 Aşağıda verilen akademik beceri sorusunu yanıtlayın. (20P)

Ülkemizde faaliyet gösteren 73 adet vakıf bulunmakta olup yurt dışında kurulup ülkemizde çalışma yapan vakıf sayısı 15 tanedir. 2015 yılı Vakıflar Genel Müdürlüğü'nün verilerine göre yurt dışında kurulup ülkemizde faaliyet gösteren Vakıflar özellikle İstanbul, Ankara ve İzmir'de yoğunlaşmıştır. Vakıfsal çalışmalara sadece büyük şehirlerimiz değil ülkemizin doğusundan batısına, güneyinden kuzeyine şehir merkezleri dahil olmak üzere tüm yerleşim yerlerindeki insanlarımız ihtiyaç duymaktadır.

Vakıflar Genel Müdürlüğü, ülke çapında ve ayırım yapmaksızın tüm halka ulaşacakları bir vakıf kurulmasını istemekte, bunun için de sivil toplum örgütleri ve ülkemiz sanatçılarına bu konuda üzerlerine düşen görevleri yerine getirmeleri için bir davet vermiştir. **Davetin başlangıç konuşmasında Vakıflar Genel Müdürü;**

- ✓ Vakıfların kurulmasını teşvik etmek için vakıf kuranlara maddi destek sağlamak,
- ✓ Vakıfların toplum içinde rolü ve işlevselliği ile ilgi bilgi verip, kurulan vakıflara devlet imkânlarının el verdiğiince yardım etmek, vakıfları maddi ve manevi olarak tüm imkânlarla desteklemek
- ✓ Kurulan vakıflarda çalışan gönüllü insanların vergi borçlarını silmek

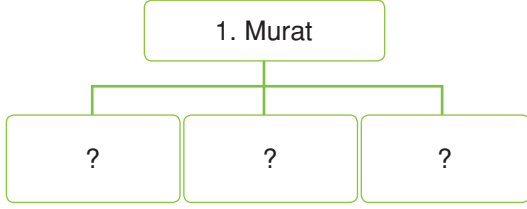
hangisini vurgularsa davete katılan sivil toplum örgütleri ve sanatçıları vakıf kurulması konusunda daha etkili bir şekilde ikna etmiş olur?

Vakıfların toplum içinde rolü ve işlevselliği ile ilgi bilgi verip, kurulan vakıflara devlet imkânlarının el verdiğiince yardım edeceğini, maddi ve manevi olarak tüm imkânlarla destekleneceğini söylerse daha etkili bir şekilde ikna etmiş olur. Çünkü yaşadığımız toplumun vakıflara, vakıfların da tarafsız bir şekilde devlet ihtiyacına desteği vardır.

TEST (10 x 5 = 50P)

5 Aşağıdaki çoktan seçmeli soruları yanıtlayın.

1.



Yukarıdaki diyagramda 1. Murat'ın faaliyetleri listelenecek.

Buna göre diyagrama aşağıdakilerden hangisi yazılamaz? Ü.3-K.2

- A) Defterdarlık makamı kuruldu.
 B) Bursa'yı başkent yaptı.
 C) Yeniçeri Ocağını kurdu
 D) Tımar Sistemi'ni uyguladı.

2.

I	Avrupa'ya ilk defa geçici elçiler gönderildi.
II	Avrupa'ya ilk defa kalıcı elçiler gönderildi.
III	İlk defa özel matbaa açıldı.
IV	İlk devlet matbaası açıldı.
V	Resmi yabancı dil Fransızca oldu.

Yukarıda Lale Devri ve 3. Selim dönemi yenilikleri karışık olarak verilmiştir.

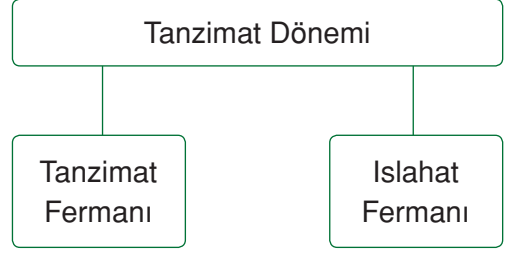
Aşağıdaki seçeneklerin hangisinde bu yenilikler doğru gruplanmıştır? Ü.3-K.8

Lale Devri

3. Selim

- A) I, IV, V II, III
 B) I, II, V III, IV
 C) II, III I, IV, V
 D) I, III II, IV, V

3.



Yukarıdaki diyagramda verilen gelişmelerin ortak özelliği aşağıdakilerden hangisidir? Ü.3-K.8

- A) Çağdaşlaşmak için yapılmıştır.
 B) Azınlık isyanlarını önlemek amaçlanmıştır.
 C) İkisi de aynı padişah tarafından ilan edilmiştir.
 D) İkisi de aynı yıl ilan edilmiştir.

4.

	Neden	Sonuç
I	Barutun ateşli silahlarda kullanılması	Derebeyliğin zayıflaması
II	Matbaanın kullanılması	Aydınlanma Çağının yaşanması
III	Dayanıklı gemilerin yapılması	Coğrafi Keşiflerin başlaması
IV	Özgür düşüncenin gelişmesi	Rönesans hareketlerinin başlaması

Yukarıdaki tabloda aralarında neden-sonuç ilişkisi olan bazı gelişmeler eşleştirilmiştir.

Tablonun doğru olması için kaç numaralı bilgilerin yer değiştirmesi gerekir? Ü.4-K.1,4

- A) I ve III B) II ve III
 C) II ve IV D) I ve IV

5. Osmanlı Devleti'nde 17. yüzyıla geldiğimizde Tımar Sistemi bozulmaya başladı. Topraklar boş kaldı ve askerî düzen bozuldu.

Aşağıdakilerden hangisi bu bilginin en kapsamlı sonucudur? Ü.5-K.1

- A) Askerî ve ekonomik güç zayıflamıştır.
 B) Tımar sahipleri görevlerini yerine getirmemiştir.
 C) Osmanlı Devleti, dış borç almak zorunda kalmıştır.
 D) Islahat hareketleri yavaşlamıştır.

6. I. Devşirme sistemi ile öğrenci alınır.
 II. Sadece, Hristiyan çocuklar alınır.
 III. İyi eğitim alan öğrenciler vezir, sadrazam gibi yüksek mevkilere gelebilirdi.

Yukarıda verilen bilgilerden hangileri Enderun Mektebi ile ilgilidir? Ü.5-K.5

- A) I ve II
 B) II ve III
 C) I ve III
 D) I, II ve III

7. **Ayça:** Padişahın yetkileri kısıtlandı.
Dilek: Halk ilk kez yönetime katıldı.
Murat: Halk kendi kendini yönetmeye başladı.
 Yukarıdaki öğrenciler demokratik adımlar sonunda yaşanan gelişmelerden söz etmişlerdir.

Bu gelişmeler aşağıdaki kavramlarla eşleştirildiğinde hangi seçenek boşta kalır? Ü.6-K.1

- A) Merkezi krallık sistemi
 B) Tanzimat Fermanı dönemi
 C) Meşrutiyet yönetimi
 D) Cumhuriyet yönetimi

8. I. Hukuk Devleti
 II. Sosyal Devlet
 III. Teokratik Devlet

Yukarıda verilenlerden hangisi ya da hangileri Türkiye Cumhuriyeti'nin nitelikleri arasındadır? Ü.6-K.2

- A) Yalnız I
 B) I ve II
 C) II ve III
 D) I, II ve III

9. Yasama → ?
 Yürütme → ?
 Yargı → ?

Yukarıda “?” olan yerlere aşağıdaki kavramlar getirildiğinde hangi seçenek boşta kalır? Ü.6-K.3

- A) TBMM
 B) Sayıştay
 C) Bakanlar Kurulu + Cumhurbaşkanı
 D) Bağımsız Mahkemeler

10.

	Tasarı	Teklif
I		?
II		Komisyonlar
III		Komisyon Raporu
IV		TBMM Genel Kurulu
V		Yasa
VI		?

Yukarıdaki kanun çıkarma sürecinde “?” olan yerlere sırasıyla hangileri yazılmalıdır? Ü.6-K.3

- A) Resmi Gazete, TBMM Başkanlığı
 B) TBMM Başkanlığı, Resmi Gazete
 C) Cumhurbaşkanı, TBMM Başkanlığı
 D) TBMM Başkanlığı, Cumhurbaşkanı

Adı / Soyadı:

Sınıfı:

Numarası:

Soru	1	2	3	4	5	Toplam
Puan						

2. DÖNEM 2. YAZILI SORULARI (2)**1 Aşağıdaki cümlelerde boş bırakılan yerlere uygun ifadeleri yazın. (10P)**

- Mısır Seferi
- Yavuz Sultan Selim
- 31 Mart Ayaklanması
- Kilise
- Akdeniz
- İstanbul'un Fethi
- Ege
- Cem Sultan
- Vaka-i Hayriye

- a** Osmanlı Devleti, **İstanbul'un fethi** ile yükselme dönemine girmiştir.
- b** II. Bayezit kardeşi **Cem Sultan** ile uğraştığı için sınırları fazla geliştirememiştir.
- c** II. Mahmut'un Yeniçeri Ocağını kaldırmasına **Vaka-i Hayriye** denilmiştir.
- d** Reform hareketleri sonucunda **kilise** kendini yenilemiştir.
- e** Süveyş Kanalı, **Akdeniz** ve Kızıldeniz'i birbirine bağlar.

2 Aşağıda verilen ifadeler doğru ise D, yanlış ise Y yazın. (10P)

- D** Osmanlı Devleti'nin hızlı büyümesinde Bizans sınırında kurulmasının etkisi olmuştur.
- Y** Avrupa ilk kez III. Selim döneminde örnek alınmıştır.
- Y** Rönesans hareketleri Martin Luther öncülüğünde başlamıştır.
- D** Türkler, matbaayı Çinlilerden öğrenmiştir.
- Y** Türkler, tarih boyunca oligarşi ile yönetilmiştir.

3 Aşağıdaki sözcüklerle, ilgili oldukları cümleleri eşleştirin. (10P)

- a** Protestanlık
- b** Kumaş
- c** Kalvenizm
- d** Hiyeroglif
- e** Şet Kuşanma
- f** Dolmabahçe
- b** Lale Devri'nde fabrika alanındaki gelişme.
- f** Topkapı Sarayı'ndan sonra devlet işlerinin yürütüldüğü saray.
- d** Mısırlıların kullandığı yazı.
- a** Almanya'da ortaya çıkan mezhep.
- e** Loncada ustalığa geçiş töreni.

4 Aşağıda verilen akademik beceri sorusunu yanıtlayın. (20P)

Dünya Sağlık Örgütü'nün İstanbul'da yaptığı araştırmaya göre, İstanbul genelinde 40 hayvan barınağı bulunmakta. Bunların içinde kapasite olarak Beykoz'daki barınak 2 bin kadar çeşitli türde hayvana ev sahipliği yapabiliyor.

Dünya Sağlık Örgütü verilerine göre İstanbul'da her bin kişiye 8.4 sokak köpeği düşerken, sokak kedilerinin sayıları maalesef hesaplanamamış durumda.

Sokak hayvanlarını koruyan HAYSEV derneği bu veriler üzerine bir proje geliştirmek istiyor.

Buna göre;

-Sokak hayvanlarının şehir merkezinden uzak yerlere götürülmesi

-İnsanlara zorunlu olarak, sokak hayvanları sahiplendirilmesinin TBMM'ye sunulan bir kanun teklifiyle yasallaştırılması

- Sokak hayvanlarını bilinçli bireyler tarafından sahiplendirilmesi sağlamak ve petshoplarda hayvan satımını engellemek

Geliştirilecek projede hangi çözüm yolu üzerinde durulursa daha kalıcı ve kesin çözüm elde edilmiş olur?

Sokak hayvanlarını bilinçli bireyler tarafından sahiplendirilmesi sağlamak ve petshoplarda hayvan satımını engellemek çözüm yolu olacaktır.

TEST (10 x 5 = 50P)

5 Aşağıdaki çoktan seçmeli soruları yanıtlayın.

1. "İstanbul'da dolaşan kedilerin ve köpeklerin bakımından söz edildiğini duymuşsunuzdur. Ancak Türklerin özgürlük tanıdığı hayvanlar, sadece kediler ve köpekler değil. Çok sayıda kumru ve güvercin de var. Özgürce damlarda yaşıyorlar. Başka yerlerde kuş yuvalarının doğal düşmanı olan çocuklar burada yuvalara saygı gösteriyorlar. Türkler ağaçlara da saygı gösteriyorlar. Bir ağacın kesilmesi çevrenin mırıldanmasına yol açıyor. Ağaç kesmek kadar kaçınılan başka bir şey yok."

(Yukarıdaki metin İstanbul'a gelen Polonyalı Jan Poticki'nin notlarından alınmıştır.)

Aşağıdaki yargılardan hangisi bu metinden çıkarılabilir? Ü.3-K.7

- A) Türkler, hayvanları korumuştur.
B) Türkler, için doğa önemlidir.
C) Çocuklar aldığı eğitim nedeniyle hayvanlara zarar veremez.
D) Türklerde, ağacın kesilmesi tepki yaratır.

2.

	Yönetim	Askerî	Kültürel
Nüfus sayımı yapıldı.		✓	
İlköğretim zorunlu oldu.	✓		
Sekban-ı Cedid Ocağı kuruldu.		✓	
Timar Sistemi kaldırıldı, memura maaş bağlandı.			✓

Simge, 2. Mahmut yenilikleri ve ilişkili olduğu alanların eşleştirildiği etkinliğe yukarıdaki yanıtları vermiştir.

Her soru 5 puan olduğuna göre Simge bu etkinlikten kaç puan almıştır? Ü.3-K.8

- A) 5 B) 10 C) 15 D) 20

3. I. İzmir - Aydın arasına demir yolu yapıldı.
II. Şirket-i Hayriye kuruldu.
III. Orient Ekspres seferlere başladı.
Yukarıda Tanzimat döneminde yapılan bazı yenilikler verilmiştir.

Bu yeniliklerden hangileri ulaşımı geliştirmek için yapılmıştır? Ü.3-K.8

- A) Yalnız I B) I ve II
C) I ve III D) I, II ve III

4.

I	Macellan	Dünya'yı dolaştı.
II	Vasco de Gama	Ümit Burnu'nu keşfetti.
III	Kristof Kolomb	Amerika kıtasını keşfetti.
IV	Bartelmi Diaz	Hint Deniz Yolu'nu keşfetti.

Yukarıdaki tabloda bilim insanları ve keşifleri eşleştirilmiştir.

Tablonun doğru olması için hangilerinin yer değiştirmesi gerekir? Ü.4-K.4

- A) I ve III B) II ve III
C) II ve IV D) I ve IV

5. ✓ Dünya'nın yuvarlak olduğu anlaşıldı.
✓ Atlas Okyanusu'nun kıyısındaki limanların önemi arttı.
✓ Hristiyanlık yeni yerlere yayıldı.
Yukarıda, Coğrafi Keşiflerin sonuçları verilmiştir.

Bu sonuçlar aşağıdaki alanlarla eşleştirildiğinde hangi alan boşa kalır? Ü.4-K.4

- A) Ekonomik B) Siyasi
C) Bilimsel D) Dini

6. Osmanlı Devleti tarıma dayanıyordu. Çiftçiler ürünlerini ekebilmek için şahıslardan yüksek faizle borç alıyorlardı. Aldıkları bu borçları ödeyemeyince de ürettikleri ürünleri bu kişilere kaptırıyorlardı. Bu durum karşısında Niş Valisi Mithat Paşa çiftçiyi rahatlatmak için imece usulüne dayanan Memleket Sandıklarını kurdu. Bu sandıklar zamanla ülke geneline yayıldı.

Yukarıdaki metinde hangi kurumun geçmişinden söz edilmiştir? Ü.5-K.1

- A) Tarım Kredi Kooperatifleri
B) Toprak Mahsulleri Ofisi
C) Ziraat Bankası
D) Devlet Su İşleri

7. I. Medrese
II. Sıbyan Mektebi
III. Lonca

Yukarıdaki bilgide Osmanlı Devleti'ndeki eğitim kurumları verilmiştir.

Bu kurumlar günümüz eğitim kurumlarına benzerliği yönünden eşleştirilirse hangi seçenek boşa kalır? Ü.5-K.5

- A) Anaokulu B) İlkokul
C) Üniversite D) Meslek Lisesi

8. I. Ülke yönetimi için yarışılar.
II. Seçimlerden sonra en yüksek oyu alan ülkeyi yönetmeye hak kazanır.
III. Kâr amacı gütmeyizler.

Yukarıda verilen bilgilerden hangisi ya da hangileri siyasi partilere aittir? Ü.6-K.4

- A) Yalnız I B) I ve II
C) II ve III D) I, II ve III

9. "Ancak yemek yemeye veya almaya bi-zatihi kendüleri gelemeyenlerin yemekleri güneşin loş bir karanlığında ve kimse görmeden kapalı kaplar içerisinde evlerine götürüle..."

Fatih Sultan Mehmet'in vasiyetinden alınan bu kesite göre, Osmanlı Devleti'nin hangi özelliği vurgulanmıştır? Ü.5-K.1

- A) Hukuk Devleti
B) Sosyal Devlet
C) Demokratik Devlet
D) Hoşgörülü Devlet

10.

I	1. Meşrutiyet
II	Tanzimat Fermanı
III	Kanun-i Esasi
IV	2. Meşrutiyet
V	Islahat Fermanı

Yukarıdaki tabloda Osmanlı Devleti'nde demokratikleşme hareketleri karışık olarak verilmiştir.

Yapılan yenilikler hangi seçenekte kronolojik olarak sıralanmıştır? Ü.6-K.1

- A) II, IV, I, III, V
B) I, V, III, II, IV
C) II, I, V, III, IV
D) II, V, I, III, IV

Adı / Soyadı:.....

Sınıfı:.....

Numarası:.....

Soru	1	2	3	4	5	6	Toplam
Puan							

2. DÖNEM 2. YAZILI SORULARI (3)

1 Aşağıdaki cümlelerde boş bırakılan yerlere uygun ifadeleri yazın. (10P)

- matbaa
- şehzade
- yeniçeriler
- cülus
- kapıkulu askerleri
- ulufe
- lala
- çiçek aşısı
- para

- a** Padişahların çocukları tahta çıkmadan önce, **lala** gözetiminde sancak yönetimi yapardı.
- b** Osmanlı'da, başkenti **kapıkulu askerleri** korurdu ve üç ayda bir **ulufe** denilen maaşı alırlardı.
- c** Lale Devri'nde uygulanan "**çiçek aşısı**" sağlıkla ilgili gelişmedir.
- d** **Para**, ilk defa Lidyalılar tarafından kullanılmıştır.

2 Aşağıda verilen ifadeler doğru ise D, yanlış ise Y yazın. (5P)

- D** Osmanlı Devleti'nde kurumsallaşma, Orhan Bey döneminde gerçekleşmeye başlamıştır.
- Y** Konya, Osmanlı Devleti başkentlerinden biridir.
- Y** 17. yy.da ıslahatlar daha çok kültürel alanda yapılmıştır.
- D** Tanzimat Fermanı azınlık isyanlarını engellemek amacı ile ilan edilmiştir.
- D** Anadolu'da kurulan ilk medrese Yağlıbasan Medresesi'dir.

3 Aşağıdaki sözcüklerle, ilgili oldukları cümleleri eşleştirin. (5P)

- b** Yavuz Sultan Selim'in halife unvanını aldığı sefer.
- e** Divan-ı Hümayun üyelerinden biri.
- d** Amerika'nın yeni bir kıta olduğunu fark eden kâşif.
- a** Rönesans dönemi sanatçılarından biri.
- c** İlk Türk devletlerinde devleti yönetme yetkisinin Tanrı tarafından verildiğine inanılması.

- a** Mikalenjelo
- b** Mısır
- c** Kut
- d** Ameriko Vespuçi
- e** Nişancı
- f** Müderris

4 Aşağıda verilen açık uçlu soruyu yanıtlayın. (10P)

Türk devletlerinde geçmişten günümüze uygulanan yönetim şekillerini kısaca açıklayın.

İslamiyet'ten önce Türklerde devlet kararları Kurultay denen mecliste alınırdı. Son sözü hakan söylese de önemli kararlarda meclise danışılırdı. Meclise devletin ileri gelenleri, hakan ve hakanın eşi katılırdı. Ülke yönetiminde yazılı olmayan hukuk kuralları (töre) esas alınırdı. Ayrıca hakanın egemenlik hakkını Tanrı adına kullandığına inanılırdı. (Kut İnanç) İslamiyet'ten sonra devlet işlerinin görüşüldüğü meclis "divan" adını aldı. Egemenlik hakkı padişaha aitti ve "Devlet hanedanın ortak malıdır." anlayışı hakimdi. Osmanlı Devleti'nde Yavuz Sultan Selim'in Mısır Seferi sonunda "Halifelik" unvanı alması devlete teokratik özellik de kattı. 19. yy.a gelindiğinde Tanzimat Fermanı ile padişahın yetkileri kısıtlandı. Bu yy.ın sonlarına doğru ilan edilen Meşrutiyet de ise halk padişahın yanında kısmen de olsa yönetime katıldı. 1920 yılında TBMM'nin açılması ile "Egemenlik kayıtsız şartsız milletindir." anlayışı benimsenmiştir.

5 Aşağıda verilen akademik beceri sorusunu yanıtlayın. (20P)**ABİDE**

26. Dönem Mersin Milletvekili hemşehrilerinin ürettiği muzdan ekonomik olarak daha fazla yarar sağlamasını istemektedir. **Bu sebeple**

Meclise;

- ✓ Anamur muzunun üretilmesine devlet kotasının konulması,
- ✓ Üretilen muzların tüketiminin Anamur halkına yasaklanarak ilçe dışına gönderilmesi,
- ✓ Bilinçli çiftçi yetiştirmek için ilçe Ziraat Mühendisliği Fakültesi açılması ve tohum ıslah çalışmaları yapılması için Tarım ve Kredi Koo-

peratifine gerekli bütçesinin verilmesi hakkında

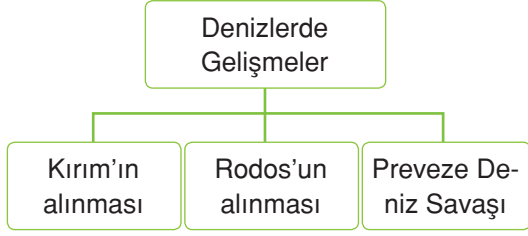
Kanun tekliflerinden hangisini tercih ederse hemşehrilerinin ekonomik olarak daha fazla gelir elde etmesini sağlar?

Bilinçli çiftçi yetiştirmek için Ziraat Mühendisliği Fakültesi açılması ve tohum ıslah çalışmaları yapılması için Tarım Kredi Kooperatifine gerekli bütçenin verilmesi hakkında kanun teklifi verirse hemşehrilerine daha çok yarar sağlar.

TEST (10 x 5 = 50P)

6 Aşağıdaki çoktan seçmeli soruları yanıtlayın.

1.



Diyagramda verilen olaylar ve sonuçları eşleştirildiğinde hangi seçenek boşta kalır? Ü.3-K.3

- A) Baharat Yolu'nun kontrolü Osmanlı'ya geçti.
 B) Karadeniz Ticaret yolu Osmanlı kontrolüne girdi.
 C) Akdeniz Türk gölü hâline geldi.
 D) Ege Denizi Türk gölü hâline geldi.

2. **Caner:** Avrupa'dan askerî uzmanlar getirildi.

Şirin : İlk askerî teknik okul olan Hende-sehane açıldı.

Seda : Avrupa mimarisinin örnek alındığı Nuruosmaniye Camii yaptırıldı.

Yukarıdaki öğrencilerin söylediği yenilikler hangi padişah zamanında yapılmıştır? Ü.3-K.8

- A) 2. Mahmut B) 1. Mahmut
 C) Abdülhamit D) 3. Selim

3. I. Osmanlı Devleti'nde ilk gözlemevinin kurulmasına öncülük etmiştir.
 II. Güneş ve Ay tutulmalarını gözlemiştir.
 III. Celali takvimini hazırlamıştır.

Yukarıda verilen özelliklerden hangisi ya da hangileri Taküyyiddin'e aittir? Ü.4-K.3

- A) Yalnız I B) I ve II
 C) II ve III D) I, II ve III

4. **Aydınlanma Çağı'nın sonuçları arasında;**

- I. İnsan hakları, Hümanizm gibi düşünceler gelişti.
 II. Avrupa sanat ve bilimde ilerledi.
 III. Sanayi İnkılabı için ortam hazırladı.
 IV. Eğitim ve öğretim kilisenin elinden alındı.
gelişmelerden hangileri ortaya çıkmıştır? Ü.4-K.4

- A) I ve II B) III ve IV
 C) I ve III D) II, III ve IV

5. ✓ 1921 Anayasası
 ✓ 1924 Anayasası
 ✓ 1982 Anayasası

Yukarıda verilen anayasalarımızın ortak özellikleri arasında;

- I. Millî egemenlik ilkesi uygulanmıştır.
 II. Güçler ayrılığı uygulanmıştır.
 III. Değişmeyen maddeleri vardır.

hangisi ya da hangileri gösterilebilir? Ü.6-K.2

- A) Yalnız I B) Yalnız II
 C) I ve II D) I, II ve III

6. I. Demokrasinin gelişmesine katkı sağlar.
 II. İmkanları yetersiz olan kişilerin gıda, sağlık, eğitim gibi ihtiyaçlarında yardımcı olur.
 III. Bazı kampanyalarla gündem oluşturur.

Yukarıda verilen özelliklerden hangisi ya da hangileri sivil toplum örgütlerine aittir? Ü.6-K.4

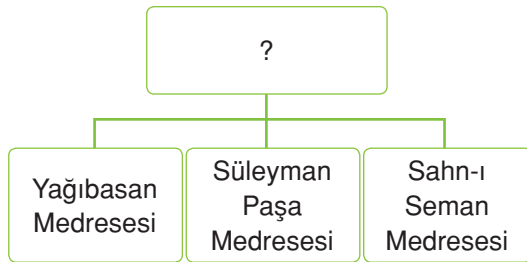
- A) Yalnız I B) Yalnız II
 C) I ve II D) I, II ve III

7. 1876 yılında, Jön Türklerin baskısı ile padişah Abdülhamit Meşrutiyeti ilan etmiştir. Böylece, padişahın yanında halk da yönetimde söz sahibi olmuştur. Ancak 93 Harbi gerekçesiyle, padişah meclisi kapatmış ve "İstibdat dönemi" başlamıştır.

Verilen metinden çıkarılabilecek yargı aşağıdakilerden hangisidir? Ü.5-K.1

- A) Osmanlı'da bütün vatandaşlar yönetime katılmıştır.
 B) Kanun-i Esasi ilan edilmiştir.
 C) Azınlık isyanları sona ermiştir.
 (D) Padişah millet iradesini yok saymıştır.

8.



Yukarıdaki diyagrama verilebilecek en uygun başlık hangisidir? Ü.3-K.3

- A) Osmanlı'da Eğitim
 (B) Türklerde Eğitim
 C) Anadolu Selçuklu Devleti'nde Eğitim
 D) İslamiyet'ten Önce Türklerde Eğitim

9.

Türklerde Devlet Yönetimi

	Doğru	Yanlış
I. İslamiyet'ten önce Türklerde devlet işleri Kurultayda görüşülürdü.		✓
II. İslamiyet'ten önce yönetme yetkisinin "Tanrı" tarafından verildiğine inanılırdı.	✓	
III. İslamiyet'in kabulünden günümüze kadar devlet işleri Divan'da görüşülmüştür.	✓	
IV. Cumhuriyet, millet egemenliğine dayanır.	✓	

Yukarıdaki doğru - yanlış değerlendirmelerinden hangileri hatalıdır? Ü.6-K.1

- A) I ve II
 (B) I ve III
 C) II ve IV
 D) III ve IV

10. Osmanlı Devleti, pek çok konuda Anadolu Selçuklularında var olan uygulamaları örnek almıştır.

Aşağıda verilenlerden hangisi Osmanlı Devleti'nin toprak yönetiminde Anadolu Selçuklu Devleti'nden etkilendiğinin kanıtıdır? Ü.5-K.1

- A) Padişah çocuklarının lala eşliğinde yönetim tecrübesi kazanması
 (B) Tımar Sistemi'nin uygulanması
 C) Divan teşkilatının uygulanması
 D) Ülkenin hanedanın ortak malı olması

Adı / Soyadı:

Sınıfı:

Numarası:

Soru	1	2	3	4	5	Toplam
Puan						

2. DÖNEM 2. YAZILI SORULARI (4)

1 Aşağıdaki cümlelerde boş bırakılan yerlere uygun ifadeleri yazın. (10P)

- akıncılar
- lonca
- azaplar
- James Watt
- Bakanlıklar
- Yusuf Agâh
- III. Selim
- II. Mahmut
- tımarlı sipahiler

- a Eyalet askerleri; akıncılar, azaplar ve **tımarlı sipahiler** olmak üzere üç bölüme ayrılır.
- b Yusuf Agâh Efendi **III. Selim** zamanında kalıcı elçi olmuştur.
- c **II. Mahmut** 19. yy.da Divanı kaldırarak yerine bakanlıkları kurmuştur.
- d Buhar makinesini kullanan **James Watt'in**, Sanayi İnkılabını başlattığı kabul edilir.
- e **Lonca** teşkilatı esnaf ve zanaatkârlar birliğidir.

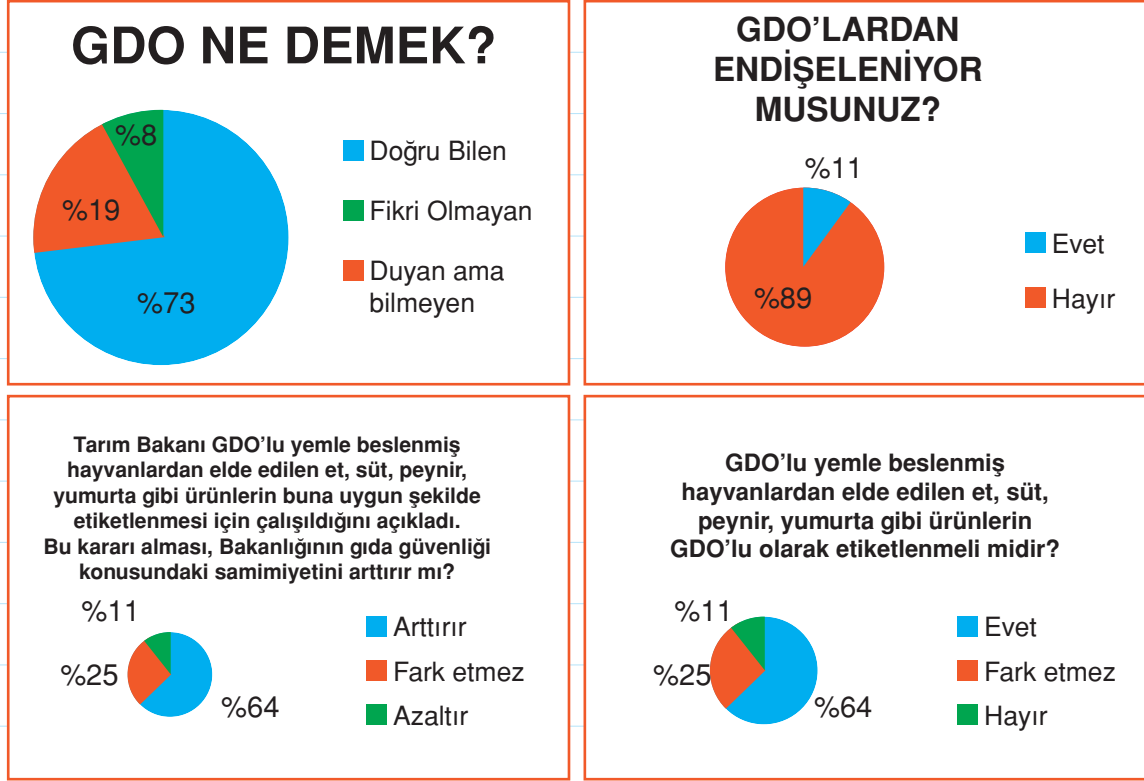
2 Aşağıda verilen ifadeler doğru ise D, yanlış ise Y yazın. (10P)

- Y** İnebahtı Deniz Savaşı ile Osmanlı Devleti Haçlıları bozguna uğratmıştır.
- D** Fransız soylularından, Türk kıyafetleri ile portresini çizdirenler olmuştur.
- D** Enderun Mektebi, Osmanlı Devleti'nde yönetici yetiştirmiştir.
- Y** İstanbul ve Çanakkale Boğazlarının önemi, coğrafi keşiflerden sonra artmıştır.
- Y** Türkiye Cumhuriyeti Devleti, dinî temeller üzerine kurulmuştur.

3 Aşağıdaki sözcüklerle, ilgili oldukları ifadeleri eşleştirin. (10P)

- d III. Selim'in kurduğu gizli ordu.
- f II. Mahmut'un kurduğu ocak.
- a İlk kâğıt parayı bastıran padişah.
- c Coğrafi keşiflerden sonra oluşan tüccar sınıfı.
- b Meslek seçiminde etkili olan faktörlerden biri.
- a Abdülmecit
- b Yetenek
- c Burjuva
- d Nizam-ı Cedid
- e II. Mahmut
- f Sekban-ı Cedid

4 Aşağıda verilen akademik beceri sorusunu yanıtlayın. (20P)



GDO ile ilgili sorulan sorulara verilen yanıtları gösteren yukarıdaki grafiklere göre GDO ile ilgili halkı bilinçlendirmek için

- Kamu spotu reklamlar yayınlamak
 - Vatandaşın, GDO'lu ürünler yemesi için kendi ürünlerini kendilerinin yetiştirmesini sağlamak
 - GDO'lu ürünler ve toplum sağlığını konu edinen ders programlarını müfredata ekleyerek, GDO'lu ürünler ve sağlıklı beslenme hakkında farkındalık oluşturmuş bireyler yetiştirmek
- hangisi sorunu çözmek için kullanılırsa daha etkili bir yol izlenmiş olur?

Halkı bilinçlendirmek için GDO'lu ürünler ve toplum sağlığını konu edinen ders programları müfredata eklenmeli, GDO'lu ürünler ve sağlıklı beslenme hakkında farkındalık oluşturulmalıdır.

TEST (10 x 5 = 50P)

5 Aşağıdaki çoktan seçmeli soruları yanıtlayın.

1. I. Kişinin ilgi ve yetenekleri
II. Babanın isteği
III. Fiziksel özellikler

Yukarıda verilenlerden hangileri meslek seçiminde etkilidir? Ü.5-K.6

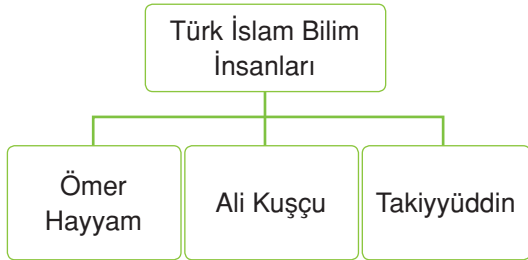
- A) I ve II **B) I ve III**
C) II ve III D) I, II ve III

2. I. Koçi Bey Risalesi'ni hazırlattı.
II. Avrupa usulü, kendi adına çeşme yaptırdı.
III. Avrupa'ya seyahat etti.

Yukarıda faaliyetleri verilen padişahlar ile seçenekler eşleştirildiğinde hangi seçenek boşta kalır? Ü.3-K.8

- A) IV. Murat B) Abdülaziz
C) I. Mahmut D) III. Ahmet

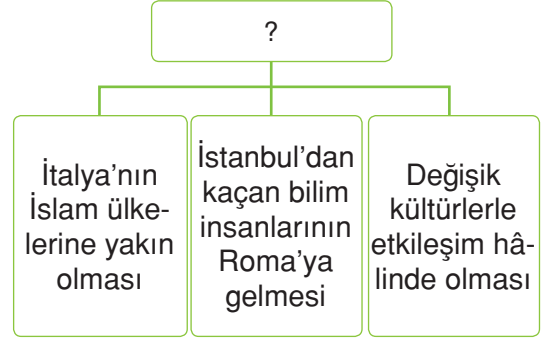
3.



Yukarıdaki diyagramda verilen bilim insanlarının çalıştıkları ortak bilim hangisidir? Ü.4-K.3

- A) Felsefe B) Edebiyat
C) Astronomi D) Tıp

4.



Verilen tabloya, aşağıdaki başlıklardan hangisi yazılmalıdır? Ü.4-K.4

- A) İtalya ve Gelişim
B) İtalya'da Reform'un Başlamasının Nedenleri
C) İtalya'da Sanayi İnkılabı'nın Nedenleri
D) İtalya'da Rönesans'ın Başlamasının Nedenleri

5.

	Sanayi İnkılabı	Rönesans
İşçi sınıfı ortaya çıktı.	✓	
Skolastik düşünce yayıldı.		✓
Hümanizm akımı ortaya çıktı.	✓	
Sömürgecilik faaliyetleri başladı.	✓	
Reform hareketlerine zemin hazırladı.	✓	

Yukarıdaki tabloda sosyal bilgiler dersinde Zehra'nın yanıtladığı etkinlik verilmiştir.

Her soru 5 puan olduğuna göre Zehra bu etkinlikten kaç puan almıştır? Ü.4-K.4

- A) 10 **B) 15** C) 20 D) 25

6. I. Cami II. Kale
III. İmarethane IV. Sur
V. Köşk

Osmanlı Devleti zamanında, yukarıda verilenlerin hangilerinin giderleri vakıflardan sağlanmamıştır? Ü.5-K.4

- A) III, IV ve V B) II, IV ve V
C) I, III ve V D) I, II ve IV

7. ✓ İlk Türk devletlerinde devlet işlerinin görüşüldüğü yer.
✓ Yönetme yetkisinin Tanrı tarafından verildiği inancı.
✓ Padişahın yanında, halkında yönetime katıldığı yönetim biçimi.

Verilen maddeler aşağıdaki kavramlarla eşleştirildiğinde hangi seçenek boşta kalır? Ü.6-K.1

- A) Meşrutiyet B) Kengeş
C) Kut D) Oligarşi

8. I. Sened-i İttifak
II. Tanzimat Fermanı
III. 1924 Anayasası

Yukarıda verilen bilgilerden hangisi ya da hangileri padişahın yetkilerini sınırlamıştır? Ü.6-K.1

- A) Yalnız I B) I ve II
C) II ve III D) I, II ve III

9. **Ferhat Öğretmen:** Çocuklar! Osmanlı Devleti'nin Avrupa'dan etkilenmesi mimari alana da yansımıştır ve Osmanlı, Avrupa mimarisini yansıtan saraylar yapmıştır. Bu saraylar hangileridir?

Emre : Dolmabahçe Sarayı

Ebru : Topkapı Sarayı

Sena : Çırağan Sarayı

Can : Yıldız Sarayı

Ferhat Öğretmen'in sorusuna hangi öğrenci yanlış yanıt vermiştir? Ü.3-K.3

- A) Ebru B) Sena
C) Emre D) Can

10.

Yasama	?	TBMM
Yürütme	?	Bakanlar Kurulu Cumhurbaşkanı
Yargı	?	Bağımsız Mahkemeler

Yukarıdaki tabloda ülkemizde yönetimde görevli organlar ve görevleri eşleştirilmiştir.

Buna göre “?” olan yerlere aşağıdakilerden hangisi yazılamaz? Ü.6-K.3

- A) Kanun çıkarma
B) Yasaların anayasaya uygunluğunu denetleme
C) Yasaları uygulama
D) Kanunlara uymayanları cezalandırma

Adı / Soyadı:.....

Sınıfı:.....

Numarası:.....

Soru	1	2	3	4	5	6	Toplam
Puan							

2. DÖNEM 2. YAZILI SORULARI (5)

1 Aşağıdaki cümlelerde boş bırakılan yerlere uygun ifadeleri yazın. (10P)

- iktidar partisi
- III. Ahmet
- matematik
- astronomi
- merkezi krallık
- Derebeylikler
- Fetret Devri
- Tıp
- Yazı
- Damat İbrahim Paşa

- a I. Bayezit ile Çelebi Mehmet arasında geçen 11 yıllık döneme **Fetret Devri** denir.
- b Topların surları yıkması ile, **derebeylik** zayıflamış **merkezî krallık** güçlenmiştir.
- c Lale Devri'nde padişah, **III. Ahmet** sadrazam ise **Damat İbrahim Paşa** dır.
- d Bilgi aktarımı **yazı** sayesinde artmıştır.
- e Türk İslam bilim insanları **astronomi**, **matematik** ve **tıp** alanlarında çalışmalar yapmıştır.
- f Seçimlerden sonra en çok oyu alıp ülkeyi yöneten partiye, **iktidar partisi** denir.

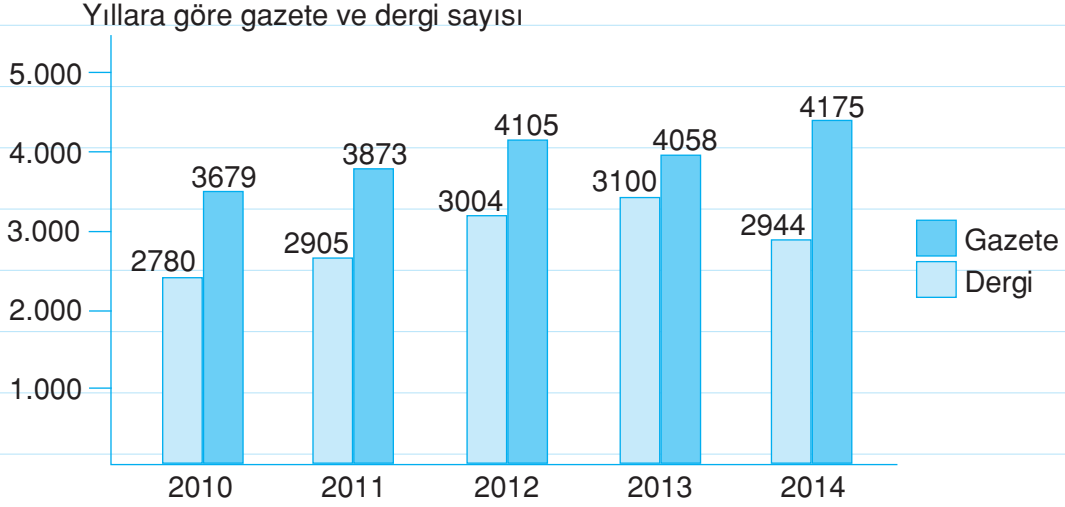
2 Aşağıda verilen ifadeler doğru ise D, yanlış ise Y yazın. (5P)

- Y** II. Osman Yeniçeri Ocağını kaldırmıştır.
- Y** İstibdat döneminde padişahın yanında halk da yönetime katılmıştır.
- D** Avrupa Rönesans ve Reform hareketleri ile gelişme göstermiştir.
- Y** Ziraat Bankası Türkiye Cumhuriyet'i döneminde kurularak tarıma destek vermiştir.
- D** Kamuoyu oluşturmada basının rolü büyüktür.

3 Aşağıdaki sözcüklerle, ilgili oldukları ifadeleri eşleştirin. (5P)

- a Hakan
- b Çanakkale Boğazı
- c Hilal
- d Cebelitarık Boğazı
- e Levni
- f Kitab-ı Bahriye
- e Lale Devri'ndeki ünlü minyatür sanatçısı.
- c Mehter takımının düzeni.
- f Piri Reis'in haritacılık kitabı.
- d Akdeniz ve Atlas Okyanusu'nu birbirine bağlar.
- a İslamiyet'ten önce Türk devletlerinde yönetici.

4 Aşağıda verilen akademik beceri sorusunu yanıtlayın. (20P)



Grafiğe göre aşağıdaki tabloyu doğru-yanlış şeklinde değerlendirin.

	Doğru	Yanlış
2012 yılında dergi sayısı, gazete sayısından daha fazladır.		✓
2013 yılında gazete sayısını gösteren sütun, 2011 yılında dergi sayısını gösteren sütun ile değiştirilirse, 2013 yılında gazete sayısı dergi sayısından fazla olur.		✓
2010-2014 yılları arasında gazete ve dergi okuyanların sayısı artmıştır.	✓	

5 Aşağıda verilen açık uçlu soruyu yanıtlayın.(10P)

Medyanın kamuoyu oluşturmadaki rolünü kısaca açıklayın.

Kamuoyu, halkın bir konu ile ilgili genel düşünceleridir. Medya, kamuoyu oluşturmada en etkili araçlardan biridir. Bir düşüncenin gündeme alması, toplumun düşüncelerinin şekillenmesini sağlar. Demokratik bir ülke olmamız medyaya farklı işlevler de yükler. Örneğin; yasama, yürütme, yargı güçlerini takip eder, eleştirir ve bu konuyla ilgili halkı bilgilendirir. Farklı görüş ve düşüncelere yer vermesi ile de çeşitli düşüncelerin şekillenmesine katkı sağlar.

TEST (10 x 5 = 50P)

6 Aşağıdaki çoktan seçmeli soruları yanıtlayın.

1. Aşağıdaki öğrenciler, Osmanlı Devleti için olumlu sonuçlanan savaşları konuşuyorlar;

Sıla : Sazlıdere Savaşı

Kerim: Ankara Savaşı

Ceren: Sırpsındığı Savaşı

Ali : Çaldıran Savaşı

Buna göre hangi öğrenci yanlış bilgi vermiştir? Ü.3-K.3

- A) Ceren B) Ali
C) Sıla **D) Kerim**

2. ✓ Batı tarzı ilk üniversite
✓ Aydın - İzmir arasında ilk demir yolu
✓ İlk telgraf hattı

Verilen yenilikler aşağıdaki alanlarla eşleştirildiğinde hangi seçenek boşa kalır?

Ü.3-K.8

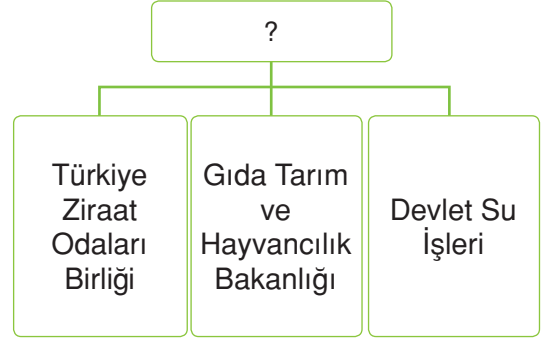
- A) Ekonomi** B) Ulaşım
C) Eğitim D) Sosyal

3. Sümerliler Ziggurat denilen tapınaklarını üç katlı yapılarıdır. İlk kat tahıllarını depoladıkları ambar, ikinci kat ibadethane, üçüncü kat ise gökyüzünü inceledikleri gözlemevi olarak kullanılırdı. Tapınaklarda bulunan tahılların kayıtlarını tutmak için simgesel şekiller geliştiren Sümerler, zamanla bu şekilleri sembollere dönüştürdüler.

Yukarıdaki metinde aşağıdaki bilgilerden hangisine ulaşamaz? Ü.4-K.2

- A) Sümerler, tarımla uğraşmışlardır.
B) Yazının bulunması, ürünlerin kayıt altına alınma ihtiyacından doğmuştur.
C) Etkileşim sonucu yazı, başka uygarlıklar tarafından da kullanılmıştır.
D) Sümerler, bilimle uğraşmışlardır.

4.



Yukarıdaki diyagrama verilecek başlık hangisidir? Ü.5-K.1

- A) Toprak ve Yönetim
B) Tarım ve Sanayi
C) Tarımda Destek Veren Kuruluşlar
D) Tarımsal Faaliyetler

5.

Laik Devlet	Din ve vicdan özgürlüğü vardır.
Sosyal Devlet	Uluslararası alanda aktiftir.
Hukuk Devleti	Herkes kanun önünde eşittir.
Demokratik Devlet	Egemenlik halka aittir.

Yukarıdaki tabloda Cumhuriyet'in özellikleri verilmiştir.

Tablodaki bilgilerden hangisi yanlış verilmiştir? Ü.6-K.2

- A) Demokratik Devlet
B) Hukuk Devleti
C) Laik Devlet
D) Sosyal Devlet

6.

	Doğru	Yanlış
I. Vakfiye sözleşmesi ile kurulur.	✓	
II. Padişah onaylar.	✓	
III. Kadı izin verir.		✓
IV. Daha sonra padişah şartları değiştiremez.		✓

Yukarıdaki tabloda Koray'ın vakıfların özellikleri ile ilgili yaptığı etkinlik verilmiştir.

Her soru 5 puan olduğuna göre Koray bu etkinlikten kaç puan almıştır? Ü.5-K.4

- A) 5 **(B)** 10 C) 15 D) 20

7. ✓ Üye sayısını, malların kalitesini ve fiyatları belirlemek
 ✓ Arz - talep dengesine dikkat etmek
 ✓ Müşterilerin haklarını korumak
 ✓ Üretimi ihtiyaca göre belirlemek

“Ahilik” teşkilatına ait verilen bilgiler doğrultusunda aşağıdaki yargılardan hangisine ulaşılamaz? Ü.6-K.3

- A) Tüketici haklarını korur.
 B) Üretici haklarını korur.
 C) İsraftan kaçınmayı sağlar.
(D) Esnafın vergi vermesini sağlar.

8. I. İlk kez padişahın yetkileri kısıtlanmıştır.
 II. İlk kez hukukun üstünlüğü kabul edilmiştir.

III. İlk kez halk yönetime katılmıştır.

Yukarıda verilen özelliklere ait kavramlar hangi seçenekte sırasıyla verilmiştir? Ü.6-K.1

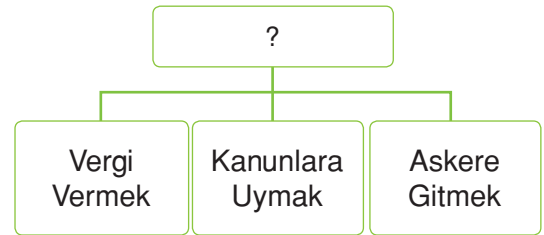
- A) Tanzimat Fermanı - Islahat Fermanı - I. Meşrutiyet
(B) Sened-i İttifak - Tanzimat Fermanı - I. Meşrutiyet
 C) Tanzimat Fermanı - I. Meşrutiyet - II. Meşrutiyet
 D) Sened-i İttifak - I. Meşrutiyet - II. Meşrutiyet

9. ✓ Çıkarılan kanunların anayasaya uygunluğunu denetler.
 ✓ Adli mahkemeler tarafından verilen kararların son inceleme yeridir.
 ✓ Yönetimin yargı yoluyla denetlenmesini yapar.

Yukarıdaki açıklamalar, aşağıdaki kavramlarla eşleştirildiğinde hangi seçenek boşta kalır? Ü.6-K.3

- (A)** Sayıştay
 B) Yargıtay
 C) Anayasa Mahkemesi
 D) Danıştay

10.



Yukarıdaki tabloya verilecek başlık hangisidir? Ü.6-K.3

- A) Devletin, Vatandaşa Karşı Sorumlulukları
(B) Vatandaş Olma Sorumluluğu
 C) Hayattaki Kurallar
 D) İyi Vatandaşın Görevleri

Adı / Soyadı:

Sınıfı:

Numarası:

Soru	1	2	3	4	5	Toplam
Puan						

2. DÖNEM 3. YAZILI SORULARI (1)

1 Aşağıdaki cümlelerde boş bırakılan yerlere uygun ifadeleri yazın. (10P)

- Baharat Yolu
- eşitlik
- Protestanlık
- millî egemenlik
- düşünce özgürlüğü
- anglikanizm
- monarşi
- İbrahim Müteferrika
- Kalvenizm
- Sait Efendi

- a** Lale Devri'nde ilk özel matbaayı **İbrahim Müteferrika** ve **Sait Efendi** kurmuştur.
- b** Kiliseye duyulan güven sarsılınca, Avrupa'da mezhep birliği bozulmuş; **Protestanlık**, **Anglikanizm**, **Kalvenizm** gibi mezhepler ortaya çıkmıştır.
- c** **Baharat Yolu** Hindistan'dan başlayıp Avrupa'ya kadar giden, değerli baharatların taşıdığı yoldur.
- d** “**Monarşi**” devletin başında, sultan ya da padişahın bulunduğu sistemdir.
- e** Demokrasinin ilkelerine **millî egemenlik**, **eşitlik** ve **düşünce özgürlüğü** örnek verilebilir.

2 Aşağıda verilen ifadelerin başına doğru ise D, yanlış ise Y yazın. (5P)

- Y** 2. Meşrutiyet'in ilanında Jön Türkler etkili olmuştur.
- D** Hareketli matbaa ilk defa Alman bilim insanı tarafından bulunmuştur.
- Y** Avrupa'daki gelişmeleri, Osmanlı yakından takip etmiştir.
- D** Yürütme yetkisini cumhurbaşkanı kullanır.
- D** Kızılay, AKUT gibi kuruluşlar sivil toplum örgütlerine örnektir.

3 Aşağıdaki sözcüklerle, ilgili oldukları ifadeleri eşleştirin. (10P)

- d** Coğrafi keşiflerin yapılmasında etkili olan araç. **a** TEMA
- f** Tımar Sistemi'nin Selçuklu Devleti'ndeki adı. **b** 31 Mart
- a** Erozyona karşı mücadele veren sivil toplum örgütü. **c** Sömürgecilik
- b** Rejime karşı çıkan ilk isyan. **d** Pusula
- c** Sanayi İnkılabı ile ortaya çıkan durum. **e** Milliyetçilik
- f** İkta

4 Aşağıda verilen akademik beceri sorusunu yanıtlayın. (20P)

Dünyada F1 yarışlarından sonra en fazla izleyici kitlesi olan spor dalı futboldur. Futbol müsabakalarını karşı iki takımın taraftarları tribünlerden canlı olarak izleyebilir. Dünya genelinde bir sorun olan holiganlık son yıllarda özellikle Arap Devletlerinin başının belası. 2015 yılında Fas'ta 16 kişi hayatını kaybetti, 54 kişi stadyumda maç izlerken tribün terörüne yenildi.

Fas yönetimi bu tribün terörünü yenmek için;

- ✓ Müsabakaları seyircisiz oynatmak
- ✓ Her 10 taraftara bir polis memura vererek
- ✓ Stad çevresinde geniş güvenlik önlemi olarak
- ✓ İnsanları maç izleme ve holigan olmamaları konusunda bilinçlendirmek

Çözümlerinden hangisini uygularsa maç anında ölüm ve yaralı sayısını azaltmayı başarabilirler?

İnsanları maç izleme ve holigan olmamaları konusunda bilinçlendirmek en doğru çözüm yolu olacaktır.

TEST (10 x 5 = 50P)

5 Aşağıdaki çoktan seçmeli soruları yanıtlayın.

1. Çevre sorunları günümüzde artmış ve canlı yaşamı için büyük tehlike hâline gelmiştir.

Aşağıdaki verilenlerden hangisi çevre sorunlarını azaltmak için yapılması gerekenler arasında yer almaz? Ü.7-K.3

- (A) Fosil yakıt kullanılması
B) İnsanların bilinçlendirilmesi
C) Yenilenebilir enerji kaynaklarının kullanılması
D) Tasarruf tedbirlerinin alınıp uygulanması

2. I. İlimiye
II. Kalemîye
III. Seyfiye

Yukarıda verilenlerden hangisi ya da hangileri medreselerde eğitim görür? Ü.5-K.5

- (A) Yalnız I
B) Yalnız II
C) I ve II
D) I, II ve III

3. I. Askerî Yargıtay
II. Uyuşmazlık Mahkemesi
III. Sayıştay

Yukarıda verilenlerden hangileri yüksek mahkemeler arasında yer alır? Ü.6-K.3

- A) I ve II
B) I ve III
C) II ve III
(D) I, II ve III

4. ✓ Türkiye Devleti bir cumhuriyettir.
✓ ... Atatürk milliyetçiliğine bağlı, başlangıçta belirtilen temel ilkelere dayanan demokratik, laik ve sosyal bir hukuk devletidir.
✓ Türkiye Devleti, ülkesi ve milleti ile bölünmez bir bütündür. Dili Türkçedir. Bayrağı, şekli kanunda belirtilen, beyaz ay yıldızlı al bayraktır. Millî marşı "İstiklal Marşı"dır. Başkenti Ankara'dır.
✓ Devletin temel amaç ve görevleri Türk milletinin bağımsızlığını ve bütünlüğünü, ülkenin bölünmezliğini, cumhuriyeti ve demokrasiyi korumak, kişilerin ve toplumun refah, huzur ve mutluluğunu sağlamak...

Yukarıda 1982 Anayasası'nın bazı maddeleri verilmiştir.

Bu maddelerden kaç tanesi değiştirilemeyecek hükümler arasında yer alır? Ü.6-K.2

- A) 1
B) 2
(C) 3
D) 4

5.

I	İslamiyet'ten önce Türk devletlerinde yönetme yetkisinin Tanrı tarafından verilmesi.	Kut Anlayışı
II	İslamiyet'in kabulünden sonra Türklerde devlet işlerinin görüşüldüğü kurum.	Divan
III	Osmanlı Devleti'nin ilk anayasası.	Teşkilat-ı Esasi
IV	TBMM'nin ilk anayasası.	Kanun-i Esasi

Yukarıdaki tabloda geçmişten günümüze yönetimde uygulanan faaliyetler verilmiştir.

Buna göre tablonun doğru olması için kaç numaralı bilgilerde değişiklik yapılması gerekir? Ü.6-K.1

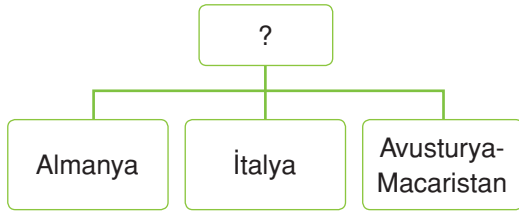
- A) I ve II
B) II ve III
C) I ve IV
(D) III ve IV

6. I. Mısır'da, İngilizlerin sömürgesinin bulunması
II. Osmanlı'nın, deniz gücünün olmaması
III. İtalya'ya yakın olması

Yukarıda verilen bilgilerden hangisi ya da hangileri İtalya'nın Trablusgarp'a saldırmasının nedenleri arasında gösterilebilir? Ü.7-K.1

- A) Yalnız I B) I ve II
C) II ve III **D) I, II ve III**

7.



Yukarıdaki diyagrama verilebilecek en uygun başlık aşağıdakilerden hangisidir? Ü.4-K.9

- A) İtilaf Devletleri**
B) İttifak Devletleri
C) Taraf Değiştiren Devletler
D) Galip Olan Devletler

8. ✓ Taarruz cephesidir.
✓ Doğu Anadolu'dan Rusları atmak için açılmıştır.
✓ Görevli komutan Enver Paşa'dır.

Yukarıda özellikleri verilen cephe hangisidir? Ü.7-K.2

- A) Kafkas** B) Kanal
C) Suriye - Filistin D) Irak

9. I. Wilson ilkelerinin yayınlanması
II. Bulgaristan'ın savaştan çekilmesi
III. Osmanlı'nın birçok cephede galip gelmesi

Yukarıda verilen maddelerden hangisi ya da hangileri Osmanlı Devleti'nin 1. Dünya Savaşı'ndan çekilme nedenleri arasında gösterilebilir? Ü.7-K.2

- A) Yalnız I** B) Yalnız II
C) I ve II D) I, II ve III

10. Sanayi İnkılabı'nın gerçekleşmesi ile insan gücünden makine gücüne geçildi. Tarımın önemi azalırken hızla sanayi şehirleri oluşmaya başladı. İletişim ve ulaşımda da Sanayi İnkılabı'na paralel gelişmeler yaşandı. Artan üretim fabrikalarda işlenecek ham madde ihtiyacını ortaya çıkarırken üretilen mallar için pazar arayışları da yaşandı.

Verilen metinden aşağıdaki yargılardan hangisi çıkarılamaz? Ü.3-K.6

- A) Sanayi İnkılabı ortaya çıkınca tarım yapılmamıştır.**
B) Sanayi İnkılabı ile şehirleşme hızlanmıştır.
C) Sanayi İnkılabı'na geçen ülkeler için işlenmemiş maddenin önemi artmıştır.
D) Seri üretim, pazar arayışına sebep olmuştur.

Adı / Soyadı:

Sınıfı:

Numarası:

Soru	1	2	3	4	5	Toplam
Puan						

2. DÖNEM 3. YAZILI SORULARI (2)

1 Aşağıdaki cümlelerde boş bırakılan yerlere uygun ifadeleri yazın. (10P)

- Aydın • bakanlar kurulu • Uşi • İngiliz • Van Kulu Lügati
- İzmir • Del Kano • mum • cumhurbaşkanı

- a** Lale Devri'nde ilk basılan eser "..... Van Kulu Lügati....." dir.
- b** Tanzimat döneminde İzmir ile Aydın arasına ilk demir yolu..... İngiliz..... şirketi tarafından yapılmıştır.
- c** Macellan ve..... Del Kano..... Dünya'yı dolaşip Dünya'nın yuvarlaklığını kanıtlamıştır.
- d** Yürütme görevi cumhurbaşkanı ve..... bakanlar kuruluna..... aittir.
- e** Trablusgarp Savaşı'nın sonunda Osmanlı Devleti..... Uşi..... Antlaşması'nı imzalamıştır.

2 Aşağıdaki ifadeler doğru ise D, yanlış ise Y yazın. (10P)

- Y** Memleket Sandıkları 1888 yılında kapanmıştır.
- D** "Dünya dönüyor." diyen Galileo kilise tarafından yargılanmıştır.
- D** Ülkemiz dünya ticaret yolları için önemli bir konumdadır.
- Y** Günümüzde vakıflar siyasi faaliyetler de yürütür.
- Y** Kanun tasarısı milletvekilleri tarafından TBMM başkanlığına verilir.

3 Aşağıdaki sözcüklerle, ilgili oldukları ifadeleri eşleştirin. (10P)

- c** Daha önce bilinmeyen yeni bir bulguya ulaşma.
- f** Gazneli Mahmut'un "Sarayımın en değerli hazinesi" dediği bilim insanı.
- a** Timur'un torunudur ve Semerkant'ta rasathane yaptırmıştır.
- b** Türk milleti adına yargı yetkisini kullanır.
- e** İç hukuk yollarında sorun çözülmediğinde başvuru yapılabilen kurum.
- a** Uluğ Bey
- b** Bağımsız Mahkemeler
- c** Buluş
- d** Yargıtay
- e** AİHM
- f** Biruni

4 Aşağıda verilen akademik beceri sorusunu yanıtlayın. (20P)

Atmosferde bulunan ozon tabakası çeşitli etkiler sonucu incelmektedir. Bu incelme delinme olarak adlandırılıyor. Atmosferdeki ozonun yaklaşık %90'ı yeryüzünden itibaren 10 - 40 km arası yükseklikte ve stratosfer tabakasında bulunur. Bu bölgedeki ozonun özelliği; tüm canlı varlıkları, doğal kaynakları ve tarımsal ürünleri olumsuz yönde etkileyen ultraviole (UV) ışınlarını absorbe etmesidir. Ozon yoğunluğunun ultraviole ışınlarını tutma görevini yapamayacak kadar azalması, "ozon tabakasının delinmesi" olarak adlandırılmaktadır. Ozon tabakasının incilmesi sonucunda; UV-b radyasyonu artmakta ve insanların bağışıklık sistemleri zarar görmekte, görme bozukluğuna ve deri kanserine yol açmaktadır.

Ozon tabakasının incelmesine sebep olan ve kloroflorokarbon ihtiva eden maddelerin başında klor türevleri, plastik köpükler (strafor), spreylere, aerosoller ve yangın söndürücüler gelmektedir.

Karadelik ozon tabakasını bir karbon bileşiği olan, plastikten köpüğe ve buzdolaplarından motorlu taşıtların klima cihazlarına, parfüm ve deodorant gibi spreylere ve bitmiş bataryalardan salınan (akü vb.), kloroflorokarbon adı verilen bir gaz bileşiğidir ve ozon tabakasını deler. Küresel bir sorun olan ozon tabakasının delinmesi, sadece bir kaç ülkeyi değil aynı zamanda tüm dünya devletlerini yeryüzündeki tüm insanoğullarının sorunudur. Küresel bir sorun olan Ozon Tabakasının Delinmemesi için tüm ülkeler seferber olmuş çeşitli önlemler almıştır.

Buna göre ozon tabakasının korunması adına neler yapılabileceğini örneklerle yazın.

Saç spreyi ve benzerlerini az kullanın veya ozonla dost yazısı olup olmadığına kontrol edin. Ayrıca bitmiş akü, TV tüpü gibi elektronik eşyalardan da bu zararlı kimyasal gazlar ortaya çıkıyor. Ozon bizim için çok önemli. Lütfen onu koruyalım.

TEST (10 x 5 = 50P)

5 Aşağıdaki çoktan seçmeli soruları yanıtlayın.

1.

I	Şuray-ı Devlet	Meşrutiyet Dönemi
II	Mühendishane-i Berri Hümayun	II. Mahmut
III	Asakir-i Mansure-i Muhammediye	III. Selim
IV	Koçi Bey Risalesi	IV. Murat
V	Mebusan Meclisi	Tanzimat Dönemi

Yukarıdaki tabloda bazı yenilikler ve yapıldığı dönemler eşleştirilmiştir.

Tablonun doğru olması için hangi bilgilerin yer değiştirmesi gerekir? Ü.5-K.8

- A) I - II, III - V
 B) II - IV, I - III
 C) I - V, II - III
 D) I - IV, II - III

2. Aşağıdaki verilenlerden hangisi Coğrafi Keşiflerin sosyal sonuçlarındanır?

Ü.4-K.4

- A) Hristiyanlık yeni yerlere yayıldı.
 B) Ticaretle ilgilenen burjuva sınıfı oluştu.
 C) Keşfedilen yerlerdeki madenler Avrupa'ya getirildi.
 D) Keşifleri destekleyen ülkeler güçlendi.

3. I. Sosyal yardımlaşmayı sağlar.
 II. Medreselerin, camilerin vb. yapıların yanında bulunurlar.
 III. Gelirlerinin bir kısmı ile kışla yapılıır.

Yukarıda verilen bilgilerden hangisi ya da hangileri Osmanlı Devleti'ndeki vakıfların özellikleri arasındadır? Ü.5-K.4

- A) Yalnız I
 B) Yalnız II
 C) I ve II
 D) I, II ve III

Merhaba arkadaşlar; ben Kağan. İlimize ait spor kulübünde futbolcuyum. Ortaokul yıllarımda iyi bir sporcu olmak istiyordum ve bu isteğimi sınıf rehber öğretmenim ile paylaştım. O da bana, eğitsel kulüplerde spor kulübünü seçersem bu idealimi daha kolay gerçekleştirebileceğimi söyledi. O yıllarda öğretmenimin de tavsiyesi ile spor kulübünü seçtim. Kulüp çalışmalarında yaptığımız bütün faaliyetler şu anda benim iyi bir sporcu olmamı sağladı.

4. ve 5. soruları yukarıdaki metne göre yanıtlayın.

4. Bu metinde meslek seçiminde vurgulanan en temel unsur aşağıdakilerden hangisidir? Ü.5-K.6

- A) İstedığımız mesleği ortaokul yıllarımda belirlemeliyiz.
 B) Okul hayatımızda aldığımız eğitim meslek hayatımızda önemli rol oynar.
 C) Kulüp seçerken öğretmenimize danışmalıyız.
 D) İyi bir sporcu olmak için spor kulübüne gitmeliyiz.

5. Metinde demokrasinin hangi ilkeleri vurgulanmıştır? Ü.6-K.5

- A) Katılım ve çoğunluk
 B) Eşitlik ve seçme seçilme hakkı
 C) Hukukun üstünlüğü ve eşitlik
 D) Seçme- seçilme hakkı, düşünce özgürlüğü

6. ✓ Gerektiğinde TBMM'yi toplantıya çağır-
mak
✓ Uluslararası antlaşmaları onaylayıp, çı-
kartmak
✓ Üniversite rektörlerini atamak
✓ Millî Güvenlik Kurulunu toplantıya ça-
ğırarak

**Verilen görevler aşağıdakilerden hangi-
sine aittir?**

Ü.6-K.3

- A) Başbakan B) TBMM
C) Bakanlar Kurulu **D) Cumhurbaşkanı**

7. I. Sömürgecilik
II. Milliyetçilik akımının etkisi
III. Osmanlı Devleti'ni Balkanlardan atma
isteği

**Yukarıda verilenlerden hangisi ya da
hangileri Trablusgarp Savaşı ve I. Dün-
ya Savaşı'nın ortak nedenleri arasında
gösterilebilir?**

Ü.7-K.1

- A) Yalnız I** B) II ve III
C) I ve III D) I, II ve III

8. Aşağıdaki öğrenciler, Almanya'nın Osmanlı
Devleti'nin kendi yanında, savaşa girmesini
isteme nedenlerini tartışıyorlar;

Naz : Yeni cephelerin açılmasını sağla-
yarak kendi yükünü hafifletmek

Gül : Osmanlı'nın Halifelik gücünden
yararlanmak

Umut : Osmanlı'nın teknik gücünden ya-
rarlanmak

Feyza : Osmanlı'nın coğrafi konumundan
yararlanmak

**Buna göre öğrencilerin söylediklerinden
hangisi yanlıştır?**

Ü.7-K.1

- A) Gül B) Feyza
C) Umut D) Naz

9. I. Osmanlı ordusu terhis edilecek, silah-
ları ve cephaneleri İtilaf Devletlerine
teslim edilecek
II. İtilaf Devletleri kendi güvenliklerini teh-
dit edecek bir durum ortaya çıkarsa
herhangi bir stratejik noktayı işgal ede-
bilecek
III. Toros tünelleri İtilaf Devletleri tarafın-
dan işgal edilecek

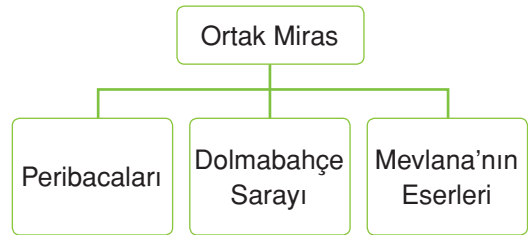
Yukarıda verilen Mondros Ateşkes Antlaş-
ması'nın maddelerinden bazıları verilmiştir.

**Bu maddelerden hangisi ya da hangileri
Osmanlı Devleti'nin topraklarının işgal
tehdidi altında olduğunu gösterir?**

Ü.7-K.1

- A) Yalnız I** B) Yalnız II
C) I ve II D) I, II ve III

10.



Yukarıdaki diyagramda ortak miras ürünle-
rinden bazıları verilmiştir.

**Verilen eserler ile aşağıdaki ortak miras
çeşitleri eşleştirildiğinde hangi seçenek
boşta kalır?**

Ü.7-K.4

- A) Bilim Mirası**
B) Düşünsel Miras
C) Doğal Miras
D) Tarih Mirası

Adı / Soyadı:

Sınıfı:

Numarası:

Soru	1	2	3	4	5	Toplam
Puan						

2. DÖNEM 3. YAZILI SORULARI (3)

1 Aşağıdaki cümlelerde boş bırakılan yerlere uygun ifadeleri yazın. (10P)

- Vaka-i Hayriye
- Fransız İhtilali
- Resmî Gazete
- Newton
- toprak
- cumhurbaşkanı
- Kopernik
- Tımar
- İmece
- Memleket Sandıkları

- a** Yeniçerilerin kaldırılması tarihe “ **Vaka-i Hayriye** ” olarak geçmiştir.
- b** Niş Valisi Mithat Paşa tarafından çiftçiyi rahatlatmak için, imece usulünün kullanıldığı **Memleket Sandıkları** kurulmuştur.
- c** Aydınlanma Çağı’nda, **Kopernik**, Newton gibi bilim insanları ön plana çıkmıştır.
- d** Çıkarılan kanun cumhurbaşkanının onayından geçtikten sonra **Resmî Gazetede** yayınlanır.
- e** 19. ve 20. yy.da Osmanlı Devleti’nde, **Fransız İhtilali’nin** etkisi ile birçok millet ayaklanmıştı.

2 Aşağıda verilen ifadeler doğru ise D, yanlış ise Y yazın. (10P)

- Y** Tanzimat ve Islahat Fermanı halkın yönetime katılmasını sağlamıştır.
- D** William Shakespeare, Rönesans dönemi sanatçılarından biridir.
- Y** Fatih Sultan Mehmet zamanında, “Baharat Yolu” Osmanlı Devleti’nin kontrolüne girmiştir.
- Y** Mecliste milletvekili bulunduran ancak birinci olamayan parti iktidar partisidir.
- D** Hızlı nüfus artışı toprak kirliliği, su kirliliği gibi sorunları beraberinde getirmiştir.

3 Aşağıdaki sözcüklerle, ilgili oldukları ifadeleri eşleştirin. (10P)

- e** Osmanlı’nın 17. yy.da ıslahat yaptığı alanlardan biri. **a** Panславизм
- d** Orhan Bey’in açtığı İznik’teki medresenin adı. **b** Sahn-ı Seman
- a** Rusya’nın Slav halkları üzerinde uyguladığı politika. **c** Kütüphane
- f** Almanya ile Fransa’nın arasının bozulmasına neden olan sorun. **d** Süleyman Paşa
- c** Düşünsel mirasların korunmasını sağlayan kurum. **e** Askerî
- f** Alsas-Loren

4 Aşağıda verilen akademik beceri sorusunu yanıtlayın. (20P)



Dünya, enerjisinin büyük bir bölümünü fosil yakıtları yakarak sağlamaktadır. Sadece petrol değil, kömür ve doğal gaz da dahil. Bu yanma sonucunda karbondioksit açığa çıkmaktadır. Karbon, yüz milyonlarca yıldır yeryüzündeki fosil yakıtlarda depolanmıştır. Özellikle son yüzyılda, büyük miktarlarda fosil yakıt yakılması sonucu, açığa çıkan karbondioksitte de artış olmuştur. Bütün karbondioksit at-

mosferde kalmaz; bir kısmı okyanus ve göl sularında çözünür ve bir kısmı da kalsiyum ve magnezyum karbonat formunda kayaya dönüşür. Fakat ölçümler, atmosferdeki karbondioksit miktarının her yıl yavaşça arttığını göstermektedir.

Gereksiz enerji tüketimi, evlerimizde yaktığımız lambaların bile küresel ısınmaya %0,004 oranında etki ettiğini biliyor muydunuz? Yenilenebilir enerji kaynakları kullanmaya özendirilmiş bir insanoğlu geleceğini daha iyi koruyacaktır.

Türkiye ÇEV-KOR (Çevre Koruma ve Araştırma Vakfı)'un Türkiye'nin küresel bir sorun olan bu problemde üzerine düşen sorumluluğu alması için geliştirdiği bir projede;

- Akşam saat 20.00'den sonra ülkedeki sivil vatandaşların kullandığı elektriği keserek, sadece resmî kurumlar ve hastanelerde elektrik kullanıma izin vererek,
 - Bahçe ve parkları, yeşil alanları korumak için levhalar asarak,
 - İlkokul ve ortaokulu kapsayan "Çevre Bilinci" adında bir dersi öğretim programına ekleyerek
- hangi ilke üzerinden giderse uzun vadede daha kesin bir çözüme ulaşılmış olur?**

İlkokul ve ortaokulu kapsayan "Çevre Bilinci" adında bir dersi öğretim programına ekleyerek uzun vadede daha kesin bir çözüm elde edilmiş olur. Çünkü bireyler küçük yaşta çevre bilinciyle büyüyüp, çevreyi ve doğayı korumayı bir zorunluluk değil alışkanlık hâline getirmiş olurlar.

TEST (10 x 5 = 50P)

5 Aşağıdaki çoktan seçmeli soruları yanıtlayın.

1. **Deniz Öğretmen:** Çocuklar, Osmanlı Devleti'nde egemenlik padişaha aitti ve son sözü padişah söylerdi ama son yıllarda padişah yetkilerini kısıtlamaya başlamıştır. Padişahın yetkilerini, kısıtlayan gelişmeler nelerdir?

Deniz Öğretmen'in sorusuna hangi öğrenci yanlış yanıt vermiştir? Ü.3-K.8

- A) **Erkan:** Sened-i İttifak'ın imzalanması
 B) **Suna:** Ülkenin padişah ve oğullarına ait olması
 C) **Sema:** Tanzimat Fermanı'nın ilan edilmesi
 D) **Öykü:** Meşrutiyetin ilan edilmesi

2. **Ali:** Skolastik düşünce zayıfladı.

Ayla: Eğitim laikleşti.

Emre: Deney, gözlem, araştırma gibi metodlar kullanılmaya başladı.

Yukarıdaki öğrenciler; Avrupa'da meydana gelen bazı gelişmelerin sonuçlarından söz etmişlerdir.

Buna göre öğrenciler aşağıdaki kavramlardan hangisinden söz etmemiştir?

Ü.4-K.4

- A) Reform
 B) Aydınlanma Çağı
 C) Rönesans
 D) Sanayi İnkılabı

3. ✓ Proje, Osmanlı Devleti zamanında tasarlanmıştır.
 ✓ Tamamlanması İngilizler tarafından gerçekleştirilmiştir.
 ✓ Akdeniz ve Kızıldeniz birbirine bağlanmıştır.

Verilen özellikler aşağıdaki ticaret yollarından hangisine aittir? Ü.6-K.4

- A) Süveyş Kanalı
 B) Don Volga Projesi
 C) Cebelitarık Boğazı
 D) İpek Yolu

4. I. Sıbyan Mektebi: Günümüzdeki ilkokulun karşılığıdır. II. Mahmut zamanında ülkede zorunlu olmuştur.
 II. Medrese: Günümüzde lise ve üniversite tarzı eğitim veren kurumdur. Okulların hizmetleri ücretsizdir.
 III. Ahilik Teşkilatı: Mesleki eğitim veren bir kurumdur. Esnaf için çırak, kalfa ve usta yetiştirir.
 IV. Enderun Mektebi: Devşirme sistemi ile alınan çocuklar burada eğitim alır ve yeniçeri olurdu.

Yukarıda Osmanlı Devleti'nin eğitim kurumları ile bilgiler verilmiştir.

Verilen bilgilerden hangileri doğrudur?

Ü.5-K.5

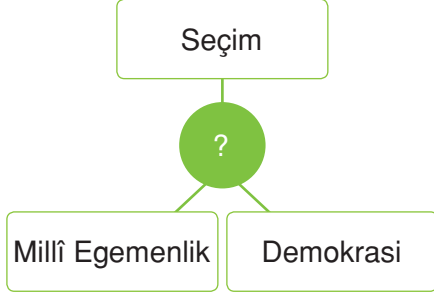
- A) I ve II
 B) II ve III
 C) I, III ve IV
 D) II, III ve IV

5. "Mustafa Kemal Atatürk, cumhuriyeti ilan edeceğini son ana kadar açıklamasa da cumhuriyeti ilan etmek onun hep aklındaydı..."

diyen bir tarih öğretmenin sözlerini, aşağıdakilerden hangisi destekler niteliktedir? Ü.6-K.2

- A) Cumhuriyet yönetim biçimi, Türk halkının yapısına uygun değildir.
 B) Atatürk'ün ilk amacı yurdu düşman işgalinden kurtarmaktır.
 C) Cumhuriyet'in ilanı için Fransız İhtilali'nin olması beklenmiştir.
 D) 1. Meşrutiyet'in ilanı ardından sonraki başarısızlık, cumhuriyetin ilanını geciktirmiştir.

6.



Yukarıda diyagramda “?” olan yere aşağıdakilerden hangisi yazılabilir? **Ü.6-K.4**

- A) Sosyal Devlet B) Laik Devlet
C) Hukuk Devleti **D) Demokratik Devlet**

7. **Ebru Öğretmen:** Çocuklar, Osmanlı Devleti I. Dünya Savaşı'nda birçok cephede savaşmıştır. Osmanlı Devleti'nin savunma cepheleri hangileridir?

Ebru Öğretmen'in sorusuna hangi öğrenci yanlış yanıt vermiştir? **Ü.5-K.8**

- A) **Betül** : Irak Cephesi
B) **Bulut** : Suriye Cephesi
C) Kerim : Kafkas Cephesi
D) **Lale** : Çanakkale Cephesi

8. Mustafa Kemal I. Dünya Savaşı'nda Çanakkale, Kafkas ve Suriye Cephelerinde savaşmıştır.

Çanakkale'de savaştığı yerler arasında aşağıdakilerden hangisi yer almaz?

Ü.7-K.1

- A) Derne** B) Conkbayırı
C) Anafartalar D) Arıburnu

9.

Bulgaristan	Karadağ
Romanya	Yunanistan

Yukarıdaki tabloda I. Balkan Savaşı'na katılan devletler verilmiştir.

Tablodaki yanlış bilginin kutusunu çıkardığımızda aşağıdaki şekillerden hangisi oluşur? **Ü.7-K.1**

- A) B)
C) D)

10.

Kanun Teklifi/ Tasarısı
?
?
Cumhurbaşkanının onayına sunulur.

Yukarıdaki tabloda kanun çıkarma süreci verilmiştir.

Buna göre “?” olan yerlere aşağıdakilerden hangisi gelemez? **Ü.6-K.2**

- A) Teklif ve tasarı yeterli oyu alınca kanun olur.
B) Komisyon tarafından rapor hazırlanır.
C) Resmî Gazete'de yayınlanır.
D) TBMM Genel Kurulunda görüşülür.

Adı / Soyadı:

Sınıfı:

Numarası:

Soru	1	2	3	4	5	6	Toplam
Puan							

2. DÖNEM 3. YAZILI SORULARI (4)

1 Aşağıdaki cümlelerde boş bırakılan yerlere uygun ifadeleri yazın. (10P)

- Danıştay
- Uyuşmazlık Mahkemesi
- Coğrafi Keşifler
- TBMM Başkanı
- Wilson İlkeleri
- İttihat ve Terakki Partisi
- Anayasa Mahkemesi
- Kristof Kolomb
- Milletler Cemiyeti
- Jön Türkler

- a I. Meşrutiyet **Jön Türklerin** baskısı ile II. Meşrutiyet ise **İttihat ve Terakki Partisinin** baskısı ile padişah Abdülhamit tarafından ilan edilmiştir.
- b Zenginlik kaynağı toprakken, **Coğrafi Keşifler** den sonra değerli madenler olmuştur.
- c “**Kristof Kolomb**” ölünceye kadar yeni bir kıtayı keşfettiğini anlamadı.
- d Cumhurbaşkanı'nın sakatlık, hastalık, ölüm gibi hâllerinde **TBMM Başkanı** Cumhurbaşkanı'na vekâlet eder.
- e **Anayasa Mahkemesi**, **Uyuşmazlık Mahkemesi** ve **Danıştay**, yüksek mahkemelere örnektir.
- f 1. Dünya Savaşı sonrası dünya barışını sağlamak için **Wilson İlkelerinde** geçen “**Milletler Cemiyeti**” kurulmuştur.

2 Aşağıda verilen ifadeler doğru ise D, yanlış ise Y yazın. (5P)

- D** II. Mahmut zamanında yapılan nüfus sayımında askere gidecek erkekler tespit edilmiştir.
- Y** Günümüzde egemenlik hakkı, Cumhurbaşkanı'na aittir.
- Y** 1982 Anayasası'nda “Devletin dini İslam'dır.” maddesi güvence altına alınmıştır.
- D** Balkan Savaşlarının en önemli sebebi milliyetçilik akımıdır.
- Y** Mustafa Kemal, Çanakkale Cephesi'nde gizli görevle bulunmuştur.

3 Aşağıdaki sözcüklerle, ilgili oldukları ifadeleri eşleştirin. (5P)

- a Almanya
- b Kitab-ı Bahriye
- c İtalya
- d Merkezî Krallık
- e İş Bankası
- f Ziraat Bankası
- d Derebeyliğin zayıflaması ile güçlenen yönetim sistemi.
- f Günümüzde çiftçilerin kredi ihtiyaçlarını karşılayan kurum.
- a Osmanlı Devleti'nin I.Dünya Savaşı'nda ittifak kurduğu devlet.
- c I. Dünya Savaşı'nda taraf değiştiren devlet.
- b Bilimsel miras ürünlerinden biri.

4 Aşağıda verilen akademik beceri sorusunu yanıtlayın. (20P)

Genel Sebepler	Özel Sebepler
Sanayi İnkılabı sonucunda devletler arasında pazar ve ham madde arayışından doğan sömürgecilik yarışı ve ekonomik rekabet	Almanya ile Fransa arasında Alsace Lorainne (Alsas Loren) bölgesinden doğan çekişme
Ekonomik yarışın devletler arası bloklama sebepleri	Avusturya - Macaristan İmparatorluğunun Bosna Hersek'i ilhakının Sırbistan ile arasında meydana getirdiği gerginlik
Devletler arası kutuplaşma	Avusturya - Macaristan İmparatorluğu veliahdının Bosna Hersek'i ziyaretinde bir Sırp tarafından öldürülmesi

Yukarıdaki tabloda, I. Dünya Savaşı'nın genel ve özel sebepleri verilmiştir. Genel sebeplerden yola çıkarak, I. Dünya Savaşı'nı başlamadan bitirmek için:

- ✓ Tüm devletlere eşit şekilde sömürge dağıtmak
- ✓ Ülkeler arasındaki bloklamaı engellemek için, ülkeler arasında barış antlaşması imzalatmak
- ✓ İnsanoğlunu; birbirine ve bağımsızlıklarına saygılı, emperyalizmi savunmayan, dünya barışına destek veren uluslararası bir platformda toplamak

hangisi doğrutusunda adım atılmış olmalıydı?

İnsanoğlunu birbirine ve bağımsızlıklarına saygılı, emperyalizmi savunmayan, dünya barışına destek veren uluslararası bir platformda toplayan bir adım atılsaydı savaşın çıkması engellenebilirdi. Çünkü savaşın sebebini başlamadan ortadan kaldırmış olurduk.

5 Aşağıda verilen açık uçlu soruyu yanıtlayın. (10P)

Mondros Ateşkes Antlaşması'nın maddelerini kısaca açıklayın. (En az 3 madde)

* Osmanlı'ya ait silahlar ve cephaneler İtilaf Devletlerine teslim edilecektir. Bu madde ile Osmanlı Devleti'nin savunma gücü kırılmak istenmiştir.

* 7. Madde: İtilaf Devletleri kendi güvenliklerini tehdit edecek bir durum ortaya çıkarsa herhangi bir stratejik noktayı işgal edebilecek. Bu madde antlaşmanın en tehlikeli maddesidir. Osmanlı Devleti'nin bütün topraklarını işgale açık hâle getirmiştir.

* 24. Madde: Doğu Anadolu'da 6 ilde karışıklık çıkarsa İtilaf Devletleri bu illerin herhangi bir bölümünü işgal edebilecek. Bu madde ile Doğu Anadolu Bölgesi'nde Ermeni Devleti kurmak istemişlerdir.

TEST (10 x 5 = 50P)

6 Aşağıdaki çoktan seçmeli soruları yanıtlayın.

1.

Victor Hugo	?
Aristoteles	?
Heredot	?

Yukarıdaki tabloda bilim insanları ve çalıştıkları alanlar eşleştirilmiştir.

Buna göre “?” olan yerlere gelecek alanlar arasında aşağıdakilerden hangisi yer almaz? Ü.4-K.4

- A) Edebiyat B) Tarih
C) Coğrafya D) Felsefe

2. Osmanlı Devleti'nde toprak sistemi mülk arazi ve miri arazi olarak ikiye ayrılır.

Buna göre verilenlerden;

- I. Toprağın mülkiyeti devlete aittir.
II. Toprağı alan kişiler cebelü yetiştirir.
III. Toprağı alan kişiler toprağı satabilir.

hangisi ya da hangileri miri araziye ait özellikler arasında gösterilebilir? Ü.5-K.1

- A) Yalnız I B) I ve II
C) II ve III D) I, II ve III

3.



Yukarıdaki diyagrama verilebilecek en uygun başlık hangisidir? Ü.6-K.1

- A) Yönetim Şekilleri
B) İslamiyet'ten Önce Türklerde Yönetim
C) Osmanlı Devleti'nde Yönetim
D) İslamiyet'ten Sonra Yönetim

4.

TEV	I. ?
LÖSEV	II. ?
TEMA	III. ?

Yukarıdaki tabloda bazı vakıflar ile faaliyet gösterdikleri alanlar eşleştirilmiştir.

Buna göre “?” olan yerlere aşağıdakilerden hangisi yazılmalıdır? Ü.5-K.4

- | | | |
|-----------|-----------|------------|
| <u>I</u> | <u>II</u> | <u>III</u> |
| A) Eğitim | Sağlık | Çevre |
| B) Çevre | Eğitim | Sağlık |
| C) Sağlık | Sağlık | Çevre |
| D) Çevre | Sağlık | Eğitim |

5. Osmanlı Devleti'ndeki medreseler günümüzdeki lise ve üniversite seviyesinde eğitim veren kurumlardı. Medreselerde eğitim işlerinden müderrisler sorumluydu ve her müderris en fazla 20 öğrenciden sorumlu olurdu. Öğrenciler sınavla alınır, kendi aralarında yeteneklerine ve zekâlarına göre farklı sınıflarda eğitim görürlerdi. Dinî eğitimin yanında; tarih, coğrafya, matematik vb. bilimlerin eğitimi de verilirdi.

Bu metinden aşağıdaki yargılardan hangisine ulaşılamaz? Ü.5-K.5

- A) Medreselerden mezun olanlar, ilmiye sınıfında görev almışlardır.
B) Sınıflar öğrenci düzeyine göre belirlenmiştir.
C) Öğrenciler dinî bilimlerin yanında pozitif bilimlerin eğitimi de almışlardır.
D) Sınıflar kalabalık değildir.

6.

I. Fırsat eşitliği	III. Halkın mutlu olması
II. Akılcılık	IV. Din ve vicdan özgürlüğü

Yukarıda tabloda cumhuriyetin niteliklerinin bazı özellikleri verilmiştir.

Bu nitelikler hangi seçenekte doğru gruplanmıştır? Ü.6-K.2

Sosyal Devlet**Laik Devlet**

- (A) I ve III II ve IV
 B) I ve II III ve IV
 C) II ve IV I ve III
 D) III ve IV I ve II

7.

- I. Yönetime karşı çıkmıştır.
 II. Yenilik karşıtı bir isyandır.
 III. Hareket Ordusu tarafından bastırılmıştır.

Yukarıda verilen özelliklerden hangisi ya da hangileri 31 Mart İsyanı'na aittir? Ü.7-K.1

- A) Yalnız I B) I ve II
 C) II ve III (D) I, II ve III

8.

- I. Nüfus artışı ve işsizlik
 II. Açlık ve yoksulluk
 III. Yenilenebilir enerji kaynaklarının tükenmesi

Yukarıda verilenlerden hangileri çevre sorunları arasında gösterilebilir? Ü.7-K.2

- (A) I ve II B) II ve III
 C) I ve III D) I, II ve III

9.

Özel Nedenler**Genel Nedenler**

I. Avusturya-Macaristan'ın Balkanları ele geçirmek istemesi	IV. Silahlanma yarışı
II. Almanya ve Fransa arasındaki Alsas - Loren bölgesi	V. Rusya'nın Panslavizm politikası
III. Ham madde ve pazar arayışı	VI. Milliyetçilik akımı

Yukarıdaki tabloda I. Dünya Savaşı'nın özel ve genel nedenleri verilmiştir.

Tablonun doğru olması için hangi bilgiler yer değiştirmelidir? Ü.7-K.1

- A) I ve IV (B) III ve V
 C) II ve VI D) I ve VI

10. **Kıraç:** Voltaire**Serpil:** Don Kişot**Tan:** Mona Lisa

Yukarıdaki öğrenciler ortak miras öğelerinden bazılarını sıralamışlardır.

Buna göre ortak miras öğeleri ait oldukları alanlarla eşleştirildiğinde hangi seçenek boşta kalır? Ü.7-K.4

- A) Edebiyat Mirası B) Düşünce Mirası
 (C) Doğal Miras D) Sanat Mirası

Adı / Soyadı:

Sınıfı:

Numarası:

Soru	1	2	3	4	5	Toplam
Puan						

2. DÖNEM 3. YAZILI SORULARI (5)

1 Aşağıdaki cümlelerde boş bırakılan yerlere uygun ifadeleri yazın. (10P)

- GAP
- külliye
- darümuallimat
- cami
- medrese
- Ziggurat
- Patrona Halil İsyanı
- Ay
- telgraf hattı
- Pasarofça Antlaşması

- a** 1718'de **Pasarofça Antlaşması** ile başlayan Lale Devri, 1730 **Patrona Halil İsyanı** ile sona ermiştir.
- b** Tanzimat Dönemi'nde iletişim alanında ilk **telgraf hattı** oluşturulurken, eğitim alanında bayan öğretmen okulu olan **Darümuallimat** açılmıştır.
- c** Sümerler, **Ziggurat** denilen tapınaklarının en üst katına gözlemevi yapmışlar ve buradaki çalışmaları ile **Ay** takvimini bulmuşlardır.
- d** Güneydoğu Anadolu'da tarımsal faaliyetleri geliştirmek için **GAP** uygulanmaktadır.
- e** **Cami**, **medrese** ve **külliye** vakıflar aracılığı ile yapılan yapılara örnektir.

2 Aşağıda verilen ifadeler doğru ise D, yanlış ise Y yazın. (5P)

- D** Orta Çağ'da, Türk İslam bilim insanları felsefe, coğrafya, tıp gibi alanlarda çalışmalar yapmıştır.
- D** Sanayi İnkılabı ile işçi sorunları gündeme gelmiştir.
- Y** Meslek seçerken sadece ailemizin istediği mesleği seçmeliyiz.
- D** İslamiyet'ten önce Türk devletlerinde Divan toplantılarında toy şenlikleri yapılırdı.
- Y** 31 Mart Olayı Osmanlı Devleti'nde halkın yönetime katılmasını sağlamıştır.

3 Aşağıdaki sözcüklerle, ilgili oldukları ifadeleri eşleştirin. (5P)

- b** III. Selim'in ordusu için kurduğu hazine. **a** TBMM
- f** II. Mahmut'un kurduğu askerî yapı. **b** İrad-ı Cedid
- a** Ülke yönetiminde yasama yetkisini kullanan organ. **c** Mısır
- d** Ülke yönetiminde yürütme yetkisini kullanan organ. **d** Bakanlar Kurulu
- e** Trablusgarp Savaşı ile Osmanlı'nın Kuzey Afrika'da kaybettiği son toprak parçası. **e** Trablusgarp
- f** Eşkinci Ocağı

4 Aşağıda verilen açık uçlu soruları yanıtlayın.

a I. Dünya Savaşı'nda Osmanlı'nın Almanya'nın yanında savaşa girmesini, Almanya açısından değerlendirin. (15P)

Geniş topraklara sahip olan Osmanlı, savaşa Almanya'nın yanında girerse Almanya'nın yükü hafifleyecekti. Ayrıca, coğrafi konum itibarıyla Boğazlara sahip olması, halifenin bütün Müslümanlar üzerinde etkili olacağına inanması da Almanya'nın Osmanlı'yı kendi yanında istemesine neden olan diğer sebeptir. Halife cihat çağrısı yaptığında, İtilaf Devletlerinin sömürgesindeki Müslümanlar, Osmanlı yanında savaşa girerse İtilaf Devletleri zor duruma düşecekti. Ancak Almanya'nın bu düşüncesi milliyetçilik akımı etkisi nedeniyle işe yaramadı. Bir diğer sebepse, Osmanlı'nın askerî gücünden yararlanmak istemesidir.

b 1. Dünya Savaşı'nda Osmanlı Devleti'nin cephelerdeki durumunu kısaca değerlendirin. (En az 2 cephe) (15P)

Osmanlı Devleti I. Dünya Savaşı'nda Çanakkale hariç bütün cephelerde başarısız olmuştur.

Kafkas Cephesi: Ruslara karşı açılan bu cephede Enver Paşa orduyu yönetmiştir. Ancak, ordumuzun kış şartlarına hazırlıksız olması sebebi ile büyük kayıplar verilmiştir. Ermeniler ile iş birliği yapan Ruslar, Erzurum'a kadar ilerlemiştir. Mustafa Kemal'in buraya atanması ile Rusların elinden Muş ve Bitlis alınmıştır.

Kanal Cephesi: İngilizlerin sömürgeleri ile bağlantılarını kesmek için Osmanlı Devleti'nin Almanya isteği ile açtığı cephe dir. İki kez taarruz edilse de başarılı olunamadı.

TEST (10 x 5 = 50P)

5 Aşağıdaki çoktan seçmeli soruları yanıtlayın.

1. I. Divan-ı Hümayun kaldırıldı, yerine Nazırlıklar kuruldu.
II. Tımar Sistemi kaldırıldı, memura maaş bağlandı.
III. Takvim-i Vekayi çıkarıldı.

Yukarıda II. Mahmut'un yaptığı yeniliklerden bazıları verilmiştir.

Bu yeniliklerden hangileri yönetim alanında yapılmıştır? Ü.3-K.8

- (A) I ve II B) II ve III
C) I ve III D) I, II ve III

2. **Perihan Öğretmen:** Çocuklar, coğrafi keşiflerin siyasi sonuçlarına örnek verir misiniz?

Perihan Öğretmen'in sorusuna hangi öğrenci doğru yanıt vermiştir? Ü.4-K.4

- A) **Metin :** Hristiyanlık, yayılma alanı bulmuştur.
B) **Hülya :** Avrupalılar tarafından değerli madenler öğrenilmiştir.
(C) **İşıl :** Kâşifleri destekleyen krallıklar güçlendi.
D) **Mert :** Ticaretle uğraşan burjuva sınıfı ortaya çıktı.

3. Coğrafi keşifler gerçekleşince dünya üzerinde ticaret yolları değişti ve Akdeniz Limanları'nın önemi azaldı. Bunun üzerine Osmanlı Devleti, Akdeniz ticaretini canlandırmak için.....I..... Projesi'nin temelini attı. Ancak Mısır'ın işgal edilmesi ile projeyi.....II..... tamamladı.

Verilen metindeki boş bırakılan yerlere aşağıdakilerden hangisi yazılmalıdır? Ü.5-K.2

- | | |
|-----------------------|-----------|
| I | II |
| A) Cebelitarık Boğazı | İngiltere |
| B) Cebelitarık Boğazı | Fransa |
| C) Süveyş Kanalı | Fransa |
| (D) Süveyş Kanalı | İngiltere |

4. I. Yağıbasan Medresesi
II. Süleyman Paşa Medresesi
III. Süleymaniye Medresesi

Yukarıda verilen medreselerden hangisi ya da hangileri Osmanlı Devleti tarafından yapılmıştır? Ü.5-K.5

- A) Yalnız I B) I ve II
(C) II ve III D) I, II ve III

5. ✓ Esnaflar arasında yardımlaşma ve dayanışmayı sağlar.

✓ Hileli iş yapan esnafa ceza verir.

✓ Tüketici haklarını korur.

Yukarıda Osmanlı Devleti'nde faaliyet gösteren bir kurumun özellikleri verilmiştir.

Aşağıdakilerden hangisi günümüzde bu kurumun yürüttüğü faaliyetlere benzer faaliyet gösterir? Ü.5-K.5

- A) Türk İşbirliği ve Koordinasyon Ajansı Başkanlığı
B) Türkiye İş Kurumu
(C) Esnaf ve Sanatkarlar Odası
D) Türk Eğitim Vakfı

6. I. İlteber
II. Hatun
III. Boy Beyleri

Yukarıda verilenlerden hangileri Kurultay toplantılarına katılırdı? Ü.6-K.1





- A) I ve II B) II ve III
C) I ve III (D) I, II ve III

7.

Siyasi Partiler	TÜİK
Sivil Toplum Örgütleri	Medya

Yukarıdaki tabloda bireylerin toplum yaşamında söz sahibi olma yolları verilmiştir

Buna göre tablodan yanlış bilgiyi çıkardığımızda aşağıdaki şekillerden hangisi oluşur? Ü.7-K.1

- A) 
- B) 
- C) 
- D) 

8. ✓ Osmanlı Devleti, İstanbul ve Gelibolu hariç Trakya topraklarının hepsini kaybetti.
- ✓ Bu olaydan sonra Arnavutluk bağımsızlığını kazandı.

Yukarıda özellikleri verilen olay hangisidir? Ü.7-K.1

- (A) 1. Balkan Savaşı
- B) 2. Balkan Savaşı
- C) Trablusgarp Savaşı
- D) 1. Dünya Savaşı

9. **Gül** : Savaş daha geniş bir alana yayıldı.

Murat : Savaşın süresi uzadı.

Eren : Bütün Müslümanlar Osmanlı Devleti'nin yanında savaşa katıldı.

Yukarıdaki öğrencilerden hangisi ya da hangilerinin söyledikleri Osmanlı Devleti'nin I. Dünya Savaşı'na girmesi ile gerçekleşmiştir? Ü.7-K.1

- A) Yalnız Gül
- B) Yalnız Murat
- (C) Gül ve Murat
- D) Gül, Murat ve Eren

10. I. Bu cephe devam ederken, Ruslarla iş birliği yapan Ermeniler Tehcir Kanunu ile Suriye tarafına göç ettirildi.

II. İngilizler, petrol bölgelerine sahip olmak için saldırıya geçti. İngilizler bölgede yaşayan Arapları bağımsızlık vaadi ile Osmanlı'ya karşı kışkırttı.

Bu cephele aşağıdaki seçeneklerin hangisinde doğru verilmiştir? Ü.7-K.1

- | | |
|--------------------|-----------------|
| I | II |
| A) Kanal | Irak |
| (B) Kafkas | Irak |
| C) Suriye-Filistin | Kanal |
| D) Kafkas | Suriye-Filistin |

